



**2023年4月16日内蒙古通辽事业单位招聘
《职业能力倾向测验》笔试精选题**

永岸公考网校

www.chinaexam.org

2023年4月16日内蒙古通辽事业单位招聘《职业能力倾向测验》笔试精选题

一、常识。每题所设选项中只有一个正确答案，多选、错选或不选均不得分。

1、2022年12月23日，习近平总书记在中央农村工作会议上的重要讲话中提出，建设农业强国，基本要求是实现农业现代化。我们要建设的农业强国、实现的农业现代化，既有国外一般现代化农业强国的共同特征，更有基于自己国情的中国特色。下列选项中属于农业强国中国特色的是（ ）。

- ①加强顶层设计②依靠自己力量端牢饭碗③推进乡村振兴
- ④依托双层经营体制发展农业⑤发展生态低碳农业⑥赓续农耕文明
- ⑦打造三农干部队伍⑧扎实推进共同富裕

- A、①②③④⑤
- B、②④⑤⑥⑧
- C、①②③⑤⑧
- D、④⑤⑥⑦⑧

2、2023年4月3日，学习贯彻习近平新时代中国特色社会主义思想主题教育工作会在北京召开，习近平总书记出席会议并发表重要讲话，提出了这次主题教育的总要求。这个总要求是（ ）。

- ①学思想②抓政治③搞调研
- ④强党性⑤重实践⑥促发展
- ⑦建新功⑧尽职责

- A、①④⑤⑦
- B、②③④⑧
- C、②④⑤⑥
- D、③⑤⑦⑧

3、党的二十大报告指出，继续推进实践基础上的理论创新，首先把握好新时代中国特色社会主义思想世界观和方法论，坚持好，运用好贯穿其中的主场观点方法，继续推进理论创新的科学方法是（ ）。

- ①必须坚持党的领导②人民至上③自信自立
- ④守正创新⑤问题导向⑥共同富裕
- ⑦系统观念⑧胸怀天下⑨人民民主

- A、①②③⑤⑥⑦
- B、①②④⑤⑦⑨
- C、②③④⑤⑦⑧
- D、③④⑤⑥⑦⑨

4、党代会与其重要意义对应正确的是（ ）。

①党的十六大：将建设有中国特色的社会主义理论和党在社会主义初级阶段的基本路线写入党章，标志中国改革开放和社会主义现代化建设进入新的发展阶段

②党的十七大：在新的历史起点上，提出全面建设小康社会奋斗目标的新要求，从思想上、政治上、组织上为夺取全面建设小康社会新胜利、不断开创中国特色社会主义事业新局面提供了根本保证

③党的十八大：开启了具有许多新的历史特点的伟大进军，开启了共创中国人民和中华民族更加幸福美好未来的崭新征程

④党的十九大：把习近平新时代中国特色社会主义思想确立为党必须长期坚持的指导思想并庄严地写入党章，实现了党的指导思想的与时俱进

⑤党的二十大：从战略全局深刻阐述了新时代坚持和发展中国特色社会主义的一系列重大理论和实践问题，科学谋划了未来一个时期党和国家事业发展的目标任务和大政方针

- A、①②③④
- B、①③④
- C、①②③④⑤
- D、②③④⑤

5、2023 年中央 1 号文件明确了今后一个时期“三农”工作的重点，重点包括（ ）。

- ①坚持和加强党对“三农”工作的全面领导
- ②坚持农业农村优先发展，坚持城乡融合发展，强化科技创新和制度创新
- ③坚决守牢确保粮食安全、防止规模性返贫等底线
- ④扎实推进乡村发展、乡村建设、乡村治理等重点工作
- ⑤加快建设农业强国，建设宜居宜业和美乡村

- A、①②⑤
- B、②③④⑤
- C、①②③④
- D、①②③④⑤

6、进入 21 世纪以来，世界经济格局发生了重大变化。下列关于当今世界经济格局表述错误的是（ ）。

- A、中国进一步发展并成长为世界第二大经济体
- B、西方国家由于发展到了成熟阶段，增长率普遍偏低，有些国家陷入停滞不前的局面
- C、发展中国家发展很不平衡，有快有慢，有些陷入到了“中等收入陷阱”当中
- D、以美中俄为中心的力量，三方相互竞争、制约，使军事霸权主义受到更多制约和限制

7、国家把鼓励创业摆到就业工作的突出位置，这是科学分析我国就业形势，并依据创业带动就业的倍增效应提出来的。劳动者在创业的时候，不但解决了自己的就业问题，还可以带动更多的人就业。实践证明，在我

国目前的经济结构下，一个职工创业可以带动五个职工实现就业。对上述材料反映的实践与认识辩证关系，正确的是（ ）。

- ①认识是实践的基础②实践是检验真理的唯一标准
③正确的认识能促进实践活动的发展④认识是实践的来源

- A、①②
B、③④
C、②③
D、②④

8、名义工资是工人出卖劳动力所得到的货币工资数量。实际工资是工人用货币工资实际购买到的生活资料和服务的数量，表述正确的是（ ）。

- ①在物价等因素不变的情况下，名义工资和实际工资变动是一致的
②只有在没有通货膨胀的条件下，名义工资和实际工资才是一致的
③名义工资和实际工资在量上不一定总是同方向、同比例变化
④一般来说，名义工资总是呈现上升趋势，但实际工资的变化呈现复杂多变的特点
⑤名义工资的变化，不能确切的反映工人实现生活状况

- A、①②③⑤
B、①③④⑤
C、②③④⑤
D、①②③④

9、一般来说，机会成本是指利用一定资源获得某种收益时所放弃的另一种收益，放弃的另一种收益即成为正在从事活动的机会成本，日常生活中的选择经常涉及到机会成本，下列直接涉及到机会成本的是（ ）。

- ①在特定的时间段，选择看电视娱乐就要放弃看书收获知识
②到电影院看电影，看到一半发现电影不好看选择放弃观看
③到商场买衣服，因为喜欢的衣服超出预算选择放弃购买
④到银行储蓄存款，选择定期的高收益就要放弃活期的灵活

- A、①②
B、①④
C、②③
D、③④

10、张某在下班回家的路上突然发现一个小孩掉到水里，张某不会游泳，没有立即跳下河去救人，而是向路人呼救并拨打 110 报警，对张某的行为表述正确的是（ ）。

- A、只顾及自己的生命，不关乎他人的生命
- B、既保护了自己的生命健康也关爱了他人的生命健康
- C、属于侵犯落水小孩生命健康权的行为
- D、没有根据实际情况采取最佳的应对措施

11、清明节是中华民族一个重要的祭祀日，它不仅是人们祭奠祖先缅怀先烈的节日。也是中华民族认祖归宗的纽带。下列与此密切相关的制度是（ ）。

- A、禅让制
- B、封建制
- C、礼乐制
- D、宗法制

12、战国时期先秦诸子的思想，有的爱好和平，讲求实际功利；有的带着逍遥魂儿，避世寻自由；有的一股正气，平治天下；有的刻薄严苛，法度严明。这些思想分别指（ ）学派。

- A、道家、儒家、法家、墨家
- B、儒家、墨家、道家、法家
- C、墨家、法家、道家、儒家
- D、墨家、道家、儒家、法家

13、“天知，神知，我知，子知”是最早汉代人杨震说的。他说这句话的目的是为了（ ）。

- A、拒绝收礼
- B、劝人投案
- C、替人投案
- D、向人发誓

14、适用于公布重要决定或重大事项的公文是（ ）。

- A、报告
- B、公告
- C、公报
- D、通告

15、下列作品，既是地理学巨著，也是文学名著的是（ ）。

- A、《马可·波罗行纪》
- B、《徐霞客游记》
- C、《西游记》
- D、《大唐西域记》

16、关于我国自然地理特征的叙述，错误的是（ ）。

- A、地理位置优越，位于亚洲东部，太平洋西岸
- B、地跨寒、温、热三带，大部分在北温带
- C、地势西高东低，许多大河滚滚东流入海
- D、最南端在海南省南沙群岛中的曾母暗沙

17、“低碳生活”是指生活中所耗用的能量、材料要尽量减少，从而减低二氧化碳的排放量。不符合“低碳生活”理念的是（ ）。

- A、教科书循环使用
- B、少用一次性筷子
- C、用完电器后拔掉插头
- D、使用一次性塑料袋购物

18、下列关于光合作用和呼吸作用的叙述正确的是（ ）。

- A、光合作用和呼吸作用总是同时进行
- B、呼吸作用产生的 ATP 主要用于光合作用
- C、能进行光合作用的细胞一定能进行呼吸作用
- D、能进行呼吸作用的细胞一定能进行光合作用

19、下列有关电磁波和声波的叙述，正确的是（ ）。

- A、玩电脑游戏时，人不会受到电磁波辐射
- B、移动电话是通过电磁波传递信息的
- C、电动牙刷发出的超声波不会在空气中传播
- D、地震后，音频探测仪能够搜集废墟中幸存者发出的电磁波信息

20、打蛇打七寸，这七寸指的是（ ）。

- A、头部
- B、心脏
- C、咽喉
- D、尾部

21、下列不属于新鲜鱼表现的是（ ）。

- A、鱼鳃的颜色是鲜红色
- B、嘴内清洁，无污物，有发粘的皮下组织
- C、眼稍凸，黑白眼球分明
- D、鳞片紧附鱼体，有光泽

22、下列过程中发生化学变化的是（ ）。

- A、铁丝弯曲
- B、西瓜榨汁
- C、食物腐烂
- D、灯丝熔断

23、下列有关惯性的说法正确的是（ ）。

- ①小明没有推动静止的汽车，是由于汽车具有惯性
- ②火车刹车后不能马上停下来，是由于火车具有惯性
- ③高速飞行的子弹具有惯性，穿入木头静止后惯性消失
- ④将锤子的木柄在硬地上撞击几下，锤头便套紧了

- A、①②
- B、①③
- C、②④
- D、③④

24、日常生活中常用铝制炊具，它质轻且坚固耐用，其中的原因是（ ）。

- A、铝制品表面涂有一层油，可以保护铝不受腐蚀
- B、铝很不活泼，不易与其他物质反应
- C、铝制品表面有一层致密的氧化物薄膜起保护作用
- D、铝虽然很活泼，但只有在高温下才能发生反应

二、言语理解。本部分包括表达与理解两方面的内容。请根据题目要求，在四个选项中选出一个最恰当的答案。

25、校园文化是一所学校长期发展_____而形成的文化价值体系，_____物质文化、精神文化和制度文化三个层面，其中既有显性的形态，如校舍、草场、花木和各种仪式活动等；也有隐性的形态，如校风、班风、学风、校园人际关系、师生精神文化生活等。

填入画横线部分最恰当的一项是（ ）。

- A、传承 包含
- B、积淀 包括
- C、沉积 饱含
- D、继承 包含

26、适时整合多元开发模式，_____公共数据与社会数据，遵循数据治理的道德_____，更好地实现良好行政和服务公益的目标。

填入画横线部分最恰当的一项是（ ）。

- A、匹配 规律
- B、熔合 要求
- C、容和 规范
- D、融合 准则

27、当今世界，新一轮科技革命和产业变革突飞猛进，国际形势正经历深刻复杂的演变。在激烈的国际竞争中，我们要_____发展新领域新赛道、_____发展新动能新优势，从根本上说，还是要依靠科技创新，科技立则民族立，科技强则国家强。

填入画横线部分最恰当的一项是（ ）。

- A、开拓 创新
- B、开辟 塑造
- C、开创 拓展
- D、开发 创造

28、开辟中国特色社会主义道路，实现中华民族的伟大复兴_____于鸦片战争以来一代又一代志士仁人的上下求索，_____于毛泽东领导新民主主义革命胜利和进行社会主义建设艰难曲折的实战，_____于邓小平高蹈宏阔的改革开放谋略与勇于闯关的胆识，传承于江泽民、胡锦涛、习近平继往开来、与时俱进的阔步向前。

填入画横线部分最恰当的一项是（ ）。

- A、起源 奠基 发展
- B、来源 成功 积淀
- C、发轫 奠定 成功
- D、开始 行进 推动

29、100 多年来，肥沃的黑土地曾涌现出许多时代契机。直到今天，人们仍然相信这片土地_____的潜力。在哈尔滨脚下，是一条生机勃勃的东北亚经济走廊，这座城市_____着奋进的渴望，也_____着一个国家对合作共赢的向往。

填入画横线部分最恰当的一项是（ ）。

- A、蕴藏 涌动 寄托
- B、隐藏 迸发 暗含
- C、埋藏 奔腾 隐喻
- D、包藏 奔涌 承载

30、书成为记载人类经验的载体，阅读、书写成为人类经验、知识和智慧得以超时代_____、_____、_____的最重要方式。

填入画横线部分最恰当的一项是（ ）。

- A、累积 传承 增长
- B、增长 传承 累积
- C、传承 累积 增长
- D、累积 增长 传承

31、自从有了书籍，就有了读书方法。梁启超强调不动笔墨不读书，抄录或笔记，这种_____的办法笨是笨极了，真正做学问的人却总也离不了；陈寅恪读书，习惯将自己的考证、注释、心得写在书眉上，这种_____的方法使他成为“最有识见、最能用材料的人”；胡适主张“大胆假设，小心求证”，这种_____的读书方法同时适用于科学与人文学科；朱自清则主张_____，特别推崇姚鼐的“放声疾读，久之自悟”。

填入画横线部分最恰当的一项是（ ）。

- A、博览 质疑 诵读 精读
- B、精读 博览 质疑 诵读
- C、诵读 精读 博览 质疑
- D、质疑 诵读 精读 博览

32、时光的流逝，将一份百转千回的美丽时尚，变成了一份博大精深的厚重遗产。时至今日，京剧已经走过了两百年漫漫征程。两百年的_____，两百年的_____，京剧如同一个无所不在而又不知疲倦的精灵与使者，以自己载歌载舞且歌且行的亘古姿态，既为一个国家、一个民族奉献了两百年的_____，更见证、亲历了这个国家、这个民族从黑暗贫穷向光明富强的艰难转型。

填入画横线部分最恰当的一项是（ ）。

- A、卑微或荣耀 彷徨或呐喊 欢娱与力量
- B、卑微与屈辱 苦闷与彷徨 抗争或温暖
- C、屈辱或风光 彷徨与苦闷 温暖与力量
- D、荣耀与风光 呐喊或抗争 欢娱与力量

33、习近平总书记勉励广大科技工作者要有强烈的创新信心和决心，既不妄自菲薄，也不_____，要勇于攻坚克难，追求卓越，赢得胜利，积极_____科技竞争和未来发展制高点。

填入画横线部分最恰当的一项是（ ）。

- A、高傲自大 夺取
- B、旁若无人 攻占

C、自鸣得意 占领

D、妄自尊大 抢占

34、推进中国式现代化是一个系统工程需要统筹兼顾、系统谋划、整体推进，正确处理好顶层设计与_____、战略与_____、守正与创新、效率与公平、活力与_____、自立自强与对外开放等一系列重大关系。只有以系统分析的方法，才能获得对中国式现代化全面而准确的认识。

填入画横线部分最恰当的一项是（ ）。

A、推进改革 方法 秩序

B、四梁八柱 秩序 策略

C、实践探索 策略 秩序

D、建设基础 秩序 能力

35、经典从来不是旧纸堆里的过往云烟，_____宛如长者的谆谆叮咛，在每一个时代，都有可以落脚的现实意义，让人常听常新，_____。经典的意义在于它经得起时光的打磨。岁月的_____，历久弥新，滋养着一代又一代对它_____仰望的人们。

填入画横线部分最恰当的一项是（ ）。

A、而是 耳目一新 涤荡 虔诚

B、就是 获益匪浅 洗礼 真诚

C、就是 耳目一新 涤荡 真诚

D、而是 获益匪浅 洗礼 虔诚

36、兰州人对黄河奇石的喜爱体现了崇尚自然的审美观念。中国古人认为，奇石是天人合一的产物，它妙在_____、_____、_____。

填入画横线部分最恰当的一项是（ ）。

A、千姿百态 浑然天成 栩栩如生

B、栩栩如生 千姿百态 浑然天成

C、栩栩如生 浑然天成 千姿百态

D、千姿百态 栩栩如生 浑然天成

37、一百年以来马克思主义的_____在中国得到充分检验，马克思主义的_____在中国得到充分的贯彻，马克思_____在中国得到充分彰显。

填入画横线部分最恰当的一项是（ ）。

A、人民性和实践性 开放性和时代性 科学性和真理性

B、科学性和真理性 人民性和实践性 开放性和时代性

C、开放性和时代性 科学性和真理性 人民性和实践性

D、人民性和实践性 科学性和真理性 开放性和时代性

38、习近平总书记在党的二十大报告甲指出，大自然是人类赖以生存发展的基本条件。_____、_____,是全面建设社会主义现代化国家的内在要求。必须牢固树立和践行_____的理念，站在人与自然和谐共生的高度谋划发展。

填入画横线部分最恰当的一项是（ ）。

- A、尊重自然 顺应自然 保护自然 绿水青山就是金山银山
- B、利用自然 征服自然 改造自然 绿水青山就是金山银山
- C、尊重自然 顺应自然 保护自然 金山银山不如绿水青山
- D、利用自然 征服自然 改造自然 金山银山不如绿水青山

39、良好的生态环境是农村最大优势和宝贵财富。新时代的乡村不仅是农村居民繁衍生息的家园，也可以成为城市居民心理疗愈、养老养生、文化体验和休闲娱乐的“后花园”。因此，建设绿色“宜居”的乡村，可为“宜业”创造基础和条件；同时，“宜居”乡村的绿水青山，也需要有“宜业”的乡村基础设施和公共服务作支撑，以便更好地转化为金山银山。

这段文字意在强调（ ）。

- A、乡村宜居宜业的必要性
- B、乡村宜居宜业的重要性
- C、乡村宜居宜业的必然性
- D、乡村宜居宜业的互补性

40、陨石上的氨基酸说明什么？需要明白的是，目前在陨石上发现的有机物，并无法证明地球上的生命起源于地外，但“生命之源”的元素却能在地外出现。这项结论说明了一点，那就是在宇宙空间中，有机物普遍存在，只要条件适合，就能够形成各种有机物。

这段文字意在说明（ ）。

- A、氨基酸是“生命之源”的元素
- B、地外存在“生命之源”
- C、宇宙空间中有机物普遍存在
- D、陨石上发现有机物

41、今年全国两会上，全国人大代表带来一份关于多渠道助力实现碳达峰碳中和目标的建议。他认为，当前实现碳达峰碳中和还存在能耗需求大、制约因素多、信息披露少等问题。比如，一些地方有“运动式减碳”苗头，大搞“零碳行动”计划，对正常社会经济秩序造成一定影响。一些地方又过于消极保守，担忧影响经济，没有真正迈开步子。

这段文字接下来最有可能表述的是（ ）。

- A、建议加快出台碳达峰碳中和顶层设计政策文件
- B、多渠道助力实现碳达峰碳中和目标
- C、把碳达峰碳中和工作切实融入生态文明建设
- D、尽快发布碳排放量具体数值，制定今后一定时期的任务目标

42、制造业企业为提高自身生产效率并保持核心竞争力，将作为辅助活动的生产性服务业逐渐分离出来。这种辅助活动往往是一些通用性生产性服务，比如人力资源管理、财务管理、营销服务、研发设计等。分离出来的通用性生产性服务企业基于规模经济的考虑，除了为原有的制造业企业提供服务外，还为其他各类企业和产业提供相同的服务，逐渐形成独立的行业并发展壮大。这种分离可以称之为实体经济的“投入服务化”。

关于这段文字，下列理解准确的是（ ）。

- A、生产性服务业独立地为各类企业和产业的生产提供辅助性生产服务
- B、生产性服务业的产生和壮大是制造业企业为了提高自身生产效率
- C、生产性服务业为了规模经济效果而变得更加专业
- D、制造业企业内部不再设有通用性生产性服务部门

43、文艺复兴时期群星闪耀。那些被后世不断提及和怀念的名字、那些历经岁月洗刷依旧闪耀的真理，正流传在欧洲的大街小巷，如初卉般迸发着生命的伟力。作家和学者们通宵达旦，据理力争，追寻人文的希望。有人为此牺牲离开，又有人挺身接续，梦中的蓝图就这样渐渐化为现实。

这段文字的主题是（ ）。

- A、文化
- B、思想
- C、历史
- D、创新

44、党的十八大以来，以习近平同志为核心的党中央高度重视新型智库建设，多次做出重要批示，指出智库是国家软实力的重要组成部分，要积极探索中国特色新型智库的组织形式和管理方式。随着大数据时代的到来，依托大数据推动地方智库高质量发展，必须运用各种规范化的研究方法工具，对现实和重大问题开展前瞻性研究，通过政策创新来服务地方社会经济发展，引导公共舆论，最终实现运筹谋划和献计献策的目的。

最适合做这段文字标题的是（ ）。

- A、智库建设助力高质量发展
- B、大数据赋能智库建设
- C、中国特色智库建设
- D、新时代智库能力建设

45、关于“非遗”，人们往往侧重于对于个别少数民族的，特别是濒临消亡的、人口基数小的民族文化的抢救。这是“非遗”保护的一个重要方面，但同时也提出了一个问题：如何突破个别民族、局部区域、特定时间、某个行业的“非遗”，_____，去发掘对56个民族的大家庭成员有普遍影响，在全国大部分地区普遍覆盖，不分男女、贫富、行业、信仰等差别在全社会广泛适应的“非遗”。

填入画横线部分最恰当的一项是（ ）。

- A、在保持非物质文化遗产归属中
- B、在中华民族的宏大叙事中
- C、在不脱离民族特殊的生活生产方式基础上
- D、在保持非物质形态前提下

46、_____，城外天显得极高，也极清。田野酥酥软软的，草发得十分嫩，其中有了蒲公英，一点一点的淡黄，使人心神儿几分荡漾了。远远看着杨柳，绿得有了烟雾，晕得如梦一般，禁不住近去看时，枝梢却没叶片，皮下的脉络是楚楚地流动着绿。

填入画横线部分最恰当的一项是（ ）。

- A、雪消门外千山绿
- B、人间四月芳菲尽
- C、毕竟西湖六月中
- D、最是橙黄橘绿时

47、①定量研究的扩展伴随着来自定性研究拥护者的不断批评

②社会学在定量化研究水平大幅提升的同时，学科内部在方法论上的隔阂却越来越深

③一般认为，定性研究和定量研究各有利弊，在研究中可以相互补充

④正像其他研究方法一样，定量方法并不完美，有其缺点和局限，但它仍然是理解社会和变迁最好的手段和工具

⑤但是社会现象的本质特征决定了统计学必然作为起核心作用的研究工具，并且会占据越来越重要的位置
将以上5个句子重新排列，语序正确的是（ ）。

- A、①②④⑤③
- B、②①③⑤④
- C、⑤②①④③
- D、④③①⑤②

48、①龙井是茶中珍品，素有“色绿、香郁、味甘、形美”四绝佳茗之称

②闻其香，则是香气清新醇厚，无浓烈之感

③一芽一叶，叶似旗、芽似枪，则称为“旗枪”；一芽两叶，叶形卷曲，形似雀舌，故称“雀舌”

④其色澄清碧绿，其形一旗一枪，交错相映，上下沉浮

⑤评定一杯茶的优劣，必从色、形、香、味入手

⑥细品慢啜，体会齿颊留芳、甘泽润喉的感觉

将以上 6 个句子重新排序，语序正确的是（ ）。

- A、①③④②⑥⑤
- B、①④②⑥③⑤
- C、⑤①④③②⑥
- D、⑤①③④⑥②

三、数量关系。在这部分试题中，每道题呈现一段表述数字关系的文字，要求你迅速、准确地计算出答案。

49、某工厂有甲、乙、丁三条生产线，已知甲生产线生产三天检修一天，乙生产线生产四天检修一天，丁生产线生产五天检修一天，若三条生产线在 2023 年 3 月 15 日同时检修，那么三条生产线下次同时检修日期是（ ）。

- A、2023 年 5 月 12 日
- B、2023 年 5 月 13 日
- C、2023 年 5 月 14 日
- D、2023 年 5 月 15 日

50、从 10 名员工中选中 4 名员工参加职业能力测试，其中甲、乙两人必须入选，则共有（ ）种不同的选法。

- A、252
- B、56
- C、210
- D、28

51、某工程队承揽了一项市政工程，需要投入 50 辆推土机，每天工作 8 小时，25 天正好完成。由于天气原因，有 9 天无法开工，在工期还有 6 天的时候开始加班，每天工作 10 小时，若想如期完成任务，则需要增加（ ）辆推土机。

- A、50
- B、60
- C、70
- D、80

52、甲、乙、丙三位老师单独批改一批试卷分别需要 48 小时、60 小时、40 小时，甲、乙一起批改 5 小时后，剩余的由三位老师共同完成，则甲共批改了（ ）小时。

- A、10
- B、11
- C、13
- D、18

53、老张和小张在周长为 400 米运动场上跑步，小张的跑步速度快于老张，当两人在同一起点同时同向出发，则每隔 8 分钟相遇一次；当两人在同一起点同时反向出发，则每隔 2 分钟相遇一次，老张在该运动场跑一圈需要（ ）分钟。

- A、5.33
- B、5.36
- C、5.42
- D、5.45

54、王老板用 100 万元进了一批货，获利为买入价格的 20%，王老板用卖出这批货的 80%购入另一批货，由于市场原因需要按照进货价的 80%出售，王老板在此过程中盈利（ ）万元。

- A、1.0
- B、0.8
- C、0.6
- D、0.4

55、将浓度为 15%和 30%的若干克糖水混合后加入 50 克水，配置成了浓度为 25%的糖水 600 克，则原浓度为 15%和 30%的糖水质量之比是（ ）。

- A、4：9
- B、1：3
- C、2：9
- D、1：9

56、A、B、C、D 四个车间生产同一产品时的生产效率之比为 4:3:2:1，产品的不合格率分别为 4%、2%、3%、5%，质检员随机抽出一件产品经检测为不合格产品，则该不合格产品是 C 车间生产的概率是（ ）。

- A、0.17
- B、0.172
- C、0.18
- D、0.182

57、某白酒厂家有 10001 箱白酒需要分配给若干地区总经销商，分配要求如下：无论什么分配方式都要有经销商至少分到 200 箱白酒，则经销商至多有（ ）家。

- A、48
- B、49
- C、50
- D、51

58、一个长方体的长、宽和高成等差数列，且公差为2米，该长方体对角线长度为 $\sqrt{251}$ 米，则该长方体体积为（ ）立方米。

- A、653
- B、673
- C、683
- D、693

59、已知今年小玉的年龄是母亲的 $\frac{1}{3}$ ，小玉哥哥的年龄是父亲的 $\frac{2}{5}$ ，三年后小玉的父母年龄之和为82岁，小玉兄妹年龄之和为34岁，则小玉父亲今年（ ）岁。

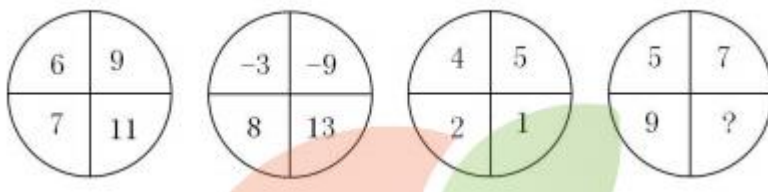
- A、39
- B、40
- C、41
- D、42

四、判断推理。本部分包括图形推理、定义判断、类比推理和逻辑判断四种类型的试题，在四个选项中选出一个最恰当的答案。

60、1, 3, 9, 9, 1, ()

- A、3
- B、13
- C、 $\frac{1}{27}$
- D、 $\frac{1}{243}$

61、从所给的四个选项中，选择最合适的一项填入括号中，使之呈现一定的规律性。()



- A、12
- B、13

C、14

D、15

62、从所给的四个选项中，选择最合适的一项填入括号中，使之呈现一定的规律性（ ）。

B	2	a
F	6	e
K	11	?

F	G	d	j
---	---	---	---

A B C D

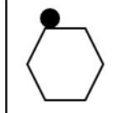
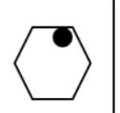
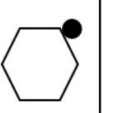
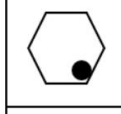
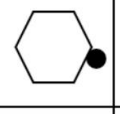
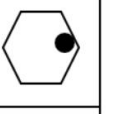
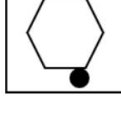
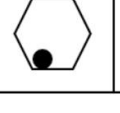
A、A





B、B

C、C

D、D

63、从所给的四个选项中，选择最合适的一项填入括号中，使之呈现一定的规律性（ ）。

		
		
		?

			
A	B	C	D

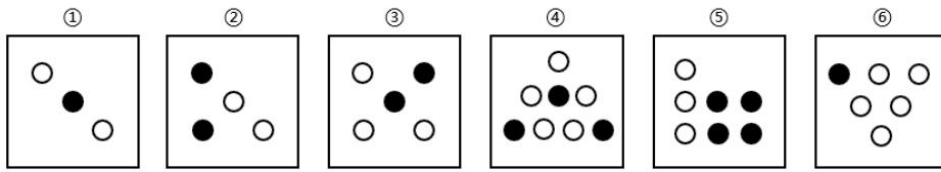
A、A

B、B

C、C

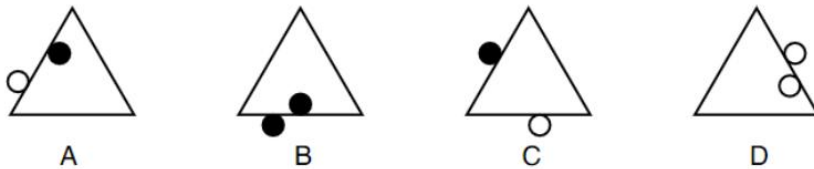
D、D

64、把下面的六个图形分为两类，使每一类图形都有各自的共同特征或规律，分类正确的一项是（ ）。



- A、①②⑤，③④⑥
- B、①③⑥，②④⑤
- C、①②④，③⑤⑥
- D、①③⑤，②④⑥

65、下列四幅图形与其他三个规律不同的一项是（ ）。



- A、A
- B、B
- C、C
- D、D

66、俱乐部型公共物品是指那些效益可以定价，从而可以在技术上实现排他的公共物品或服务。这类物品或服务的特点是，一方面它的效用名义上向全社会提供，即谁都可以用，另一方面，它在受益上却可以排它，即谁花钱谁受益。

以下不属于俱乐部效应的公共物品（ ）。

- A、甲县新建一条高速公路，设置收费站对过往车辆收取过路费
- B、乙县新建一高档小区，引进健身中心对外营业收取费用
- C、丙县新建一个公共游泳馆，招聘安全员，对会员实施价格优惠
- D、丁县开发文化旅游资源，获批 4A 景区，对游客收取门票

67、个人所得税的纳税人是指在中国境内有住所，或者虽无住所而在境内居住累计 183 天的个人，并从中国境内和境外取得所得的个人；在中国境内无住所又不居住或者无住所而在境内居住累计不满 183 天的个人，但从中国境内取得所得的个人。

以下不属于个人所得税的纳税人是（ ）。

- A、玛丽，是英国人，应聘在上海小伦敦英语学校任教三年，获得年薪收入

- B、清华大学王老师为一家外国企业提供业务咨询服务，获得专家咨询收入
- C、著名歌唱家赵某，在天津举办为期一周的个人演唱会，获得可观演唱收入
- D、小董是美籍华人，来上海旅游度假两个月，他在美国工作的公司仍然向其支付工资

68、社会优抚，指国家和社会为确保军人等从事特殊工作的人员及其家属的一定生活水平，给予褒扬和优待抚恤、妥善安置措施的特殊社会保障制度。

属于社会优抚的是（ ）。

- A、小刘退伍后应聘到一家家电销售公司当项目经理
- B、小张在一次军事演习中牺牲，其家属享受到国家给予的抚恤金
- C、小王在抢修车间修理设备时扭伤腰住进医院，公司承担全部医药费
- D、小李在一次抢险活动中失去一只胳膊，申请了残疾人救助

69、政府监管是市场经济条件下，政府为实现某些公共政策目标，对微观经济主体进行的规范制约，主要通过通过对特定产业和微观经济活动主体的进入、退出、资质、价格及涉及国民健康、生命安全，可持续发展等行进行监督管理来实现。

以下属于政府监管的是（ ）。

- A、某羊绒衫企业，根据气象预测，调高了其产品的市场零售价格
- B、某化工排放厂排出的污水可能含有超标有害物质
- C、一些贫困户将政府发放的扶贫款用于购买彩票
- D、某大型养殖户根据市场分析报告调整所养殖水产品

70、旁观者效应称又称责任分散效应，是指在紧急事件中，由于有他人在场而产生的对救助行为的抑制作用。

以下属于旁观效应的是（ ）。

- A、高速路上有车辆爆胎，小刘看见有其他车辆经过，决定不停车帮忙
- B、在某媒体号召救助流浪猫后，大家伸出援手
- C、家里的酱油用完了，小刚觉得妻子会去买
- D、小李自驾车到无人区，看见一只骆驼受伤，濒死无奈选择离去

71、承欢膝下：天伦之乐（ ）

- A、循规蹈矩：循序渐进
- B、举重若轻：游刃有余
- C、肝肠寸断：披肝沥胆
- D、目无全牛：目中无人

72、（ ）对于阴柔 相当于（ ）对于倨傲

- A、温暖；虚心
- B、刻薄；宽容
- C、阳刚；谦逊
- D、体贴；随意

73、益母草：红花艾（ ）

- A、毛笔：毫锥
- B、太阳花：夕颜花
- C、月亮：启明星
- D、杭州：鄂

74、梧桐对于（ ）相当于（ ）对于思乡怀亲

- A、凄凉哀怨；杜鹃
- B、凄凉悲伤；鸿雁
- C、孤独忧愁；羌笛
- D、衰败荒凉；松柏

75、双肩包：斜挎包：手提包（ ）

- A、玻璃门：柏木门：防盗门
- B、金星：木星：恒星
- C、推土机：挖掘机：起重机
- D、湖水：河水：淡水

76、小强五一假期或者去爬泰山或者回家看望父母。只有父母在家小强才回家。事实上，父母五一假期不在家出去玩。由此可以推出哪项为真（ ）。

- A、小强五一回家看望父母
- B、小强五一假期陪父母去爬泰山
- C、小强五一假期出去玩
- D、小强五一假期自己去爬山

77、某晚会，一男一女一组，男士有小刚、小强、小富，女士有小兰、小美、小红。小兰的舞伴和小强一个寝室，且个子最低，小富的个子比小美的舞伴高。由此可推断（ ）。

- A、小刚和小兰，小强和小红，小富和小美
- B、小刚和小美，小强和小兰，小富和小红
- C、小刚和小美，小强和小红，小富和小兰
- D、小刚和小兰，小强和小美，小富和小红

78、暂缺

79、暂缺

80、历时八年科学调查中国科学院寒区环境与工程研究所日前发布了《第二次冰川编目》使中国成为世界冰川分布大国中首个实现两次冰川编目的国家。通过对比发现，20世纪50年代以来的全球变暖导致的中国西部的冰川面积总体萎缩18%左右，但局部地区的温度反而更低了。

以下哪项为真，最能解释上述现象？（ ）

A、全球气候变暖不严重

B、气候变暖，冰川融化的现象改变了全球风的方向和速度，干扰了四季的变化

C、局部地区不受大气变暖的影响，天气是由气候和地势决定的

D、温室效应不断积累，导致地气系统吸收与发射的能量不平衡，能量不断在地气系统累积，从而导致温度上升

五、资料分析。所给出的图、表、文字或综合性资料均有若干个问题要你回答。你应根据资料提供的信息进行分析、比较、计算和判断处理。

(一)

根据以下资料，回答81—85题。

2014—2020年主要行业增加值情况表

单位：亿元

年份	农林牧渔业	工业	建筑业	金融业	房地产业	交通运输和邮政业
2014	1161.19	4018.33	1106.10	547.86	646.21	910.15
2015	1655.29	4121.20	1148.34	627.75	684.49	936.26
2016	1677.04	4357.10	1222.67	730.11	705.05	976.53
2017	1677.71	4671.95	1202.30	809.37	735.27	1074.19
2018	1779.76	5104.18	1231.20	847.02	828.88	1030.05
2019	1893.45	5458.69	1304.54	874.88	892.20	1202.71
2020	2056.23	5547.53	1320.51	888.90	921.31	1163.07

81、2017年—2020年，建筑业的年均增长率约为（ ）。

A、2.2%

B、2.5%

C、2.8%

D、3.0%

82、暂缺

83、2016年-2019年交通运输与邮政业中增长率最高的是（ ）。

- A、2016年
- B、2017年
- C、2018年
- D、2019年

84、2020年六大主要行业增加值中，房地产所占比重比金融业所占比重约（ ）。

- A、高0.23个百分点
- B、高0.27个百分点
- C、高0.32个百分点
- D、高0.37个百分点

85、根据给定材料，下列说法正确的是（ ）。

- A、2014年—2020年，房地产业年均增长约为49亿元
- B、2014年—2020年主要行业增长值呈现先增长后下降趋势的有2个
- C、2016年—2020年房地产业增幅逐年下降
- D、2016年—2020年农林牧渔业增幅逐年提升

(二)

2014年-2018年我国创意企业数量有了大幅度增长，2014年创意企业数量为385915个2018年增长到699608个，而从社会全行业来看，2014年-2018年企业数量的年平均增长率为11.15%。

2014年至2018年，我国创意企业全年营业收入增长了103.56%，而从社会全行业的平均率来看，全年营业收入的年平均增长率达到了23.97%。

2018年我国已登记注册的企业总数为4959671个，已登记注册的创意企业共有699608个。从创意产业大类层面上看，其中以咨询策划类的创意企业数量最多，占约全部创意企业数的40%。以影视文化类和展演出版类的创意企业数量最少，分别为9802个和14237个，占全部创意企业的1.4%和2.03%。已登记注册的创意企业全年营业收入为4681.77亿元，占全国所有企业营业收入总量的5%。

2018年所有创意产业的从业人员中，大专以上学历以上的共有725.49万人，占总人数的51.88%，创意产业从业人员中具有研究生及以上学历的人员为50.90万人，具有大学本科学历的人员321.41万人，具有大专以上学历的人员为353.18万人。与全国所有企业从业人员中高学历人才所占的比例相比，创意产业从业人员中研究生以上学历者的比例是平均水平的四倍多。

86、2018年我国登记注册创意企业占全部企业总数的比例约为（ ）。

- A、14%
- B、14.5%

C、15%

D、15.5%

87、2018 年全国所有行业营业收入总量在（ ）范围内。

A、低于 10 万亿

B、10 万亿-10.1 万亿

C、10.1 万亿至 10.2 万亿

D、高于 10.2 万亿

88、2018 年创意产业从业人员中具有大专学历的从业人员所占比例比大学本科学历从业人员所占比例约（ ）。

A、高 1.9%

B、高 2.1%

C、高 2.3%

D、高 2.5%

89、2014 年-2018 年，我国创意企业数量年平均增长率约为（ ）。

A、15%

B、15.4%

C、16%

D、16.2%

90、根据给定材料，无法推出的是（ ）。

A、2018 年创意产业从业人员中的高学历人才所占的比例明显高于全部产业中高学历人才所占的比例

B、2018 年创意产业的从业人员总数约为 1400 万人

C、从社会全行业来看，2014 年—2018 年企业数量的年平均增长率低于创意产业增长速度

D、2014 年—2018 年创意产业的营业收入增速高于行业平均水平

参考答案

1、本题考查政治常识。

2023年3月16日出版的第6期《求是》杂志发表中共中央总书记、国家主席、中央军委主席习近平的重要文章《加快建设农业强国 推进农业农村现代化》。文中指出：“农业强国的中国特色，我看主要应该包括以下几个方面：一是依靠自己力量端牢饭碗。二是依托双层经营体制发展农业。三是发展生态低碳农业。四是赓续农耕文明。五是扎实推进共同富裕。同时，我们建设农业强国，也是在为全球可持续发展、消除贫困贡献中国力量。”

因此，②④⑤⑥⑧项正确。

故正确答案为B。

2、本题考查政治常识。

2023年4月3日，学习贯彻习近平新时代中国特色社会主义思想主题教育工作会议在北京召开。中共中央总书记、国家主席、中央军委主席习近平出席会议并发表重要讲话。习近平强调，这次主题教育要牢牢把握“学思想、强党性、重实践、建新功”的总要求。要全面学习领会新时代中国特色社会主义思想，全面系统掌握这一思想的基本观点、科学体系，把握好这一思想的世界观、方法论，坚持好、运用好贯穿其中的立场观点方法，不断增进对党的创新理论的政治认同、思想认同、理论认同、情感认同，真正把马克思主义看家本领学到手，自觉用新时代中国特色社会主义思想指导各项工作。

因此，①④⑤⑦项正确。

故正确答案为A。

3、本题考查政治常识。

习近平总书记在党的二十大报告中指出：“不断谱写马克思主义中国化时代化新篇章，是当代中国共产党人的庄严历史责任。继续推进实践基础上的理论创新，首先要把握好新时代中国特色社会主义思想的世界观和方法论，坚持好、运用好贯穿其中的立场观点方法。”同时提出必须坚持人民至上、必须坚持自信自立、必须坚持守正创新、必须坚持问题导向、必须坚持系统观念、必须坚持胸怀天下等“六个坚持”。深刻领会“六个坚持”，把握好习近平新时代中国特色社会主义思想的世界观和方法论，是继续推进实践基础上的理论创新，不断开辟马克思主义中国化时代化新境界的必然要求。

因此，②③④⑤⑦⑧项正确。

故正确答案为C。

4、本题考查政治常识。

①项错误，1992年10月12日至18日，中国共产党第十四次全国代表大会在北京胜利召开。党的十四大将建设有中国特色的社会主义理论和党在社会主义初级阶段的基本路线写入党章，标志中国改革开放和社会主义现代化建设进入新的发展阶段——建设社会主义市场经济。

2002年11月8日至14日，中国共产党第十六次全国代表大会在北京胜利召开。党的十六大将“三个代表”重要思想确立为党的指导思想并写入党章；提出了全面建设小康社会的具体目标。

②项正确，2007年10月15日至21日，中国共产党第十七次全国代表大会在北京胜利召开。党的十七大在新的历史起点上，提出全面建设小康社会奋斗目标的新要求，从思想上、政治上、组织上为夺取全面建设小康社会新胜利、不断开创中国特色社会主义事业新局面提供了根本保证。

③项正确，2012年11月8日至14日，中国共产党第十八次全国代表大会在北京胜利召开。党的十八大肩负着全党全国各族人民的信任和期待，凝聚亿万人民的智慧和力量，开启了具有许多新的历史特点的伟大进军，开启了共创中国人民和中华民族更加幸福美好未来的崭新征程。

④项正确，2017年10月18日至24日，中国共产党第十九次全国代表大会在北京胜利召开。党的十九大把习近平新时代中国特色社会主义思想确立为党必须长期坚持的指导思想并庄严地写入党章，实现了党的指导思想与时俱进。

⑤项正确，2022年10月16日至22日，中国共产党第二十次全国代表大会在北京胜利召开。党的二十大担负起全党的重托和人民的期待，从战略全局深刻阐述了新时代坚持和发展中国特色社会主义的一系列重大理论和实践问题，科学谋划了未来一个时期党和国家事业发展的目标任务和大政方针，在党和国家历史上具有重大而深远的意义。

综上所述，②③④⑤项表述正确。

故正确答案为D。

5、本题考查政治常识。

《中共中央 国务院关于做好2023年全面推进乡村振兴重点工作的意见》指出：“做好2023年和今后一个时期“三农”工作，要坚持以习近平新时代中国特色社会主义思想为指导，全面贯彻落实党的二十大精神，深入贯彻落实习近平总书记关于“三农”工作的重要论述，坚持和加强党对“三农”工作的全面领导，坚持农业农村优先发展，坚持城乡融合发展，强化科技创新和制度创新，坚决守牢确保粮食安全、防止规模性返贫等底线，扎实推进乡村发展、乡村建设、乡村治理等重点工作，加快建设农业强国，建设宜居宜业和美乡村，为全面建设社会主义现代化国家开好局起好步打下坚实基础。”

综上所述①②③④⑤项正确。

故正确答案为D。

6、本题考查政治常识。

A、B、C项正确，进入21世纪以来，世界经济格局发生了重大变化。中国进一步发展并成长为世界第二大经济体；西方国家由于发展到了成熟阶段，增长率普遍偏低，有些国家陷入停滞不前的局面；发展中国家发展很不平衡，有快有慢，有些陷入到了“中等收入陷阱”当中。中国人民大学经济学院关权教授在《国家治理》

周刊撰文指出，中国的快速崛起给西方世界带来了巨大冲击，并导致了以美国为首的西方阵营开始不遗余力的打压。这种局面在相当长的一段时间里是不可避免的，如何突破这种封锁和围堵是中国面临的考验。

D项错误，国际政治关系中存在美国、日本、西欧、中国、俄罗斯五个力量中心。很大程度上影响着世界各个国家和地区。五个力量中心之间存在的相互竞争、相互制约的关系，使军事霸权主义受到更多的制约和限制，有利于世界的安全与稳定。

本题为选非题，故正确答案为D。

7、本题考查政治常识。

①④错误，实践是认识的来源和基础，即认识的内容是在实践活动的基础上产生和发展的。人们只有通过实践实际地改造和变革对象，才能准确把握对象的属性、本质和规律，形成正确的认识，并以这种认识指导人的实践活动。

②正确，实践是检验真理的唯一标准，是由真理的本性和实践的特点所决定的。真理的本性是主观和客观的统一，然而单从主观方面或客观方面都无法判明认识是否具有真理性。实践是人类改造客观世界的物质性活动，具有直接现实性的特点，能够把主观的东西变成客观的东西，从而使人的认识与认识指导下的结果能够进行对照。实践的这一特点决定了实践才是检验真理的唯一标准。

③正确，马克思主义哲学认为，实践决定认识，认识对实践具有反作用，正确的认识促进实践的发展，错误的认识阻碍实践的发展。

故正确答案为C。

8、本题考查经济常识。

①③④正确，②错误，名义工资是指工人出卖劳动力所得的货币额，即货币工资。实际工资是指工人用货币工资所能买到的生活资料和服务的数量。名义工资不能确切反映出工资的实际水平，因为名义工资不变，实际工资可以因为物价的涨跌而降低或上升。在物价等因素不变的情况下，名义工资和实际工资变动是一致的。受物价等因素的影响，名义工资和实际工资变动是不一致的。从变动趋势的特征来看，名义工资一般呈增加趋势，实际工资随经济发展水平的变动而时高时低。故名义工资和实际工资在量上不一定总是同方向、同比例变化。

⑤正确，货币工资不变时，由于物价上涨，房租、捐税等项开支加重，以及赡养失业人口增加，也会使工人的实际生活水平下降。所以，名义工资不能确切地反映工人的实际生活水平。在考察资本主义条件下工人阶级的生活状况时，不能只看货币工资多少，更要分析劳动力价值的变化和工人实际工资的状况。

故正确答案为B。

9、本题考查经济常识。

机会成本是指做出一个选择时放弃的其他选择能产生的最大的收益；沉没成本是指由于过去的决策已经发生了的，不可收回的成本。

①正确，在特定的时间段，选择看电视娱乐就要放弃看书收获知识。这里放弃的是通过阅读书籍获得知识的机会成本，选择了看电视娱乐而放弃了学习的机会成本。

②错误，“电影不好看选择中途离场”，购买电影票的钱属于不可收回的成本，属于沉没成本。

③错误，到商场买衣服，因为喜欢的衣服超出预算选择放弃购买，体现了对消费者需求量影响最大的因素是商品的价格。与机会成本无关。

④正确，“选择定期的高收益就要放弃活期的灵活”，选择一个就要放弃另外一个的收益，属于机会成本。

故正确答案为B。

10、本题考查法律常识。

根据《民法典》第一千零五条规定：“自然人的生命权、身体权、健康权受到侵害或者处于其他危难情形的，负有法定救助义务的组织或者个人应当及时施救。”本条中施救的主体限于负有法定救助义务的组织或者个人。也就是说，只有负有法定救助义务的组织或者个人，才负有及时施救的义务，其他主体并不负有此种及时施救的义务。小孩子掉进水里，张某不属于孩子负有法定救助义务的人，所以没有救助的义务。张某本身不会游泳没有立即跳下河去救人，而是向路人呼救，并拨打110报警。张某采取的行为既保护了自己的生命健康也关爱了他人的生命健康，并且根据实际情况采取最佳的应对措施，没有侵犯小孩生命健康权的行为。

故正确答案为B。

11、本题考查人文常识。

清明节，是中华民族最隆重盛大的祭祖大节，清明扫墓具有缅怀先人、敬祭祖先、求先人保佑的意义。

A项错误，禅让制是指在位君主生前便将统治权让给他人，是中国原始社会部落联盟民主推选首领的制度。中国上古时期的禅让制度，实际上是以传贤为宗旨的民主选举首领制度。

B项错误，分封制也称分封制度或封建制，即狭义的“封建”，由共主或中央王朝给宗族姻亲、功臣子弟分封领地，属于政治制度范畴。

C项错误，礼乐制是周代文化的集中体现，它既是典章制度的总汇，又是人们各种行为的准则。周朝通过礼乐制度来规范贵族的身份地位，要求贵族在衣、食、住、行等方面都要符合自己的身份，贵贱长幼之间要有明显的差别。

D项正确，宗法制是由氏族社会父系家长制演变而来的古代维护贵族世袭统治的一种制度，是王族贵族按血缘关系分配国家权力，以便建立世袭统治的制度。宗法制的特点是宗族组织和国家组织合二为一，宗法等级和政治等级完全一致。宗法制强调的是血缘关系，而清明节祭祖、“认祖归宗”，体现的正是宗法制的影

响。因此，和清明节密切相关的制度是宗法制。

故正确答案为D。

12、本题考查人文常识。

“爱好和平，讲求实际功利”指的是墨家。墨家的主要思想主张是：人与人之间平等的相爱（兼爱），反对侵略战争（非攻），推崇节约、反对铺张浪费（节用），重视继承前人的文化财富（明鬼），掌握自然规律（天志）等。

“带着逍遥魂儿，避世寻自由”指的是道家。道家崇尚自然，有辩证法的因素和无神论的倾向，主张清静无为，反对斗争；提倡道法自然，无所不容，自然无为，与自然和谐相处。

“一股正气，平治天下”指的是儒家。儒家思想是中国传统文化的一部分，一贯主张“诚意、正心、修身、齐家、治国、平天下”。

“刻薄严苛，法度严明”指的是法家。法家是中国历史上提倡以法治为核心思想的重要学派，提出了富国强兵、以法治国的思想。法家对法律最为重视，强调严刑峻法。

故正确答案为D。

13、本题考查人文常识。

“天知，神知，我知，子知。何谓无知！”出自《后汉书·杨震列传》。杨震此话的目的是说，做了事情就会被知道，若要人不知，除非己莫为。以此来表明自己坚守清白清廉的行为准则，拒绝收礼。

故正确答案为A。

14、本题考查公文写作与处理。

A项错误，根据《党政机关公文处理工作条例》规定，报告适用于向上级机关汇报工作、反映情况，回复上级机关的询问。

B项错误，根据《党政机关公文处理工作条例》规定，公告适用于向国内外宣布重要事项或者法定事项。

C项正确，根据《党政机关公文处理工作条例》规定，公报适用于公布重要决定或者重大事项。

D项错误，根据《党政机关公文处理工作条例》规定，通告适用于在一定范围内公布应当遵守或者周知的事项。

故正确答案为C。

15、本题考查人文常识。

A项错误，《马可·波罗行纪》是公元十三世纪意大利商人马可·波罗记述他经行地中海、欧亚大陆和游历中国的长篇游记。这部游记有“世界一大奇书”之称，是人类史上西方人感知东方的第一部著作，它向整个欧洲打开了神秘的东方之门。

B项正确，《徐霞客游记》是明代地理学家徐霞客创作的一部散文游记，主要按日记述作者1613年至1639年间旅行观察所得，对地理、水文、地质、植物等现象，均做了详细记录。《徐霞客游记》是系统考察中国地貌地质的开山之作，同时也描绘了中国大好河山的风景资源，此外优美的文字也使之成为文学佳作，在地理学和文学上都有着重要的价值。

C项错误,《西游记》是中国古代第一部浪漫主义章回体长篇神魔小说。《西游记》是中国神魔小说的经典之作,达到了古代长篇浪漫主义小说的巅峰,与《三国演义》《水浒传》《红楼梦》并称为中国古典四大名著。

D项错误,《大唐西域记》又称《西域记》,是由唐代玄奘口述、辩机编撰的地理史籍,成书于唐贞观二十年(646年)。

故正确答案为B。

16、本题考查地理国情。

A、D项正确,中国位于亚洲东部,太平洋西岸。北起漠河附近的黑龙江江心,南到南沙群岛的曾母暗沙。西起帕米尔高原,东至黑龙江、乌苏里江汇合处。

B项错误,我国领土南北跨纬度很广,大部分位于中纬度地区,属北温带,南部少数地区位于北回归线以南的热带,没有寒带。

C项正确,中国地势西高东低,许多大河滚滚东流入海。地势自西而东构成三级阶梯:西部有青藏高原,是第一级阶梯;青藏高原以东至大兴安岭、太行山、巫山和雪峰山之间为第二阶梯;中国东部宽广的平原和丘陵是第三阶梯。

本题为选非题,故正确答案为B。

17、本题考查科技常识。

A项正确,循环使用教科书能减少资源消耗,符合绿色消费的理念。

B项正确,用餐时使用一次性筷子和餐盒会增加木材的消耗,少用一次性筷子属于低碳生活所倡导的做法。

C项正确,若充电完成后不拔掉充电插头,会造成线路耗损及热损耗,故应及时拔掉充电插头,减少资源浪费。

D项错误,大量塑料包装和一次性产品会造成资源浪费和环境污染,违背了绿色消费的理念。

本题为选非题,故正确答案为D。

18、本题考查科技常识。

A、D项错误,光合作用的场所是叶绿体,因此有叶绿体的细胞才能进行光合作用,并且在有光条件下才能进行;而所有细胞随时均能进行呼吸作用。

B项错误,呼吸作用产生的ATP,主要负责为生命活动提供能量来源。光反应产生的ATP主要用于叶绿体暗反应中有机物的合成。

C项正确,光合作用进行的场所是叶绿体,必须在光下才能正常进行,而呼吸作用是所有活细胞内,利用氧气,将线粒体内有机物分解成二氧化碳和水,并且将贮存在有机物中的能量释放出来,供生命活动利用的过程,所以能进行光合作用的细胞一定能进行呼吸作用。

故正确答案为C。

19、本题考查科技常识。

A 项错误，电脑在运行时会产生电磁波，人不会受到一定的电磁波辐射影响，不过影响不大。

B 项正确，手机的通信过程就是使用手机把语言信号传输到移动通信网络中，再由移动通信网络将语言信号变成电磁频谱，通过通信卫星辐射漫游传送到受话人的电信网络中，受话人的通信设备接收到无线电磁波，转换成语言信号接通通信网络。

C 项错误，电动牙刷发出的超声波属于声音，声音可以在空气中传播。

D 项错误，音频探测器是探测声音的装置，用音频探测器能够搜集废墟中幸存者发出的声波信息。

故正确答案为 B。

20、本题考查科技常识。

“打蛇打七寸”并非特指蛇头以下七寸（23 厘米）处，而是指打中蛇的要害，即蛇的心脏位置。蛇心脏被重击后，供血能力将会受到严重影响，蛇的行动能力大大降低，此时蛇可能会处于休克状态甚至死亡。

故正确答案为 B。

21、本题考查科技常识。

鉴别鱼是否新鲜的方法包括：1. 鲜鱼嘴内清洁、无污物、不发黏；2. 鲜鱼眼饱满稍凸、黑白眼球分明、清澈澄亮无瘀血；3. 鲜鱼鳃片鲜红无杂质；4. 鲜鱼鳞片紧附鱼体、完整有光泽；5. 鲜鱼肉紧实有弹性；6. 鲜鱼腹部不膨胀；7. 鲜鱼的鱼肛孔凹陷、不胀不凸。

本题为选非题，故正确答案为 B。

22、本题考查科技常识。

物理变化和化学变化的根本区别在于是否有新物质生成。如果有新物质生成，则属于化学变化；反之则是物理变化。

A 项错误，铁丝弯曲，只是改变了铁丝的形状，没有新物质生成，属于物理变化。

B 项错误，西瓜榨汁，只是将西瓜汁液提取出来并改变了西瓜果肉的形态，没有新物质生成，属于物理变化。

C 项正确，食物腐败的主要原因是氧化作用和微生物作用引起变质和产生毒素。其中大气氧化会造成食物中脂肪、糖、蛋白质、维生素变质；植物类食物如谷物、蔬菜、水果等在存放期间继续其呼吸作用，即将有机物分解成二氧化碳、水和释放能量；另外在酶作用下会发生分解现象，即酶酵解。故食物腐烂过程中有多种新物质生成，属于化学变化。

D 项错误，灯丝的熔断是因为灯丝由钨制成，在高温下会“升华”变细。又由于白炽灯丝的不均匀性，当灯丝通电工作时，在钨丝直径较细和螺距较密处的温度较高，钨的蒸发比其他部分剧烈，即该处的钨丝变得更细，则温度变得更高，产生恶性循环，最终导致该处灯丝烧毁熔断。过程中没有新物质生成，属于物理变化。

故正确答案为 C。

23、本题考查科技常识。

一切物体都有惯性，惯性是物体的固有属性，物体在任何情况下都有惯性，惯性的大小只与质量有关。

①项错误，小明没有推动静止的汽车，汽车处于平衡状态，说明推力等于所受阻力，与惯性无关。

②项正确，火车刹车后不能马上停下来，是由于火车具有惯性，仍要保持原来的运动状态。

③项错误，高速飞行的子弹是因为子弹具有惯性，但穿入木头静止后惯性也不会消失。

④项正确，将锤子的木柄在硬地上撞击几下，锤头便套紧了，因为锤柄受到地面的阻力静止，而锤头由于惯性，仍要保持原来的运动状态，继续向下运动。

故②④项说法正确，正确答案为C。

24、本题考查科技常识。

铝是地壳中含量最多的金属元素。铝是一种活泼金属，在常温下就能与空气中的氧气发生反应，表面生成一层致密的氧化铝薄膜。人们日常用的铝制品通常都是由铝合金制造的，其表面总是覆盖着致密的氧化铝薄膜，这层膜起着保护内部金属的作用。

故正确答案为C。

25、第一空，根据文意可知，校园文化是学校在长期不断的发展过程中所形成的。B、C项“积淀”、“沉淀”意思是积累凝聚，能够体现出长期发展积累形成的文化体系，保留；A项“传承”泛指学问、技艺、教义等，在师徒间的传授和继承；D项“继承”指继续做前人遗留下来的事业、文化等，文段并未强调继续传承前人的事业，故此两项均不合文意，排除。

第二空，根据后文“三个层面”可知，应体现出校园文化包含三个层面的内容。B项“包括”意为包含，含……在内，符合文意，当选；C项“饱含”强调充满，不合文意，排除。

故正确答案为B。

26、第一空，搭配“数据”，且根据前文“整合多元开发模式”，可知横线处需体现将公共数据与社会数据二者结合在一起使用的意思。A项“匹配”指搭配、配合事物，不合文意，排除；B项“熔合”指固态金属熔化后合为一体，C项“容和”指曲意苟合，B、C项均不合文意且搭配不当，排除；D项“融合”指不同的事物合成一体，符合文意，且搭配“数据”得当，当选。

第二空代入验证，“遵循……道德准则”符合文意且搭配得当，当选。

故正确答案为D。

27、第一空，根据后文可知，所填词汇需搭配“新领域新赛道”。B项“开辟”指打开通道、开拓扩展，强调从无到有地打通、创建，“新领域新赛道”即全新，侧重从无到有的过程，符合文意，保留；A项“开拓”即从小到大地发展、扩大，文段侧重使全新赛道产生，而非扩大原有的，故排除；C项“开创”即开始创立，首创开辟，一般用于开始建立或开始打开新的局面，搭配不当，排除；D项“开发”通常指对某一类资源或领域的开拓和利用，如开发新能源，开发石油，与“赛道”搭配不当，排除。

第二空代入验证，“塑造发展新动能新优势”符合文意，当选；

故正确答案为B。

28、第一空，根据文段内容可知，文段在描述“实现中华民族伟大复兴”的一路过程。横线处应体现道路发展与伟大复兴开始于鸦片战争以来志士仁人的求索之意。C项“发轫”比喻新事物或某种局面开始出现；D项“开始”，均符合文意，保留；A项“起源”事物产生的根源；B项“来源”指事物所来的地方、事物发生的根源，均与文意不符，排除。

第二、三空，根据文段“...于鸦片战争以来...于毛泽东领导新民主主义革命胜利...于邓小平高蹈宏阔的改革开放...传承于江泽民、胡锦涛、习近平继往开来”可知，后文描述的发展过程构成递进的逻辑关系，故二、三空也应构成递进关系。C项第二空“奠定”建立，安置使稳固，奠定基础之意，第三空“成功”，两者构成递进发展，当选。D项第二空“行进”，第三空“推动”均是前进过程，无法构成递进关系，排除。

故正确答案为C。

29、第一空，搭配“潜力”，应体现出黑土地里暗藏着潜力能量之意。A项“蕴藏”指蓄积而未显露或未发掘，B项“隐藏”隐蔽躲藏，不让别人发现，C项“埋藏”埋在地下，隐藏着的，均符合文意，保留；D项“包藏”指隐藏包含，一般搭配“包藏祸心”，搭配不当，排除。

第三空，搭配“向往”，分析文段可知，哈尔滨这座城市“生机勃勃”，无比渴望奋进，同时也体现出国家对合作共赢的向往。A项“寄托”即寄予托付之意，符合文意，搭配得当，当选；B项“暗含”、C项“隐喻”意为暗中包含、暗喻，不合文意，排除；

第二空，代入验证，“涌动着奋进的渴望”能够体现出城市存在着无穷的能量，符合文意，当选。

故正确答案为A。

30、根据顿号可知，横线处考查三并列，且对应“经验、知识和智慧”。根据选项设置，需判断“累积”“传承”“增长”三词之间关系，故所填内容应具有先后逻辑顺序。A项中，“累积”侧重积累过程，“传承”侧重传授继承，“增长”侧重原有基础上提高，符合先后逻辑，当选。B、C、D项均不符合文段所述逻辑顺序，均排除。

故正确答案为A。

31、第一空，横线前出现指代词“这种”，故所填语句应对前文所述“不动笔墨不读书，抄录或笔记”的阅读方法，强调认真阅读。B项“精读”指仔细阅读，符合文意，当选。A项“博览”指广泛阅览，强调读书多，与文意不符，排除；C项“诵读”指诵读诗文时读出声音来，与文意不符，排除；D项“质疑”指怀疑，与文意不符，排除。

代入验证第二空，根据“最有识见、最能用材料的人”可知，“博览”符合文意，当选；

代入验证第三空，根据“大胆假设，小心求证”可知，“质疑”符合文意，当选；

代入验证第四空，根据“放声疾读，久之自悟”可知，朱自清主张阅读要发出声音，符合文意，当选。

故正确答案为B。

32、第一、二空，根据“两百年的……，两百年的……”相同句式可知，横线处考查并列关系，且根据后文“见证、亲历了这个国家、这个民族从黑暗贫穷向光明富强的艰难转型”可知，横线处应体现出“黑暗贫穷”到“光明富强”的两种状态。A项“卑微或荣耀”“彷徨或呐喊”，符合文意，保留；B项“卑微与屈辱”“苦闷与彷徨”只能体现“黑暗贫穷”的状态，不符合文意，排除；C项“屈辱或风光”“彷徨与苦闷”，D项“荣耀与风光”“呐喊或抗争”两组句式不符，无法构成并列结构，排除。

验证第三空，横线处所填词语搭配“奉献”，A项“欢娱与力量”搭配恰当，当选。

故正确答案为A。

33、第一空，根据“既不……也不……”可知，考查并列关系，且结合语境与选项，横线处应同“妄自菲薄”语义相反。“妄自菲薄”指过分看轻自己，故所填词语应体现过分自大之意。B项“旁若无人”指身旁好像没有人，比喻态度傲慢，不把别人放在眼里，文中并未讨论周围是否有人，不合语境，排除；C项“自鸣得意”指自以为为了不起，表示很得意，侧重于自我陶醉，程度较轻，排除。A项“高傲自大”指自以为为了不起，极其骄傲，符合文意；D项“妄自尊大”指没有根据的高看自己，轻视别人，符合文意，且与“妄自菲薄”结构一致，故优于A项“高傲自大”，择优选择D项。

验证第二空，搭配“制高点”，D项“抢占”指抢先具有，搭配恰当且符合文意，当选。

故正确答案为D。

34、第一空，根据“统筹兼顾、系统谋划、整体推进”可知，推进中国式现代化要全面考虑，“顶层设计”指一种具有系统和全局观的设计理念，侧重“理念”，故横线处所填内容应强调兼顾实践。A项“推进改革”、C项“实践探索”，两项均侧重强调“实践”，符合文意，保留。B项“四梁八柱”、D项“建设基础”均强调结构，与文意无关，排除。

第二空，横线处应与“战略”构成并列关系，“战略”指全局的策划和指导方向，C项“策略”指计策，谋略，强调具体做法，可构成对应关系，当选。A项“方法”指为达到某种目的而采取的途径、办法，填入此处程度较轻，无法同“战略”对应，排除。

代入验证第三空，“秩序”指有条理地、有组织地安排各构成部分以求达到正常的运转或良好的外观的状态，同“活力”对应恰当，当选。

故正确答案为C。

35、第一空，根据前文“从来不是旧纸堆里的过往云烟”及后文“宛如长者的谆谆叮咛，在每一个时代，都有可以落脚的现实意义”可知，前后感情色彩相反，呈现出反义并列关系，A、D项“而是”填入此处可以使前后文形成反义并列关系，保留。B、C项“就是”则表示选择关系，与文意不符，排除。

第二空，根据文段可知，需体现阅读完经典后产生的作用、意义和效果。D项“受益匪浅”指收获不小，符合文意，当选。A项“耳目一新”指听到的、看到的跟以前完全不同，令人感觉到很新鲜，虽然也可以体现阅读经典后的感觉，但与前文的“常听常新”矛盾，排除。

第三空、第四空代入验证，搭配恰当，符合文意，当选。

故正确答案为D。

36、通过两个“、”可知，三个空所填的词语形成三并列关系，且结合选项可知，此处三空所填的词语语义上略有不同，前后呈依次递进关系。“千姿百态”形容姿态多种多样或种类十分丰富，侧重体现外在形象的姿态；“栩栩如生”形容画作或雕塑中的艺术形象生动逼真，就像活的一样，侧重体现外在形象的鲜活；“浑然天成”指自然形成的整体，无雕琢的痕迹，侧重体现外在形象的完整。故这三个词按照语义程度的递进，应该先描述黄河奇石外观的整体特点，再描述更为具体的特点，最后落在“天人合一”这一特点上，即千姿百态、栩栩如生、浑然天成，对应D项。

A、B、C项均不合语境，排除。

故正确答案为D。

37、观察文段可知，全文句式相同，三个分句间构成三并列关系，且根据“检验、贯彻、彰显”的顺序可知，所填的三个空需构成递进关系，即先要证明马克思主义是正确的，然后马克思的内容得以实行，最后证明其对未来也是有指导作用的。B项，“科学性和真理性”先得到检验，然后贯彻其内容，即“人民性和实践性”，最后其“开放性和时代性”得以彰显，填入文段均符合语境，当选。

A、C、D项均不符合语境，排除。

故正确答案为B。

38、前三空，观察文段可知，整个文段都在强调大自然的重要性，需要人与自然和谐相处，感情色彩积极，故所填词语也应保持积极色彩。A、C项符合文意，保留。B项中的“利用自然”及D项中的“征服自然”不符合文意，排除。

第四空，根据后文“人与自然和谐共生的高度谋划发展”可知，人与自然是共生关系，故保护自然就是保护人类的利益，A项“绿水青山就是金山银山”符合语境，当选。D项“金山银山不如绿水青山”不符合文意，排除。

故正确答案为A。

39、文段开篇引出话题，阐明良好的生态环境与农村之间的关系，接着指出新时代乡村的作用，最后通过结论词“因此”得出结论，强调乡村“宜居”可以为“宜业”创造条件，同时“宜业”可以支撑“宜居”。故文段重点为尾句，意在强调最后的结论，即乡村“宜居”和“宜业”之间相互支撑的关系，对应D项。

A、B、C项均未体现出“互补性”，非重点，排除。

故正确答案为D。

40、文段首先引出陨石上发现氨基酸的话题，接着指出陨石上发现的有机物并不能证明地球上的生命起源于地外，接着通过转折词“但”表明这种生命元素能够出现在地外，最后通过“这项结论说明了一点”进行总结，强调在宇宙空间有机物普遍存在。故文段为分总结构，重点强调宇宙空间中有有机物普遍存在，对应C项。

A项“‘生命之源’的元素”和B项“地外存在‘生命之源’”均对应结论前内容，非重点，排除；

D项，“陨石上发现有机物”对应转折前内容，非重点，排除。

故正确答案为C。

41、文段先提出要多渠道助力实现碳达峰碳中和目标这一建议，随后指出目前要实现碳达峰碳中和的目标，还存在能耗需求大、制约因素多、信息披露少等问题，并进行举例说明。故下文应结合相关建议，并针对实现碳达峰碳中和目标的问题，从多渠道具体给出针对性对策，对应B项。

A项“出台顶层设计政策文件”、C项“融入生态文明建设”、D项“发布碳排放量具体数值”均为具体解决问题的做法，文段并未细化描述问题的具体类型，故三项均与文段话题不紧密，排除。

故正确答案为B。

42、A项，根据“制造业企业为提高自身生产效率并保持核心竞争力，将作为辅助活动的生产性服务业逐渐分离出来”“分离出来的通用性生产性服务企业……”可知，“分离出来”即“独立”，表述正确，当选；

B项，根据文段“制造业企业为提高自身生产效率并保持核心竞争力，将作为辅助活动的生产性服务业逐渐分离出来”可知，应该是“分离”是为了提高效率，而非“壮大”，选项偷换概念，排除；

C项，根据文段“分离出来的通用性生产性服务企业基于规模经济的考虑……逐渐形成独立的行业并发展壮大”可知，“更加专业”无中生有，排除；

D项，“不再设有通用性生产性服务部门”无中生有，排除。

故正确答案为A。

43、文段先指出文艺复兴时期群星闪耀，并指出该时期广为后世流传的名字和真理迸发着生命力，体现文艺复兴思想的重要意义。然后指出学者们为了人文的希望不断前赴后继，通过具体实践以实现心中理想。故文段重点强调文艺复兴思想的深刻影响，对应A项。

B、C、D项均与文段话题无关，排除。

故正确答案为B。

44、文段首先提出重视新型智库建设这一话题，随后分析智库对于我国的重要性，接着通过对策标志词“必须”强调依托大数据推动地方智库高质量发展的一系列具体做法，故文段重点强调如何通过大数据助力智库建设，对应B项。

A、C、D项均缺少核心话题“大数据”，排除。

故正确答案为B。

45、横线出现在文段中间，应起到承上启下的作用。横线前指出人们常对个别民族的“非遗”文化进行抢救，随后通过转折词“但”提出问题，即如何突破这种针对“个别”抢救的“非遗”。后文指出从56个民族的大家庭角度出发，让“非遗”能够普遍覆盖。前后文均围绕“民族”这一话题展开，且横线位于尾句之中，与尾句关联更紧密，故横线处语句应体现将“非遗”置于更加广阔的领域、置于全民族的视角中看待，对应B项。

A、C、D项，“归属”特殊的生活生产方式”“形态”均无法对应文段前文所表达出的应该在更加宏观、广博的领域视角下看待非遗之意，与前后文无法衔接，排除；

故正确答案为B。

46、横线出现在文段开头，应起到概括后文的作用。后文先是指出天气晴朗，而后介绍了田野中的景象，即嫩绿色的草夹杂着点点淡黄的蒲公英，一眼望去，远处的杨柳像是一片绿雾。故根据后文中“嫩草”“淡黄的蒲公英”“杨柳绿得有了烟雾”这些意象可知，文段描写的是初春的景色，对应A项“雪消门外千山绿”，意为门外的雪都化了可以看见青翠的山。

B项，“人间四月芳菲尽”意为在人间四月里百花凋零已尽，文段未出现有关“花”的论述，无法概括后文，排除；

C项，“毕竟西湖六月中”意为六月里西湖风光景色到底和其他时节的不一样，描述的是夏天的景色，与文意不符，排除；

D项，“最是橙黄橘绿时”意为最美景是在秋末初冬橙黄桔绿的时节，描述的是秋天的景色，与文意不符，排除。

故正确答案为A。

47、对比选项，确定首句。①句指出定量研究受到定性研究者的批评，②句指出定量化研究水平提升的同时，社会学内部在方法论上隔阂更深了，分析可知，①句是对于②句中“在方法论上的隔阂”的具体解释说明，故①句应在②句后论述，排除A、D项。⑤句由关联词的后半部分“但是”引导，不适合作首句，排除C项，锁定B项。

故正确答案为B。

48、对比选项，确定首句。①句介绍西湖龙井的“四绝”，即“色绿、香郁、味甘、形美”，⑤句介绍评定茶优劣需从色、形、香、味入手，分析可知，①句借由龙井“四绝”具体解释好茶的评判标准，是对⑤句解释说明，故①句应在⑤句后论述，排除A、B项。

对比C、D项，可区分②⑥句的顺序。②句介绍龙井的香气，⑥句介绍龙井的味道，根据①句中“香郁、味甘”可知，应先介绍香气，再论述味道，故②句应在⑥句前，锁定C项。

验证C项，首句指出评定的优劣，必从色、形、香、味入手，后文④句论龙井其色澄清碧绿，③句论龙井形似“旗枪”“雀舌”，②句指出龙井香气清新醇厚，⑥句指出品尝龙井的滋味如何，按照前文指出色、形、香、味顺序论述，逻辑恰当，当选。

故正确答案为C。

49、根据题意甲生产三天检修一天，即每4天检修一次；乙生产四天检修一天，即每5天检修一次；丁生产五天检修一天，即每6天检修一次。则下一次三条生产线同时检修需要再过4、5、6的最小公倍数60天。3

月 15 日同时检修后，3 月还有 16 天，4 月 30 天，此时还需经过 $60-16-30=14$ 天，即三条生产线下次同时检修日期是 2023 年 5 月 14 日。

故正确答案为 C。

50、根据题意，除甲、乙外还需从剩余 8 名员工中选择 2 名，则共有 $C_8^2 = \frac{8 \times 7}{2 \times 1} = 28$ 种不同的选法。

故正确答案为 D。

51、赋值每辆推土机的效率为 1，工程总量 $=50 \times 1 \times 8 \times 25=10000$ 。有 9 天无法开工，则实际工作天数为 $25-9=16$ 天，其中，前 10 天工作量为 $50 \times 1 \times 8 \times 10=4000$ ，剩余 6 天工作量为 $10000-4000=6000$ ，需要 $\frac{6000}{6 \times 10 \times 1} = 100$ 台，增加了 $100-50=50$ 台。

故正确答案为 A。

52、赋值工作总量为 240， $P_{甲} = \frac{240}{48} = 5$ ， $P_{乙} = \frac{240}{60} = 4$ ， $P_{丙} = \frac{240}{40} = 6$ ，设三位老师共同完成需要 t 小时，则 $(5+4) \times 5 + (5+4+6) \times t = 240$ ，解得 $t=13$ ，则甲共批改 $5+13=18$ 小时。

故正确答案为 D。

53、两人同时同向出发，小张追上老张需要 8 分钟，根据追及公式 $S_{差} = V_{差} \times T_{追及}$ ，则 $V_{差} = V_{小张} - V_{老张} = \frac{400}{8} = 50$ 米/分钟... ①；两人同时反向出发，小张和老张相遇需要 2 分钟，根据相遇公式 $S_{和} = V_{和} \times T_{相遇}$ ，则 $V_{和} = V_{小张} + V_{老张} = \frac{400}{2} = 200$ 米/分钟... ②，①②式联立得 $V_{老张} = \frac{200-50}{2} = 75$ 米/分钟，则老张在该运动场跑一圈需要 $\frac{400}{75} \approx 5.33$ 分钟。

故正确答案为 A。

54、王老板第一次进货获利为 $100 \times 20\% = 20$ 万元，售价为 $100 + 20 = 120$ 万元；再次购入另一批货成本为 $120 \times 80\% = 96$ 万元，售价为 $96 \times 80\% = 76.8$ 万元，获利 $76.8 - 96 = -19.2$ 万元，则王老板共盈利 $20 - 19.2 = 0.8$ 万元。

故正确答案为 B。

55、根据题意，最后配置成了浓度为 25% 的糖水 600 克，则溶质即糖的质量为 $600 \times 25\% = 150$ 克，加入 50 克水前，糖水的质量为 $600 - 50 = 550$ 克。

方法一：设原浓度为 15% 的糖水质量为 x ，则原浓度为 30% 的糖水质量为 $(550-x)$ ，根据溶质不变可列方程： $15\%x + 30\% \times (550-x) = 150$ ，解得 $x = 100$ ， $550-x = 450$ ，则原浓度为 15% 和 30% 的糖水质量之比为 $100 : 450 = 2 : 9$ 。

方法二：第一次混合后的浓度为 $\frac{150}{550} = \frac{3}{11}$ ，根据线段法：距离（浓度差）与量（溶液质量）成反比，距离

之比为 $\frac{\frac{3}{11} - 15\%}{30\% - \frac{3}{11}} = \frac{\frac{27}{220}}{\frac{3}{110}} = \frac{9}{2}$ ，则所求溶液质量之比为 2:9。

故正确答案为 C。

56、根据四个车间生产效率之比为 4:3:2:1，赋值 A、B、C、D 四个车间每小时分别生产了 400 个、300 个、200 个、100 个零件。则 1 小时内 A 生产的不合格产品为 $400 \times 4\% = 16$ 个，B 生产的不合格产品为 $300 \times 2\% = 6$ 个，C 生产的不合格产品为 $200 \times 3\% = 6$ 个，D 生产的不合格产品为 $100 \times 5\% = 5$ 个。根据 工作量=效率×时间，时间相同的情况下，工作量与效率成正比，因此随机抽取一件产品经检测为不合格产品时，A、B、C、D 生产的不合格产品数量之比为 16:6:6:5，则所求概率 $= \frac{6}{16+6+6+5} = \frac{6}{33} \approx 18.2\%$ 。

故正确答案为 D。

57、方法一：设经销商有 x 家，要保证无论什么分配方式都要有经销商至少分到 200 箱白酒，则考虑最不利情况，即每家经销商分到 199 箱，再余出来一箱即可，可列方程： $199x+1=10001$ ，解得 $x \approx 50.3$ ，向下取整为 50。

方法二：问至多有多少家，从最大的选项开始代入。分配方式为平均分配可以使经销商最多。

代入 D 项，如果每家先分 199 箱， $51 \times 199 = 10149$ 箱，则可能所有经销商分得的白酒都不超过 200 箱，排除；

代入 C 项，如果每家先分 199 箱， $50 \times 199 = 9950$ 箱，剩余 $10001 - 9950 = 51$ 箱，则无论怎么分，都会有一家经销商至少分得 200 箱，当选。

故正确答案为 C。

58、设该长方体的长宽高分别为 $(a+2)$ ， a 米， $(a-2)$ ，根据题意可列方程： $\sqrt{(a+2)^2 + a^2 + (a-2)^2} = \sqrt{251}$ ，解得 $a = 9$ 米，则该长方体体积 $= (a+2) \times a \times (a-2) = (9+2) \times 9 \times (9-2) = 11 \times 9 \times 7 = 693$ 立方米。

故正确答案为 D。

59、方法一：根据题意，设小玉今年的年龄为 x ，哥哥今年年龄为 $2y$ ，则今年母亲和父亲的年龄分别为 $3x$ 和 $5y$ 。根据题意可列方程： $3x+3+5y+3=82$ ①， $x+3+2y+3=34$ ②，解得 $y = 8$ ，则父亲今年的年龄为 $5y = 40$ 岁。

方法二：由题可知“小玉哥哥的年龄是父亲的 $\frac{2}{5}$ ”，则今年父亲的年龄需满足为 5 的倍数，只有 B 项满足。故正确答案为 B。

60、观察数列前后项存在倍数关系，考虑作商，后项 \div 前项可得新数列①：3，3，1， $\frac{1}{9}$ ，()；无规律再次作商可得新数列②：1， $\frac{1}{3}$ ， $\frac{1}{9}$ ，()构成公比为 $\frac{1}{3}$ 的等比数列，因此所求项 $=\frac{1}{9} \times \frac{1}{3} \times \frac{1}{9} = \frac{1}{243}$ 。

故正确答案为D。

61、本题为无心圆图形数阵，优先考虑对角线找相等，无明显规律，考虑横向或者纵向规律。观察发现：

第一个数阵中， $(6-7) \times 2 = 9-11$ ；

第二个数阵中， $(-3-8) \times 2 = -9-13$ ；

第三个数阵中， $(4-2) \times 2 = 5-1$ ；

故第四个数阵中， $(5-9) \times 2 = 7-?$ ，因此? $=15$ 。

故正确答案为D。

62、思路一：

元素组成不同，且无明显属性规律、数量规律。九宫格优先横行看，观察发现，第一行图形中“B”是26字母表中的第2位，“a”是“B”的前一个字母的小写字母；第二行图形满足此规律，“F”是26字母表中的第6位，“e”是“F”的前一个字母的小写字母；第三行图形应用此规律，故?处应选择“K”的前一个字母的小写字母的图形。

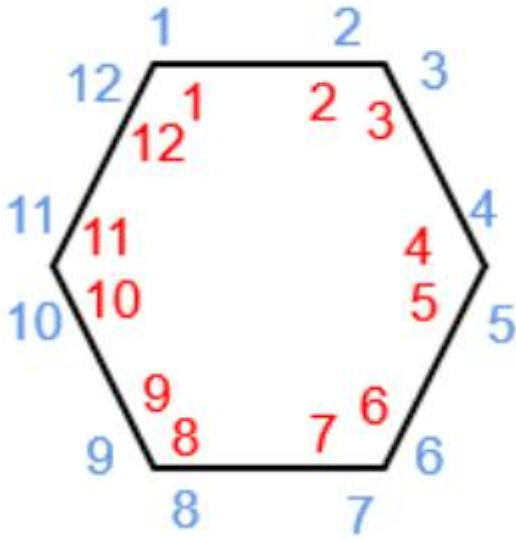
故正确答案为D。

思路二：

元素组成不同，且无明显属性规律，优先考虑数量规律。九宫格优先横行看，观察发现，题干图形均出现白色封闭区域，考虑面数量。第一行图形中面数量相加等于3；第二行图形中面数量相加等于2；第三行图形应用此规律，故?处应选择能让第三行图形面数量相加等于1的图形。

故正确答案为C。

63、元素组成相同，优先考虑位置规律。观察发现，题干图形以六边形框为界分为内外两部分，每个部分均包含12个点位（如下图所示）。在第一横行中，小黑球在外部和内部依次交替出现，且每次移动一个点位（外圈1—内圈2—外圈3），第二横行继续保持此规律（内圈6—外圈5—内圈4），将规律应用到第三横行，前两幅图从（外圈7—内圈8），?处应选择小黑球在外圈9号位的图形，只有B项符合。



故正确答案为 B。

64、元素种类不同，且无属性规律，优先考虑数量规律。观察发现，题干中出现黑球、白球，优先数黑球、白球的数量。每幅图中黑白球的数量分别为：1、2；2、2；2、3；3、5；4、3；1、5。图①③⑤中黑白球的数量组合均为一奇一偶，图②④⑥中黑白球的数量组合均为同奇同偶，故①③⑤为一组，②④⑥为一组。

故正确答案为 D。

65、元素组成不同，且无明显属性规律、数量规律，考虑特殊规律。题干图形中都出现小圆，考虑功能元素。观察发现，A、B、D 项中的两个小圆均分别位于三角形同一条边的内外两侧，而 C 项中的两个小圆分别位于三角形两条边的外侧，只有 C 项不同。

故正确答案为 C。

66、第一步：找出定义关键词。

“它的效用名义上向全社会提供，即谁都可以用”、“它在受益上却可以排它，即谁花钱谁受益”。

第二步：逐一分析选项。

A 项，高速公路向全社会开放，符合“它的效用名义上向全社会提供，即谁都可以用”，向过往车辆收取过路费，符合“它在受益上却可以排它，即谁花钱谁受益”，符合定义，排除；

B 项，高档小区的健身中心并非向全社会开放，不是公共物品或服务，不符合“它的效用名义上向全社会提供，即谁都可以用”，不符合定义，当选；

C 项，公共游泳馆向全社会开放，符合“它的效用名义上向全社会提供，即谁都可以用”，对会员实施价格优惠，说明该游泳馆收费，符合“它在受益上却可以排它，即谁花钱谁受益”，符合定义，排除；

D 项，4A 景区向全社会开放，符合“它的效用名义上向全社会提供，即谁都可以用”，对游客收取门票，符合“它在受益上却可以排它，即谁花钱谁受益”，符合定义，排除。

本题为选非题，故正确答案为B。

67、第一步：找出定义关键词。

“在中国境内有住所，或者虽无住所而在境内居住累计 183 天的个人，并从中国境内和境外取得所得的个人”、“在中国境内无住所又不居住或者无住所而在境内居住累计不满 183 天的个人，但从中国境内取得所得的个人”。

第二步：逐一分析选项。

A 项，玛丽在上海的学校任教三年，说明她在中国境内居住累计超过 183 天；获得年薪收入，说明她从中国境内取得所得，符合“在中国境内有住所，或者虽无住所而在境内居住累计 183 天的个人，并从中国境内和境外取得所得的个人”，符合定义，排除；

B 项，清华大学王老师，为外国企业提供服务获得收入，说明他从中国境外取得所得，符合“在中国境内有住所，或者虽无住所而在境内居住累计 183 天的个人，并从中国境内和境外取得所得的个人”，符合定义，排除；

C 项，歌唱家赵某，举办演唱会获得收入，说明他从中国境内取得所得，符合“在中国境内有住所，或者虽无住所而在境内居住累计 183 天的个人，并从中国境内和境外取得所得的个人”，符合定义，排除；

D 项，小董是美籍华人来上海旅游两个月，说明他在中国境内无所住，且在境内居住累计不满 183 天；在美国工作的公司向他支付工资，说明他是从中国境外取得所得，不符合“在中国境内无住所又不居住或者无住所而在境内居住累计不满 183 天的个人，但从中国境内取得所得的个人”，不符合定义，当选。

本题为选非题，故正确答案为D。

68、第一步：找出定义关键词。

“国家和社会”、“军人等从事特殊工作的人员及其家属”、“给予褒扬和优待抚恤、妥善安置措施的特殊社会保障制度”。

第二步：逐一分析选项。

A 项，小刘退伍后应聘到家电销售公司当项目经理，是退伍后转业，不是国家和社会给予小刘的优抚，不符合“给予褒扬和优待抚恤、妥善安置措施的特殊社会保障制度”，不符合定义，排除；

B 项，在军事演习中牺牲的小张的家属享受到国家给予的抚恤金，符合“国家和社会”、“军人等从事特殊工作的人员及其家属”、“给予褒扬和优待抚恤、妥善安置措施的特殊社会保障制度”，符合定义，当选；

C 项，公司承担小王医药费，公司不属于国家和社会，不符合“国家和社会”、“给予褒扬和优待抚恤、妥善安置措施的特殊社会保障制度”，不符合定义，排除；

D 项，在抢险活动中失去一只胳膊的小李，不清楚小李是否从事军人等特殊工作，不符合“军人等从事特殊工作的人员及其家属”，不符合定义，排除。

故正确答案为B。

69、第一步：找出定义关键词。

“政府为实现某些公共政策目标，对微观经济主体进行的规范制约”、“通过对特定产业和微观经济活动主体的进入、退出、资质、价格及涉及国民健康、生命安全，可持续发展等行为进行监督管理”。

第二步：逐一分析选项。

A项，羊绒衫企业根据气象预测调高产品售价，此行为企业即可自行决定，不涉及政府，不符合“政府为实现某些公共政策目标，对微观经济主体进行的规范制约”，不符合定义，排除；

B项，化工排放厂排放的污水含有超标有害物质，此行为会威胁国民健康、生命安全，需要政府对其进行规范制约，符合“政府为实现某些公共政策目标，对微观经济主体进行的规范制约”、“通过对特定产业和微观经济活动主体的进入、退出、资质、价格及涉及国民健康、生命安全，可持续发展等行为进行监督管理”，符合定义，当选；

C项，一些贫困户将扶贫款用于购买彩票是个人的选择，此行为不属于政府监管范围，不符合“政府为实现某些公共政策目标，对微观经济主体进行的规范制约”，不符合定义，排除；

D项，养殖场根据市场分析报告调整养殖水产品，此行为养殖场即可自行决定，不涉及政府，不符合“政府为实现某些公共政策目标，对微观经济主体进行的规范制约”，不符合定义，排除。

故正确答案为B。

70、第一步：找出定义关键词。

“在紧急事件中”、“由于有他人在场”、“产生的对救助行为的抑制作用”。

第二步：逐一分析选项。

A项：小刘决定不停车帮助爆胎车辆，是因为有其他车辆经过，符合“在紧急事件中”、“由于有他人在场”、“产生的对救助行为的抑制作用”，符合定义，当选；

B项：大家在媒体号召下救助流浪猫，是实施了救助行为，不符合“产生的对救助行为的抑制作用”，不符合定义，排除；

C项：酱油用完了不是紧急事件，不符合“在紧急事件中”，不符合定义，排除；

D项：小李在无人区不救治受伤的骆驼不是因为有他人在场，不符合“由于有他人在场”，不符合定义，排除。

故正确答案为A。

71、第一步：判断题干词语间逻辑关系。

承欢膝下指子女依偎于父母跟前以博得父母的欢心和爱抚，也指在父母跟前尽心侍奉，使父母过上欢乐的日子，天伦之乐指父母子女，团聚一堂，融融洽洽的乐趣，二者为近义关系。

第二步：判断选项词语间逻辑关系。

A 项，循规蹈矩原指遵守规矩，不敢违反，现也指拘守旧准则，不敢稍做变动，循序渐进指学习工作等按照一定的步骤逐渐深入或提高，二者无明显逻辑关系，与题干逻辑关系不一致，排除；

B 项，举重若轻比喻能力强，能够轻松地胜任繁重的工作或处理困难的问题，游刃有余比喻工作熟练，有实际经验，解决问题毫不费事，二者为近义关系，与题干逻辑关系一致，当选；

C 项，肝肠寸断比喻伤心到极点，披肝沥胆比喻真心相见，倾吐心里话，也形容非常忠诚，二者无明显逻辑关系，与题干逻辑关系不一致，排除；

D 项，目无全牛比喻技术熟练到了得心应手的境地，目中无人形容骄傲自大，看不起人，二者无明显逻辑关系，与题干逻辑关系不一致，排除。

故正确答案为 B。

72、逐一代入选项。

A 项，温暖指天气暖和，也可指使人心里觉得暖和，阴柔指人性格内向温和，二者无明显逻辑关系，虚心指谦虚，不自满、不自大，也可指心虚，心有所愧而胆怯，倨傲指高傲自大，傲慢，二者为反义关系，前后逻辑关系不一致，排除；

B 项，刻薄指（待人，说话）冷酷无情，过分苛求，阴柔指人性格内向温和，二者无明显逻辑关系，宽容指人宽宏有气量，不计较或不追究，倨傲指高傲自大，傲慢，二者无明显逻辑关系，前后逻辑关系不一致，排除；

C 项，阳刚指刚强，强劲有力，阴柔指人性格内向温和，二者为反义关系，谦逊指谦虚、不浮夸、低调、为人低调，不自满，倨傲指高傲自大，傲慢，二者为反义关系，前后逻辑关系一致，当选；

D 项，体贴指细心体会、领悟，关怀、体谅，设身处地为他人着想，使对方感到舒适满意，阴柔指人性格内向温和，二者无明显逻辑关系，随意指任凭自己的意愿，随心所欲的，倨傲指高傲自大，傲慢，二者无明显逻辑关系，前后逻辑关系不一致，排除。

故正确答案为 C。

73、第一步：判断题干词语间逻辑关系。

益母草又称红花艾，二者为全同关系。

第二步：判断选项词语间逻辑关系。

A 项，毫锥指毛笔，二者为全同关系，与题干逻辑关系一致，当选；

B 项，夕颜花的正名叫月光花，或是葫芦花，和太阳花为并列关系，与题干逻辑关系不一致，排除；

C 项，金星在中国古代被称为太白金星，清晨在东方天空出现则被称为“启明星”，和月亮为并列关系，与题干逻辑关系不一致，排除；

D 项，鄂是湖北的别称，与杭州无明显逻辑关系，与题干逻辑关系不一致，排除。

故正确答案为 A。

74、逐一带入选项。

A 项，梧桐象征孤独忧愁，与凄凉哀怨无关，二者无明显逻辑关系，杜鹃象征思乡怀亲，二者为比喻象征义，前后逻辑关系不一致，排除；

B 项，梧桐象征孤独忧愁，与凄凉悲伤无关，二者无明显逻辑关系，鸿雁可以寄托思乡怀亲之情，二者为比喻象征义，前后逻辑关系不一致，排除；

C 项，梧桐象征孤独忧愁，二者为比喻象征义，羌笛象征思乡怀亲，二者为比喻象征义，前后逻辑关系一致，当选；

D 项，梧桐象征孤独忧愁，与衰败荒凉无关，二者无明显逻辑关系，松柏象征长寿、坚贞，与思乡怀亲无关，前后逻辑关系不一致，排除。

故正确答案为 C。

75、双肩包、斜挎包、手提包均为包的一种，都是按背包方式进行划分，三者为并列关系。

第二步：判断选项词语间逻辑关系。

A 项，玻璃门和柏木门都是按照原材料对门进行划分，二者为并列关系，防盗门是按照功能进行划分，前两者与第三者为交叉关系，与题干逻辑关系不一致，排除；

B 项，金星和木星都是行星，不是恒星，前两者与第三者为反向种属关系，与题干逻辑关系不一致，排除；

C 项，推土机、挖掘机、起重机都是根据功能对机器进行划分，三者为并列关系，与题干逻辑关系一致，当选；

D 项，有的湖水是淡水，有的湖水是不是淡水，有的淡水是湖水，有的淡水不是湖水，二者为交叉关系，与题干逻辑关系不一致，排除。

故正确答案为 C。

76、第一步：翻译题干。

①爬泰山或回家看望父母

②回家→父母在家

③—父母在家

第二步：分析题干。

结合条件③②否后必否前可得：一回家，再结合条件①或关系否一推一可得：小强爬泰山，根据条件只能推出小强五一会出去玩，但并不清楚是否与父母同行，故只有 C 项符合。

故正确答案为 C。

77、第一步：分析题干。

①小兰的舞伴和小强一个寝室

②小兰的舞伴个子最低

③小富的个子比小美的舞伴高

第二步：根据题干条件分析选项。

根据条件①可知：小兰的舞伴不是小强，故排除 B 项；根据条件③可知：小富的舞伴不是小美，故排除 A 项；结合条件②③可知：小兰的舞伴不是小富，故排除 C 项，只有 D 项符合。

故正确答案为 D。

78、暂缺

79、暂缺

80、第一步：找出题干矛盾。

20 世纪 50 年代以来的全球变暖导致的中国西部的冰川面积总体萎缩 18% 左右，但局部地区的温度反而更低了。

第二步：逐一分析选项。

A 项，选项说明全球气候变暖不严重，不能解释为什么中国西部的冰川面积总体萎缩 18% 左右，不能解释题干矛盾，排除；

B 项，选项说明气候变暖会影响四季变化，但是否会影响温度的变化并不清楚，不能解释题干矛盾，排除；

C 项，选项说明局部地区的天气与大气变暖是无关系的，很好的解释了为什么大气变暖导致冰川萎缩，但局部地区的温度却在变低，可以解释题干矛盾，当选；

D 项，选项说明温室效应导致温度上升的原理，与题干讨论的为什么大气变暖导致冰川萎缩，但局部地区的温度却在变低的话题无关，不能解释题干矛盾，排除。

故正确答案为 C。

81、根据题干“2017 年—2020 年... 年均增长率约为”，可判定本题为年均增长率问题。定位统计表可知，

2017 年、2020 年建筑业增加值分别为 1202.3 亿元、1320.51 亿元。根据公式： $(1+r)^n = \frac{\text{现期量}}{\text{基期量}}$ ，则有 $(1+r)^3 = \frac{1320.51}{1202.3} \approx 1.098$ ，解得 $r = \sqrt[3]{1.098} \approx 3.17\%$ ，最接近 D 项。

故正确答案为 D。

82、暂缺

83、根据题干“2016 年—2019 年... 增长率最高的是”，可判定本题为一般增长率的比较问题。定位统计

表可知，2015 年—2019 年交通运输与邮政业增加值相关数据。根据公式： $\text{增长率} = \frac{\text{现期量} - \text{基期量}}{\text{基期量}}$ ，则 2016—2019 年增长率如下：

$$r_{2016} = \frac{976.53 - 936.26}{936.26} \approx \frac{40}{936} \approx 4\% ;$$

$$r_{2017} = \frac{1074.19 - 976.53}{976.53} \approx \frac{98}{977} \approx 10\% ;$$

$$r_{2018} = \frac{1030.05 - 1074.19}{1074.19} \approx \frac{-44}{1070} < 0;$$

$$r_{2019} = \frac{1202.71 - 1030.05}{1030.05} \approx \frac{173}{1030} \approx 17\%;$$

比较可知，增长率最大的是 2019 年。

故正确答案为 D。

84、根据题干“2020 年……比重……”，可判定本题为现期比重问题。定位统计表可知，2020 年六大行业增加值相关数据，则六大行业增加值总和 = 2056.23 + 5547.53 + 1320.51 + 888.9 + 921.31 + 1163.07 ≈ 2100 + 5600 + 1300 + 900 + 900 + 1200 = 12000 亿元。根

据公式：比重 = $\frac{\text{部分}}{\text{总体}}$ ，则题干所求 = $\frac{921.31}{12000} - \frac{888.9}{12000} \approx \frac{32}{12000} \approx 0.27\%$ ，即约高 0.27 个百分点。

故正确答案为 B。

85、A 项：定位统计表可知，2014 年、2020 年房地产业增长值分别为 646.21 亿元、921.31 亿元。根据公

式：年均增长量 = $\frac{\text{现期量} - \text{基期量}}{\text{年份差}}$ ，则 2014 年—2020 年房地产业年均增长量 = $\frac{921.31 - 646.21}{6} = \frac{275.1}{6} = 45.85$ 亿元，正确；

B 项：定位统计表可知，2014—2020 年，农林牧渔业、工业、金融业、房地产业增加值呈现一直增长趋势，建筑业先增再降再增长，交通运输和邮政业先增再降再增再降，先增后降的并非 2 个，错误；

C 项：定位统计表可知，2015—2020 年房地产业增加值相关数据，根据公式：增长率 = $\frac{\text{现期量} - \text{基期量}}{\text{基期量}}$ ，

则 $r_{2016} = \frac{705.05 - 684.49}{684.49} \approx \frac{20}{680} \approx 3\%$ ， $r_{2017} = \frac{735.27 - 705.05}{705.05} \approx \frac{30}{705} \approx 4\%$ ， $r_{2017} > r_{2016}$ ，增幅上升，错误；

D 项：定位统计表可知，2015—2020 年农林牧渔业增加值相关数据，根据公式：增长率 = $\frac{\text{现期量} - \text{基期量}}{\text{基期量}}$ ，

则 $r_{2016} = \frac{1677.04 - 1655.29}{1655.29} \approx \frac{22}{1660} \approx 1.3\%$ ， $r_{2017} = \frac{1677.71 - 1677.04}{1677.04} \approx \frac{0.7}{1680} < 0.1\%$ ， $r_{2017} < r_{2016}$ ，增幅下降，错误。

故正确答案为 A。

86、根据题干“2018 年……占……比例”，结合材料时间为 2018 年，可判定本题为现期比重问题。

定位材料第三段可知，2018 年我国已登记注册的企业总数为 4959671 个，已登记注册的创意企业共有 699608

个。代入数据可得 $\frac{699608}{4959671} \approx \frac{699608}{496000} \approx 14.1\%$ ，最接近 A 项。

故正确答案为 A。

87、根据题干“2018 年全国所有行业营业收入……”，结合材料（2018 年）……占全国所有企业营业收入总量的 5%，可判定本题为现期比重问题。定位材料第三段可知，已登记注册的创意企业全年营业收入为

4681.77 亿元，占全国所有企业营业收入总量的 5%。根据公式： $\text{总体} = \frac{\text{部分}}{\text{比重}}$ 可得，所求为 $\frac{4681.77}{5\%} = 93635.4$ 亿元 ≈ 9.36 万亿元，不足 10 万亿元。

故正确答案为 A。

88、根据题干“2018 年……所占比例……”，结合材料所给时间为 2018 年，可判定本题为现期比重问题。定位材料第四段可知，2018 年所有创意产业的从业人员中，大专学历以上的共有 725.49 万人，占总人数的 51.88%，……具有大学本科学历的人员 321.41 万人，具有大专学历的人员为 353.18 万人。根据总体

$\text{部分} = \frac{\text{部分}}{\text{比重}}$ 可得，2018 年创意产业从业人员总数为 $\frac{725.49}{51.88\%} \approx \frac{725.49}{52\%} \approx 1395.17$ 万人。故大专人员占比比本科人员多 $\frac{353.18}{1395.17} - \frac{321.41}{1395.17} \approx \frac{31.77}{1400} \approx 2.27\%$ ，最接近 C 项。

故正确答案为 C。

备注：本题选项不严谨，应为百分点而非百分数。

89、根据题干“2014 年—2018 年……年平均增长率”，可判定本题为年均增长率问题。定位材料第一段

可知，2014 年创意企业数量为 385915 个，2018 年增长到 699608 个。根据公式 $(1+r)^n = \frac{\text{现期量}}{\text{基期量}}$ ，代入数据可得 $(1+r)^{2018-2014} = (1+r)^4 = \frac{699608}{385915} \approx 1.81$ ，代入选项验证， $(1+16\%)^4$ 最接近 1.81。

故正确答案为 C。

90、A 项：定位材料第四段可知，（2018 年）与全国所有企业从业人员中高学历人才所占的比例相比，创意产业从业人员中研究生以上学历者的比例是平均水平的四倍多。正确；

B 项：定位材料第四段可知，2018 年所有创意产业的从业人员中，大专学历以上的共有 725.49 万人，占总人数的 51.88%。根据总体 $\text{部分} = \frac{\text{部分}}{\text{比重}}$ ，可得 2018 年创意产业从业人员总数为 $\frac{725.49}{51.88\%} \approx \frac{725.49}{52\%} = 1395.17 \approx 1400$ 万人，正确；

C 项：定位材料第一段可知，从社会全行业来看，2014 年—2018 年企业数量的年平均增长率为 11.15%，结合 89 题的计算结果 2014 年—2018 年创业企业数量的年均增长率约为 16%，前者小于后者，正确；

D 项：定位材料第二段可知，2014 年至 2018 年，我国创意企业全年营业收入增长了 103.56%，而从社会全行业的平均率来看，全年营业收入的年平均增长达到了 23.97%。根据公式 $(1+r)^n = \frac{\text{现期量}}{\text{基期量}}$ ， $\text{增长率} = \frac{\text{现期量}}{\text{基期量}} - 1$ ，两公式结合代入数据可得 2014 年—2018 年社会全行业收入平均水平的增长率 $= (1+23.7\%)^{2018-2014} - 1 > (1+20\%)^4 - 1 \approx 2.07 - 1 = 1.07 = 107\%$ ，高于创意企业的营业收入增速，错误。

此题为选非题，故正确答案为 D。