

2020 下半年四川公务员考试《行测》试题及答案
考生回忆版

公考通网校

www.chinaexam.org



公考通 APP



微信公众平台

2020 下半年四川公务员考试《行测》试题及答案

第一部分 常识判断

1. 以习近平同志为核心的党中央坚持以人民为中心的发展思想，提出“创新、协调、绿色、开放、共享”的新发展理念。以下最能体现“共享”新发展理念的是：

- A. 中国与“一带一路”沿线国家共建了 70 多个经贸合作区
- B. 港珠澳大桥海底隧道作为世界最长的海底隧道正式贯通
- C. 我国确定京津冀协同发展战略，调整优化城市布局 and 空间结构
- D. 我国坚持精准扶贫精准脱贫的基本方略，坚决打赢脱贫攻坚战

2. 下列说法不符合我国宪法规定的是：

- A. 总理人选由国家主席提名
- B. 宣战权属于全国人大及其常委会
- C. 省内某市实施紧急状态由国家主席宣布
- D. 公民有从国家获得物质帮助维持基本生活的权利

3. 下列行为属于见义勇为的是：

A. 外科医生张某在医院大厅看见一位老人突然心梗晕倒，立刻上前对其进行紧急处理，最终挽救了老人的生命

B. 王某回家时正遇小偷在自家盗窃，不顾个人安危，勇敢与小偷搏斗，虽身负重伤，但最终在邻居的帮助下抓住了窃贼

C. 军人陈某在回家探亲路上遇几名歹徒对一女子耍流氓，他毫不犹豫上前制止，结果被刺伤，歹徒还是跑掉了

D. 警察李某在巡逻中，突遇两名手持匕首的歹徒抢劫路人，他毫不畏惧地冲上前去与劫匪搏斗，最后将他们抓获

4. 下列毛泽东诗词中所描述的历史事件，按时间先后排序正确的是：

- ①七百里驱十五日，赣水苍茫闽山碧，横扫千军如卷席
- ②秋收时节暮云愁，霹雳一声暴动
- ③红军不怕远征难，万水千山只等闲
- ④钟山风雨起苍黄，百万雄师过大江

- A. ②①③④
- B. ③②④①
- C. ②①④③
- D. ③①②④

5. 下列与中国古代政府机构相关的说法，错误的是：

- A. 军机处始设于清代雍正帝统治时期
- B. 隋唐时期中央政府采用三省六部制
- C. 宋代的枢密院是主管财政的专门机构
- D. 明太祖为加强中央集权废除丞相一职

6. 下列关于地理学知识，说法正确的是：

- A. 散逸层空气稀薄，温度和热量都非常高
- B. 雷暴通常发生在温度低、湿度高的地方
- C. 平流层是大气最底层且最主要的大气层
- D. 地球大气散射蓝色光的能力比红色光强

7. 下列与鸟类有关的说法，错误的是：

- A. 鸟类均有羽毛，是恒温脊椎动物
- B. 丹顶鹤是国家一级保护野生动物
- C. “鹊巢鸠占”中的“鸠”指的是鹰
- D. 大部分乌鸦是不随季节迁徙的留鸟

8. 下列有关轨道交通的说法，错误的是：

- A. 希腊是第一个拥有路轨运输的国家
- B. 法国的TGV（高速列车）是世界上首条高速铁路
- C. 我国的高速铁路运营里程目前居世界第一
- D. 京张铁路是中国人自行设计和建造的第一条干线铁路

9. 下列关于日常生活知识的说法，正确的是：

- A. 金属器皿盛放食物可以放入微波炉中加热
- B. 医用酒精并非纯酒精是因为稀释后的酒精渗透能力更强
- C. 天然气燃烧时火焰呈紫蓝色说明缺氧，此时可适当调整灶具风门
- D. 煮熟的豆浆破坏了豆类原有的营养成分，因此豆浆最好不要完全煮熟

10. 下列关于体育运动的说法，正确的是：

- A. 举重、游泳和竞走均属有氧运动
- B. 田径比赛包括田赛、径赛和全能比赛
- C. 奥运会上垒球场的面积比篮球场的小
- D. 百米赛跑的世界纪录已经突破了9秒

第二部分 言语理解与表达

11. 近年来, 人民不仅对物质文化生活提出了更高要求, 而且在民主、法治等方面的要求日益增长, 但更加_____的问题是发展不平衡不充分, 这已经成为满足人民日益增长的美好生活需要的主要_____因素。

依次填入画横线部分最恰当的一项是:

- A. 现实 约束
- B. 突出 制约
- C. 严峻 限制
- D. 突兀 影响

12. 近年来, 国内某些博物馆以“特展”的名义, 对某些展览额外收取高额门票。这种做法恐怕不仅仅把非专业人士限制在外, 就连一些从事专业研究的学者也难免_____了。

填入画横线部分最恰当的一项是:

- A. 忍痛割爱
- B. 裹足不前
- C. 望而却步
- D. 大失所望

13. 《经典咏流传》将经典诗词的精神内涵与时代发展紧密结合, 在新的时代背景下重新_____和深度发掘, 实现了真正意义上的_____, 让国人对古典诗词有了更丰富、更亲近、更喜悦的体验。

依次填入画横线部分最恰当的一项是:

- A. 阐述 脱胎换骨
- B. 认识 发扬光大
- C. 诠释 古为今用
- D. 观照 与时俱进

14. 作为承载信息极大丰富的民族基因宝库, 文化并非扁平的、冰冷的物件, 其所涉及的科学门类_____。它们包含了大量的历史文化信息, 可以让今人_____过去, 找到认识自我的坐标: 不仅蕴含着博大精深的智慧, 巧夺天工的记忆, 而且有领先世界的成就。

依次填入画横线部分最恰当的一项是:

- A. 不计其数 反思
- B. 包罗万象 回溯
- C. 不胜枚举 追忆
- D. 五花八门 比照

15. 期刊与网络并存的格局是当下网络文学得以发生的逻辑前提, 正是由于期刊发表难, 积压的草根性创作

力量才通过网络得以大规模_____。不过，这种发表格局也折射出一种观念上的预设：发表在期刊上的作品一定是_____的，而网络文学就可以是粗陋的。

依次填入画横线部分最恰当的一项是：

- A. 发掘 严谨
- B. 爆发 正统
- C. 传播 经典
- D. 释放 精致

16. 千里岷江和沱江的冲击，_____了肥沃的成都平原。从高空俯瞰，金黄的油菜花热烈盛开，错落分布的村落_____在平坦宽广的农田中；围绕村落自然分布的树木，既为村落增加了独特的安全感，又为田间动物穿越提供了休憩的场所。

依次填入画横线部分最恰当的一项是：

- A. 滋润 镶嵌
- B. 成就 遍布
- C. 孕育 穿插
- D. 造就 点缀

17. 有的文明覆灭之后，原有的民族可能还在，但文化却被征服者彻底_____。中国历史上也不乏征服与被征服，中国文明却没有因此而断裂，一个很重要的原因是中国处于半封闭状态。东面是大海，西面是高原和荒漠，与其他地区的文明虽有接触，但相互间的交流与冲突总体来说并不_____。

依次填入画横线部分最恰当的一项是：

- A. 颠覆 充分
- B. 融合 频繁
- C. 改造 直接
- D. 同化 显著

18. 从现实角度来说。“好面子”实际上是一种遵守社会游戏规则的表现。如果不把面子事做好，就容易被周围的人_____。在很多人看来，根本不必考虑“好面子”背后的原因和目的，只要跟大多数人的行为保持一致，_____，就一定不会错，这就是社会心理学中经常提到的“羊群效应”。

依次填入画横线部分最恰当的一项是：

- A. 反感 亦步亦趋
- B. 排斥 随波逐流
- C. 鄙视 墨守成规
- D. 误解 人云亦云

19. 中学阶段大多数必读作品所反映的生活与当下生活差异较大，中学生对当时的社会很难有宏观、准确的_____，这就带来了阅读的障碍。此外，必读著作大多反映的是作家的人生经历和情感体验，没有一定人生阅历的人，很难体会到其中的情感共鸣与价值认同，于是_____。

依次填入画横线部分最恰当的一项是：

- A. 把握 知难而退
- B. 理解 半途而废
- C. 判断 断章取义
- D. 定位 望洋兴叹

20. 当国大业大、兵强马壮的时候，非我莫属、称王称霸的心理优势不免同步膨胀，进而就会很自然地顺应起弱肉强食的丛林法则，对外扩张、威胁他国，成为_____的思维惯性。而此时，属于文明的力道，才真正凸显出来。顺从欲望本能而为，_____，那是动物天性的暴力遗存；依照价值观念而为，约束自我，才是人类文明的进步力量。

依次填入画横线部分最恰当的一项是：

- A. 理所当然 顺其自然
- B. 水到渠成 以暴制暴
- C. 顺势而为 放任自流
- D. 因势利导 随心所欲

21. 最早对“峨眉”二字作出解释的是晋人任豫。其《益州记》记载峨眉山在南安县（今四川乐山）界以南八十里，两山首相望如蛾眉。这个说法为北朝酈道元所接受，其《水经注》记载峨眉山在安南县界，去成都南千里。秋日清澄，望见两山相峙如蛾眉。任豫、酈道元从峨眉山的外形来推定“峨眉”二字的语源语义来历，几乎成为后世定论，然而考查图书典籍，我们却找不到“峨眉”为“蛾眉”的文献证据。

这段文字是一篇论文的开头，这篇论文最可能：

- A. 考证“峨眉”一词的来源
- B. 介绍峨眉山外貌形态的变化
- C. 介绍《水经注》对后世的影响
- D. 论证文献对地理研究的重要性

22. 随着农村人口快速向城市转移，教育资源的供给并未随之增容，如调整中小学布局，扩建、新建学校，调配师资，单纯靠挖掘潜力“加双筷子”的办法，终究难以为继。人口城市化是不可逆的趋势，促进城乡教育均衡化，不是简单把农村学生留在农村，事实上也是留不住的；应顺应城市化发展的趋势，随人口流动来配置教育资源。子女教育往往是农村进城人口的第一需求，解决好农民子女进城教育的问题，是农村人口城市化的基础。

这段文字针对的主要问题是：

- A. 教育资源调配与现实需求严重脱节
- B. 人口快速流动给城市发展造成压力
- C. 农村转移人口在城市生活中遇到阻碍
- D. 城镇化背景下教育资源供给存在矛盾

23. 在老少冲突中，一类观点颇受年轻人的欢迎：年轻人早出晚归不容易，老人应该给他们腾出空间。这种说法所对应的逻辑是：一般认为年轻人利用资源是投入社会生产的，例如在公交车享有座位能够让他们更好地休息，从而提高工作效率。老人利用资源更多用于满足个人生活和享受性需求，是纯粹的消耗，而年轻人占有资源后最终会创造新的社会资源。这种伦理逻辑不乏市场，甚至为部分老年人所赞同。但是，“人人都有老去的一天”，在老年人和年轻人之间分配资源，不能只盯着眼前的功利。

这段文字意在强调：

- A. 应尊重老年人享受社会资源的权力
- B. 舆论在公共资源分配问题上反应强烈
- C. 不同的社会资源分配方案对应着不同的逻辑
- D. 功利的算计不应成为当代社会崇尚的价值理念

24. 说到中国戈壁荒漠中的植物，有些人首先想起的是胡杨、柽柳、梭梭，有些人想到的则是锁阳、肉苁蓉等形态独特的滋补药物，然而在植物学研究者的眼中，甘肃西北部的地带最珍贵、最神秘的物种，当属能够忍受极端环境的耐旱植物，以及绵刺、半日花等古地中海孑遗种类。这些貌不惊人的低矮灌木，对研究环境变迁物种演化有着重要意义。

这段文字接下来最可能讲的是：

- A. 植物学家对于珍贵物种的判断标准
- B. 低矮灌木在物种演化过程中的表现
- C. 戈壁荒漠植物抗击极端环境的能力
- D. 古地中海孑遗种类分布与环境的关系

25. 在舆论生态，媒体格局深刻变化的形式下，受众的接受心理和阅读习惯也发生了深刻变化，不同的人有着不同的信息需求，呈现分众化、差异化的趋势。过去传统媒体时代，新闻舆论态势犹如一个大教室，媒体是雷打不动的信息中心；移动互联时代，新闻舆论态势则近乎游乐场，受众可以随兴趣任意选择内容和场景，要从媒体竞争中突围，在舆论引导中制胜，空洞说教、生硬灌输不行，追求猎奇、编造故事不行，刻意迎合、取悦受众不行，庸俗媚俗、极端表达也不行。创新理念、内容、体裁、形式、方法、手段、业态、体制和机制，才能提高媒体对受众的“黏度”。

这段文字意在说明：

- A. 创新是媒体行业的发展要求
- B. 传统媒体已无法满足大众需求
- C. 舆论引导是媒体决胜的战略高地
- D. 媒体组织机构之间的竞争异常激烈

26. 资寿寺的壁画在我国现存的明代壁画中应属上品。在风格上，明显带着唐代接受外来文化影响的痕迹。同时又具有强烈的本土化的中原风格。西壁的壁画为工笔重彩画法，富丽华贵，严谨庄重，线描精准而流畅，线条有粗细变化，应比芮城永乐宫的壁画更具表现力。东壁壁画在风格上就不同了，明显出自另一位画工之手。这位画工技艺超群，用笔精熟老到，行笔速度很快，奔放之中极有神韵，而且设色很淡，线条突出，全幅画几乎是用线结构而成，其掌握运用线条的能力可想而知。即使是明代画坛上那些大家，有几位能有这位民间画工如此高妙的笔法？

关于资寿寺壁画，下列说法与原文相符的是：

- A. 艺术风格影响了明代的画坛
- B. 是明代中西文化交流的代表之作
- C. 西壁壁画与东壁壁画艺术风格迥异
- D. 比芮城永乐宫壁画的历史更加悠久

27. 大多数荧光增白剂是无毒的或相对无毒的，尤其是用于合成洗涤剂的种类，不会给人类健康造成风险，更不会引发肿瘤。各国洗涤剂中均含有 0.02%~0.5% 的荧光增白剂，我国目前的添加量也不高于此水平。洗涤废液中的荧光增白剂含量大约为 5ppm~10ppm，远低于任何毒性试验水平。此外，荧光增白剂可吸附在植物根部而不会渗透其根、茎、叶、花和果实中，这表明荧光增白剂对农作物有很高的安全性。环境中的荧光增白剂可以通过光分解（降解）和活性污泥吸附降解，加氯化消毒装置对其也有较好的处理效果，不会对人类和水生物造成健康影响。

下列说法与原文不符的是：

- A. 并非所有的荧光增白剂都是无毒的
- B. 洗涤剂中含有荧光增白剂是普遍现象
- C. 荧光增白剂含量超过 0.5% 的洗涤剂有害
- D. 活性污泥可吸附降解环境中的荧光增白剂

28. 在从猿到人的进化过程中，人们考虑到地理、气候、动植物资源等因素是完全正确的。但在禄丰古猿、东方人、元谋人生存的区域内有丰富的盐泽，不能不促使我们去思考盐在从猿到人进化中的作用。吃熟食易消化，促进原始人类的进步；古猿食盐促进食物消化，促进营养合成，增强古猿体质，从而提高了古猿的生存能力，促进了古猿的进化，也是合乎逻辑。

这段文字意在：

- A. 分析原始人类进化的原因
- B. 强调盐在古猿进化中的作用
- C. 对比盐与火对人类的影响
- D. 介绍考古研究发现的新成果

29. 随着春节临近，各大互联网企业推出的五花八门的“手机抢红包”活动再度引发各界关注。专家表示，作为近年来迅速兴起的一项“全民指尖新年俗”，手机红包已成为当前几大互联网巨头的战略要地；而愈演愈烈的“红包大战”，实质则是互联网巨头都不愿错过的一场用户之争，移动支付地位之战、生态场景之战。

最适合做这段文字标题的是：

- A. “手机抢红包”内置的利益链
- B. 互联网企业黏住用户的新方式
- C. 红包大战背后的互联网巨头之争
- D. 手机红包缘何成为“全民指尖新年俗”

30. 在一项针对留学生的跨文化交际调查中，当被问及“你适应中国的生活吗”时，超过 60%的亚洲学生和欧美学生都选择了“比较适应”，可见伴随汉语水平的提高和对中国了解程度的加深，大多数受访者已经逐渐步入了跨文化适应中的“恢复期”，正在更加理性地认识中国，并且寻找办法解决文化休克带来的交际问题。但是，仍然有 20%的亚洲学生处于“危机期”、认为“不太适应中国，对中国文化还很困惑，而仅有 8%左右的欧美学生有同样的感受，这说明，_____。

填入画横线部分最恰当的一项是：

- A. 中国文化与亚洲文化有亲缘关系的说法似乎并不成立
- B. 文化距离的远近并不是影响跨文化适应的关键因素
- C. 某种意义上讲，欧美学生比亚洲学生更能适应中国文化
- D. 对地域文化的了解程度决定其对该地域文化的接受程度

31.

①金沙江与横断山脉共同组成的山川屏障，将西南地区切割成狭小细碎的地理空间，在一定程度上阻隔了文化的交流，形成了各成一统的多彩面貌

②阻隔与交融，哪个才是金沙江在文明进程中扮演的真正作用

③由蛮荒之地到少数民族文化的摇篮，是什么造就了这里异中有同、瑰丽多姿的文化面貌

④汉代以前，金沙江被称作“黑水”，是一片笼罩在神话、传说之中，荒芜神秘而不可知的地带，在今天，它却是中国文化多样性最为丰富的地区

⑤金沙江发源于青海省格拉丹东雪山北麓，由玉树巴塘河口南流，继而向东奔流而去

⑥对于金沙江文化的追溯，或许也是对文明本身的追问

将以上 6 个句子重新排列，语序正确的一项是：

- A. ④⑤②⑥③①
- B. ①④⑤②③⑥
- C. ⑤①④③②⑥
- D. ②⑤⑥④③①

32.

①服饰形式主要采用上衣下裳制，衣用正色，裳用间色

②这种形式一直延续到春秋战国时期，直到一种名为“深衣”的连体服饰出现，才得以改变

③当时的服饰依据穿着者的身份、地位，各有分别

④中国的衣冠服饰制度，大概在夏商时期初见端倪，到了西周渐趋完善，并被纳入礼制范围

⑤这种审美观念对中国妇女服饰观的影响竟长达千余年之久

⑥在商周前后，随着封建生产关系的形成与发展，这个时期的女性服饰趋向完善和华丽，一袭长衫把女人的美发挥到极致

将以上 6 个句子重新排列，语序正确的一项是：

- A. ④③①②⑥⑤
- B. ④⑥⑤①③②
- C. ⑥④⑤③①②
- D. ⑥④②③①⑤

33.

①这是因为银杏的外种皮不但黏臭，还具有较强的酸性和毒性，过多接触还会引起皮肤过敏和腐蚀

②因为银杏树形巨大寿命也很长，掉落在母株附近的种子发芽之后没有办法熬过“长寿母亲”的树荫，只能枯萎

③银杏的适应能力异常强健，耐低温耐干旱耐贫瘠，甚至在极端环境下也能得以存活

④而除了人类，又少有其他动物会吃银杏的果实

⑤于是，银杏的果实自然掉落后常常只会原地腐蚀，直到坚硬的种子裸露之后才会有鸟兽触碰

⑥但银杏传播种子的能力却十分有限

将以上 6 个句子重新排列，语序正确的一项是：

- A. ②④①③⑥⑤
- B. ②⑤④①③⑥
- C. ③⑥②⑤①④
- D. ③⑥②④①⑤

34. 社会发展史表明, 和对食物的追求一样, 人类对美、对艺术的追求始终未变, 如果我们将这种追求称为“艺欲”的话, “艺欲”不会像“食欲”那样在满足后减弱, 反而会不断增强, 这种增强_____。我们都有这样的体验, 即便是独自阅读一部文学作品、欣赏一部影视剧或听一场音乐会, 也会产生与人交流的内在要求, 这种内在要求反过来又会刺激和增强新的文艺需求, 此种新需求主要不是重复欣赏某部作品, 而是希望欣赏到更加精良的作品。

填入画横线部分最恰当的一句是:

- A. 推动着文艺需求更多元丰富
- B. 强化了人们对文艺需求的敏锐感知和迅速回应
- C. 使文艺更加深刻而广泛地嵌入人们生活
- D. 主要表现为渴望获得质量更优的文艺作品

35. 相对于群众日益增长的健身需求, 我国已有体育场馆所能提供的公共体育服务无疑是捉襟见肘的。事实上, 建造新的体育场馆并非易事, 毕竟体育场馆的投入不菲, 而从场馆选址来说, 也并不能做到哪里有群众健身需求, 就可以在哪里建造场馆。在扩大健身场馆、设施的增量方面, 就近、就便提供体育场地设施, 因地制宜盘活各种资源, 使其能为群众健身所用, 是比较现实的选择。比如一些地区和城市依山、傍湖或利用公园建起健身步道, 一些街道和社区腾出健身休闲场地等, 都是值得大力推广的有益尝试。

下列选项不是这段文字中提及的工作思路?

- A. 相关部门转换思路
- B. 多途径充实资金来源
- C. 遵循因地制宜的原则
- D. 合理利用现有体育资源

36. 很多有奖答题类游戏一度异常火爆, 其实, 这类游戏的前身是电视里的有奖竞猜节目, 这种节目自诞生起就有很强的博彩性质。这类节目最大卖点在于让人们通过对金钱的非正常获取, 颠覆关于劳动与报酬的法则, 并在此过程中感受到刺激。益智, 从来不是有奖竞猜类节目最吸引人的地方, 有奖答题类游戏也一样。

最适合做这段文字标题的是:

- A. 金钱游戏与电视节目的原动力
- B. 益智还是赌博, 你需要想清楚
- C. 指望答题游戏益智?这并不现实
- D. 有奖类答题游戏走红背后的心理学

37. 我国城市每年餐厨废弃物产生量高达 9000 多万吨, 这是一笔可以再利用的资源, 然而长期以来, 废弃物的实际处理率不足 20%。实际上, 餐厨垃圾经过油水分离, 无害化处理等技术环节后, 可用于提炼生物柴油、沼气发电等多个领域, 具有一定的经济价值。近年来, 管理部门为部分餐馆的餐厨废弃物专用桶加装了电子芯

片，借助芯片能够对餐厨垃圾的来源、去向、清运量等全程在线监控。通过安装“身份证”，提升餐厨废弃物的回收利用效率，变废为宝，产生了理想的经济效益。

这段文字主要说明的是：

- A. 电子芯片技术可广泛应用于垃圾治理
- B. 解决餐厨废弃物问题应该采用新技术
- C. 油水分离是餐厨垃圾处理的核心技术
- D. 城市的餐厨废弃物可以转化为新能源

38. 天蓝釉是清代康熙年间首创的名贵色釉之一，由天青釉演变而来，是以钴、铜、钛、铁等多种金属元素为呈色剂，在高温还原条件下烧成。其釉色浅蓝，釉质莹洁清雅，似蓝色的天空，故名“天蓝釉”。康熙年间的天蓝釉器多为小件器皿，笔洗较多，其次是观音尊、双陆尊，大件器有觚、尊等。其中，天蓝釉刻菊花纹长颈瓶造型别致，胎质细腻，釉色淡雅宜人，纹样清晰，刻画线条纤细，为康熙天蓝釉瓷的代表作。

这段文字没有提及康熙天蓝釉瓷的：

- A. 主要产地
- B. 得名原因
- C. 器型特点
- D. 呈色原理

39. 刘慈欣这十年创作的每一篇科幻作品我都拜读过。他屡屡将目光投向贫瘠的大西北，写西北山村如何遭遇银河帝国拆迁队，一名身患癌症的教师、一群孩子、一个村庄、一个星球的命运，在群星闪烁的宇宙之下，如何奇妙地交织在一起（《乡村教师》）；写无数大肥皂泡裹带湿润空气以及两代人的梦想，进入内陆，从而调节西北干旱的气候（《圆圆的肥皂泡》）……

作者这段文字中所举的例子，是为了反驳下列哪项关于刘慈欣科幻作品的观点？

- A. 不过是幻想的文学，并不接地气
- B. 过于理性，很难使读者产生共鸣
- C. 充满硬朗气质，缺乏对个人情感的描述
- D. 注重宏大背景的描述，缺乏对普通人命运的关注

40. 房子是用来住的，不是用来炒的，从理论上说，买房不是刚需，居住才是刚需。但为何“宁买房不租房”？这说到底还是因为权利：人们不仅在买“产”也在买“权”。对物权之上的受教育权、养老保障、医疗等权利的需求，有时比居住本身还强烈。越是人口流动大，业态更新快的城市，这个问题越紧迫，以租购同权为特色的房租租赁市场改革，正是抓住了这一深层次的需求，尝试实现租屋供给不足和租屋赋权不足的双重解铃。

这段文字中“这个问题”指的是：

- A. 租屋供给不足的状况普遍存在

- B. 房价超出许多刚需的购买能力
- C. 对物权之上各项权利需求强烈
- D. 房子长期以来被视为增值手段

第三部分 数量关系

41. 某支部的每名党员均以 5 天为周期, 在每个周期的最后 1 天提交 1 篇学习心得。某年的 1 月 1 日是周日, 在 1 月 1 日—5 日的 5 天内, 支部分别收到 2 篇、3 篇、3 篇、1 篇和 1 篇学习心得。问当年前 12 周 (每周从周日开始计算) 内, 支部共收到多少篇学习心得:

- A. 170
- B. 169
- C. 120
- D. 119

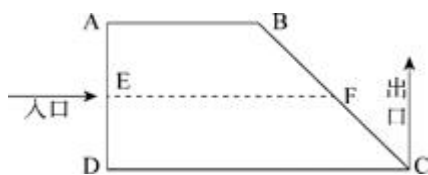
42. 一批相同的 17 件产品, 交给甲、乙、丙三人生产。已知甲、乙、丙三人生产一件产品所需时间相同, 每个人至少分到四件产品的生产任务, 三人同时开始生产且完成各自的任务之前不休息。问完成所有工作所需时长有多少种不同的可能性:

- A. 9
- B. 8
- C. 4
- D. 3

43. 甲、乙、丙 3 种商品的库存分别为 300 件、300 件和 400 件, 单价分别为 300 元、500 元和 400 元。销售出总库存量一半的商品后, 剩余商品打 5 折销售, 问总销售额最高为多少万元:

- A. 28.5
- B. 30
- C. 31.5
- D. 33

44. 公园修了一个梯形的草坪 ABCD, 如下图所示, 游客只能沿实线行走, 其中 AB 长 40 米, DC 长 80 米, AD 长 40 米, BC 长 60 米, E、F 点为 AD 和 BC 的中点。后为了方便游客, 拟修一条木质栈道 EF 穿过草坪, 则该栈道至少可以让游客从入口 E 点到出口 C 点少走多少米:



- A. 10

- B. 15
- C. 20
- D. 25

45. 一次长跑活动中，某人跑了比全程的 $\frac{2}{9}$ 多 2000 米的路程后，发现其已跑过的路程长度恰好是未跑路程的 $\frac{5}{7}$ 。问他还剩多少米的路程未跑：

- A. 5000
- B. 5300
- C. 6000
- D. 6400

46. 某企业生产一批产品，计划在 42 天内完成。先由甲、乙车间共同生产，12 天后甲车间完成总任务的 10%，乙车间完成总任务 15%。乙车间因设备整修，此后只能以 80% 的效率工作。为按时完成任务，丙车间此时新加入工作。问其产能至少应是甲车间的：

- A. 100%
- B. 80%
- C. 60%
- D. 50%

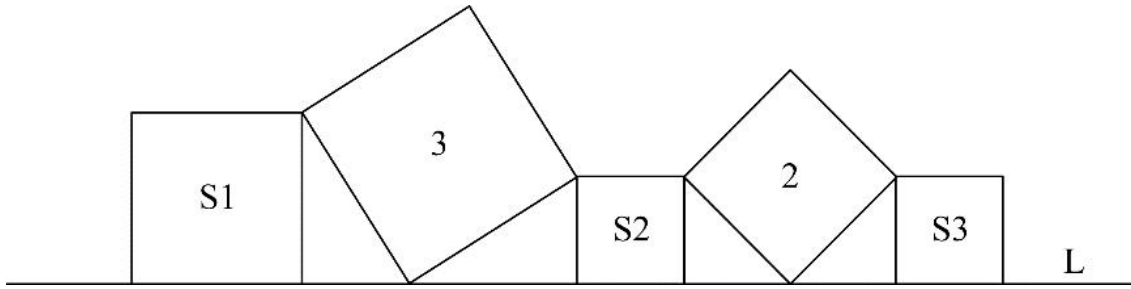
47. 桌上有 20 张正面向上的卡片，每次任选其中的 3 张翻面后放置于原位。问操作 2 次后，任一张卡片正面向上的概率为：

- A. 72.25%
- B. 74.5%
- C. 82.5%
- D. 85%

48. 某企业有三个分公司，已知华北分公司的党员人数比华东分公司多 1 人，比华南分公司少 4 人。现将三个分公司的销售部门进行轮换，将华北分公司的销售部调入华东分公司，华东分公司的销售部调入华南分公司，华南分公司的销售部调入华北分公司，则三个分公司的党员人数相等。如华东分公司销售部原有 x 名党员，问华北分公司销售部原有多少名党员：

- A. $x+1$
- B. $x-1$
- C. $2x-1$
- D. $x+2$

49. 如图所示，在直线 L 上依次摆放着 5 个正方形。已知斜放置的 2 个正方形的面积分别是 3 和 2，正放置的 3 个正方形的面积依次是 S_1 、 S_2 、 S_3 ，且 $S_2=S_3$ 。问 $S_1+S_2+S_3$ 的值为：



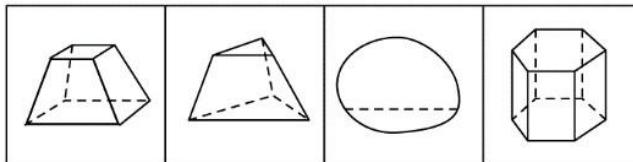
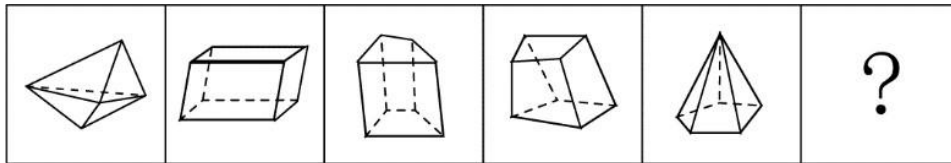
- A. 4
- B. 5
- C. 11
- D. 13

50. 某人花 400 元购买了若干盒樱桃。已知甲、乙、丙三个品种的樱桃单价分别为 28 元/盒、32 元/盒和 33 元/盒，问他最多购买了多少盒丙品种的樱桃：

- A. 3
- B. 4
- C. 5
- D. 6

第四部分 判断推理

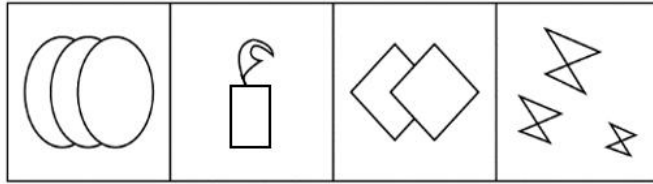
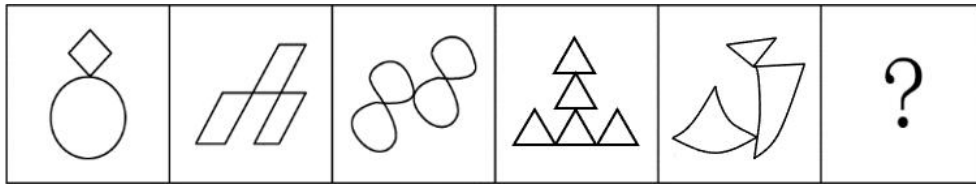
51. 从所给的选项中，选择最合适的一个填入问号处，使之呈现一定的规律性：



A B C D

- A. 如上图所示
- B. 如上图所示
- C. 如上图所示
- D. 如上图所示

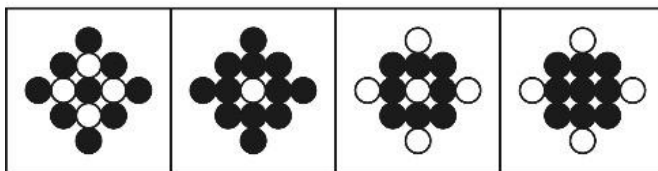

52. 从所给的选项中，选择最合适的一个填入问号处，使之呈现一定的规律性：



A B C D

- A. 如上图所示
- B. 如上图所示
- C. 如上图所示
- D. 如上图所示

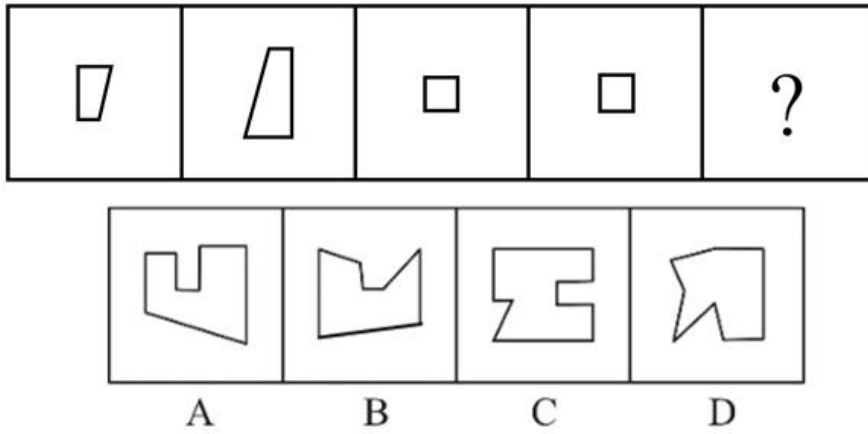
53. 从所给的选项中，选择最合适的一个填入问号处，使之呈现一定的规律性：



A B C D

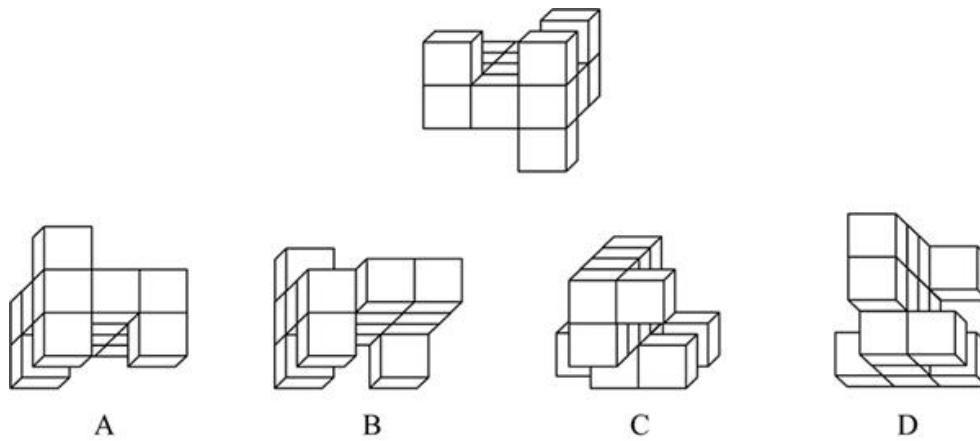
- A. 如上图所示
- B. 如上图所示
- C. 如上图所示
- D. 如上图所示

54. 下列选项中由左边四个图形拼合而成的是：



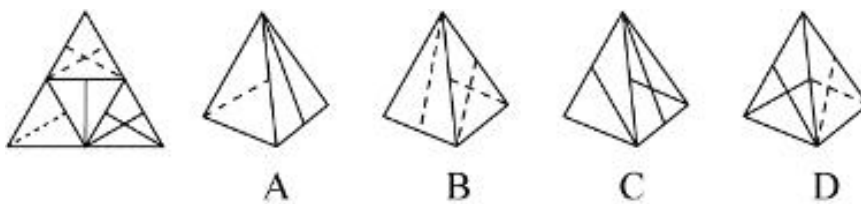
- A. 如上图所示
- B. 如上图所示
- C. 如上图所示
- D. 如上图所示

55. 下列选项中与图中所给几何体不一致的是：



- A. 如上图所示
- B. 如上图所示
- C. 如上图所示
- D. 如上图所示

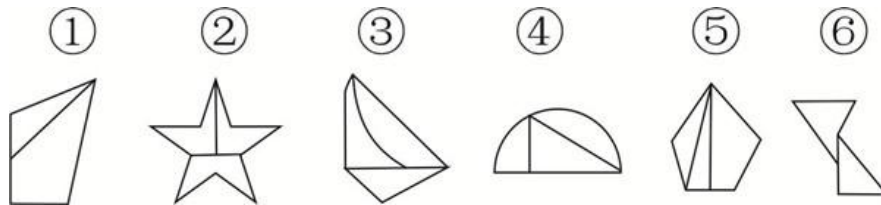
56. 左边给定的纸盒外表面的展开图，下列哪项能由它折叠而成：



- A. 如上图所示

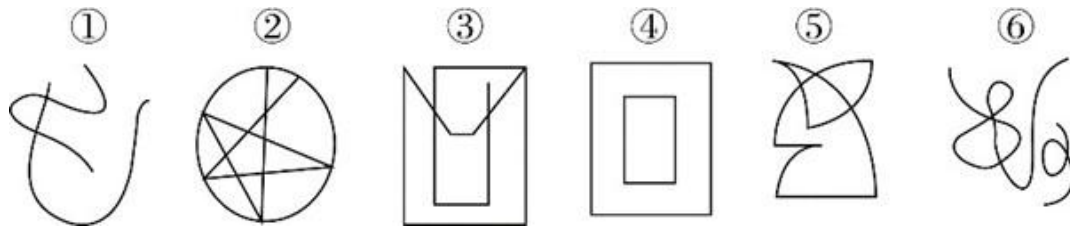
- B. 如上图所示
- C. 如上图所示
- D. 如上图所示

57. 把下面的六个图形分为两类，使每一类图形都有各自的共同特征或规律，分类正确的一项是：



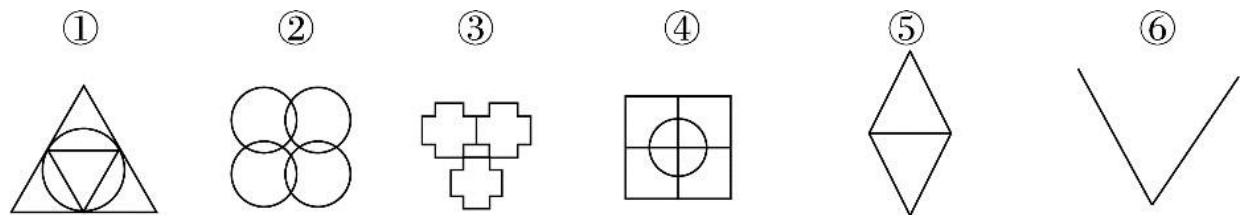
- A. ①③⑥, ②④⑤
- B. ①④⑥, ②③⑤
- C. ①②④, ③⑤⑥
- D. ①③⑤, ②④⑥

58. 把下面的六个图形分为两类，使每一类图形都有各自的共同特征或规律，分类正确的一项是：



- A. ①②③, ④⑤⑥
- B. ①④⑥, ②③⑤
- C. ①②⑤, ③④⑥
- D. ①②⑥, ③④⑤


59. 把下面的六个图形分为两类，使每一类图形都有各自的共同特征或规律，分类正确的一项是：



- A. ①②③, ④⑤⑥
- B. ①③④, ②⑤⑥
- C. ①②⑤, ③④⑥

D. ①③⑥, ②④⑤

60. 把下面的六个图形分为两类, 使每一类图形都有各自的共同特征或规律, 分类正确的一项是:



- A. ①②④, ③⑤⑥
- B. ①③④, ②⑤⑥
- C. ①③⑤, ②④⑥
- D. ①②③, ④⑤⑥

61. 中心路径说服是指通过提供强有力且令人信服的论据进行说服, 外围路径说服是指采用熟悉易懂的表述或视觉形象来进行说服。

根据上述的定义, 下列属于中心路径说服的是:

- A. 杂志上的计算机广告详细列出了产品的特点及价格信息
- B. 啤酒广告总是将啤酒与聚会等轻松热闹的场景联系在一起
- C. 理财推广员告诫客户, 不要把所有的鸡蛋都放在一个篮子里
- D. 耳机厂商把产品赠送给球星, 并让他们带着耳机出现在大众前

62. 蔡格尼克效应指的是人们对于那些未能完成的事项的记忆有时会比对已完成事项记忆更好的现象。

根据上述的定义, 下列属于蔡格尼克效应的是:

- A. 作业写到一半被同伴拉去踢球, 踢完球回家就把写作业的事置之脑后
- B. 由于迟到, 电影的开场未能看到, 至今还对这部电影的情节记忆犹新
- C. 电视剧没看完被要求听讲座, 事后忘记讲座内容却对电视剧念念不忘
- D. 团队未能完成某项目的攻关任务, 其成员至今对这一遗憾仍耿耿于怀

63. 亲社会侵犯行为是指为了达到为社会团体的准则所能接受的目的, 以一种社会认可的方式所做出的侵犯行为。

根据上述的定义, 下列属于亲社会侵犯行为的是:

- A. 老张和老王因纠纷而打架斗殴
- B. 家长用罚站教育不听话的孩子
- C. 李女士将企图侮辱她的坏人打伤
- D. 张某在街上抓住小偷扭送至派出所

64. 再造想象是指根据言语的描述或图样的示意，在人脑中形成有关事物的形象的过程。

根据上述定义，下列属于再造想象的是：

- A. 某人受到亭子能避雨但无法移动的启发，发明了雨伞
- B. 读毛主席的《沁园春·雪》时，人们脑海中呈现出一幅雪景图
- C. 鲁迅先生在创作《故乡》时，根据记忆塑造了少年闰土这一形象
- D. 观众在欣赏舞者的《雀之灵》时，仿佛看到孔雀开屏的美丽景象

65. 普雷马克原理是指利用频率较高的活动来强化频率较低的活动，从而促进低频活动的发生，或者用个体喜欢做的事情作为一种强化手段，刺激其做出他们本身不喜欢的行为。

根据上述定义，下列利用普雷马克原理的是：

- A. 如果认真练习钢琴两小时，小朵就可以看两集动画片
- B. 由于写完作业后还要做家务，小明故意拖延作业时间
- C. 如果每天按时上下班，月底就可以拿到 200 元全勤奖
- D. 如果能每天坚持锻炼，就不需要通过节食来保持身材

66. 自我应验效应指的是原先错误的期望引起把这个错误的期望变成现实的行为。

根据上述定义，下列属于自我应验效应的是：

- A. 小金对舞蹈不感兴趣，但父母觉得孩子的兴趣是父母坚持的结果。希望她有所成就，花了大量心血培养她，可她表现平平
- B. 小林从小酷爱足球，父母也发现了他在足球上的天赋，期望他将来能成为一名足球运动员，在父母的苦心栽培下小林终于如愿以偿
- C. 小李是某画家的养女，对收养不知情的老师觉得她应该有艺术天赋，在老师的不断鼓励下，她真的成了一位小画家
- D. 小南学习成绩在学校一直都是名列前茅，父母对他期望很高，觉得他考名牌大学没有问题，可小南高考发挥失常，与名校失之交臂

67. 防御机制中的投射作用是指将自己行为中不为社会认可的部分加诸他人，藉以减少自己因此而产生的焦虑。

根据上述定义，下列不属于防御机制中的投射作用的是：

- A. 连续几年，小王的销售业绩总是垫底，他将自己的困境归咎于经济不景气
- B. 某小贩做生意总是缺斤少两，他辩解天下乌鸦一般黑
- C. 某考生作弊，老师进行批评教育，他不以为然，觉得作弊是“公开的秘密”
- D. 某老板总是无理克扣员工工资，还狡辩资本家都是靠榨取剩余价值发家的

68. 拖延症是指自我调节失败，在能够预料后果有害的情况下，仍然把计划要做的事情往后推迟的一种行为。

根据上述定义，下列属于拖延症的是：

- A. 每天下班后，小玲至少加班 1 小时，甚至有时还会把工作带回家处理
- B. 小丽与小鹏打算大学毕业就结婚，但由于小鹏创业失败，公司破产，小丽找各种借口拖延结婚，失望至极的小鹏决定与小丽分手
- C. 烟龄 20 年的老李最近被咳嗽困扰决定戒烟，但每次戒烟都坚持不到 5 天就会复吸，反复若干次，最后他还是放弃了戒烟的打算
- D. 小美想出版个人画册并与出版社约定了交稿日期，但由于工作繁忙，她迟迟不愿动笔，总是想“明天赶赶就行了”，到了交稿日期，作品只完成了一半

69. 社会比较同化效应指的是当个体与比自己境况好的对象进行比较时，会产生一种觉得自己和比自己境况好的人一样好，进而提高对自己能力等方面的评价；而当个体与比自己境况差的个体进行比较时，会产生一种觉得自己和比自己境况差的人一样差，进而降低对自己能力等方面的评价。

根据上述定义，下列属于社会比较同化效应的是：

- A. 癌症病人看到病情比自己更严重的病人时，庆幸自己的处境并非最差
- B. 小杰和小伟在学习上你追我赶，因此小杰把小伟当作自己的竞争目标
- C. 小宁从普通初中考入重点高中，看到周围同学都那么优秀而自渐形秽
- D. 小威听了师兄师姐的优秀事迹报告后，觉得自己也可以变得那么优秀

70. 不随意注意是指没有预定目的、不需要意志努力，不由自主的对一定事物所产生的注意；随意注意指的是有预定目的、需要一定意志努力的注意，它是注意的一种积极、主动的形式；随意后注意是注意的一种特殊形式，是指有自觉目的但不需要意志努力的注意。

- ①家庭主妇小张厨艺娴熟，在切菜的同时，还可以看电视剧
- ②教室里小明在聚精会神地听老师讲课，时不时还记着笔记
- ③安静的课堂忽然闯进来一个人，大家不约而同抬头看向他

根据上述定义，下列选项对应关系正确的是：

- A. ①③涉及不随意注意
- B. ②涉及随意后注意
- C. ②③涉及随意注意
- D. ①涉及随意后注意

71. 懒惰：失败

- A. 积分：兑换
- B. 昏迷：晕倒
- C. 运筹：决战

D. 犯罪 : 坐牢

72. 书法 : 欧体

A. 希腊神话 : 中国神话

B. 蟠桃园 : 仙桃

C. 著作 : 专著

D. 知网 : 网络

73. 手足 : 手 : 足

A. 江湖 : 江 : 湖

B. 巨大 : 巨 : 大

C. 拉扯 : 拉 : 扯

D. 给予 : 给 : 予

74. 丛林 对于 () 相当于 () 对于 驾驶员

A. 雨林; 轿车

B. 猛虎; 司机

C. 树木; 乘客

D. 伐木工; 邮轮

75. 烤箱 对于 () 相当于 () 对于 书本

A. 微波炉; 纸张

B. 面包; 报纸

C. 蛋糕; 印刷厂

D. 炊具; 知识

76. 某研究员指出, 随着科技的进步, 未来全球大概有 3.75 亿人将面临重新就业, 其中中国占 1 亿。人工智能虽然取代人类的很多工作, 但是有创造力的工作, 是人工智能无法取代的, 比如科学、文艺、育儿、养老、教师等工作, 相比较现在而言, 反而会逆势上扬, 成为将来的热门。

以下哪项如果为真, 最能支持上述观点:

A. 处理大批数据的工作, 人的判断误差能力不如机器人

B. 一些著名企业的总裁陆续表示, 计划使用人工智能代替运营人员

C. 掌握深度学习能力的人工智能, 拥有编程的能力, 能轻松编写歌曲, 创造出新的绘画风格

D. 智能是认知和加工信息的能力, 情感则是由生物进化长期形成的, 前者不可能产生后者

77. 碳酸钙是珍珠的主要成分, 占珍珠比例的百分之九十。但是, 想用皮肤来吸收碳酸钙, 这几乎是不可能的, 因为皮肤有多层结构, 固体的珍珠粉很难渗入。珍珠粉外敷之后若有残留粉末, 可能会反射出一定的光泽,

显得皮肤变白了，其实这只是假象。所以，想靠着珍珠去美白是不太现实的。

以下除哪项外，均能反驳上述论证：

- A. 现代技术能让珍珠粉的大小达到一百纳米以下，可以被吸入皮肤
- B. 某明星有长期外用珍珠粉的习惯，年过 60 仍皮肤润泽柔滑，细腻白皙
- C. 珍珠粉外敷能部分隔绝空气，空气对皮肤表层细胞的氧化，长期使用能延缓衰老
- D. 珍珠粉中的牛磺酸具有加强巨噬细胞的能力，黑色素进入表皮层之后，一部分会被巨噬细胞吞噬降解

78. 一项专门调查显示，英国女人特别迷恋高跟鞋，2012 年这些英国女性用在买鞋上的花销达到了 35 亿英镑，据一些著名高跟鞋品牌反应，英国不少女性在买一双价格不菲的高跟鞋时，总是毫不迟疑，出手大方，尽管他们花了大笔钱买高跟鞋，但买来的鞋子有 2/3 从未穿过，英国每 20 名女性中就有 1 人拥有 50 双以上的高跟鞋，且 7% 的女性说她们每年至少购买 10 双高跟鞋。

以下哪项如果为真，最能支持上述调查结论：

- A. 英国女性更喜爱收藏漂亮高跟鞋而不是使用它们
- B. 英国每名女性平均有的鞋子数量是男性的两倍
- C. 英国女性更重视高跟鞋的数量而非高跟鞋的质量
- D. 英国女性每个月购买穿戴用品金额占工资的一半

79. 假定有一个鱼缸，里面的金鱼透过弧形的鱼缸玻璃观察外面的世界，现在它们中的物理学家开始发展“金鱼物理学”了，它们归纳观察到的现象，并建立起一些物理定律，这些物理学定律能够解释和描述金鱼们透过鱼缸所观察到的外部世界，这些定律甚至还能够正确预言外部世界的新现象。因此，这样的“金鱼物理学”可以是正确的。

要使上述论证成立，需要补充下列哪项作为前提：

- A. 我们看到的直线运动可能在“金鱼物理学”中表现为曲线运动
- B. 物理学理论正确与否依赖于其理论体系所得出的结论能否被反复验证
- C. 虽然金鱼的实在图像与我们的不同，但是我们的实在图像也可能是不真实图像
- D. 当某理论的理解与观察者的观测吻合时，观察者往往认为这个理论就是正确的

80. 动物药理实验表明，白藜芦醇具有明显的软化血管作用，可以抗血栓，对冠心病、高血脂有防治作用。而葡萄生长过程中，为防止灰色霉菌感染导致葡萄腐烂，会产生白藜芦醇。在葡萄酒发酵生产过程中，由于葡萄汁酶的作用，酒中白藜芦醇的数量明显增加。因此，葡萄酒具有保健功效。

以下哪项如果为真，最能质疑上述论证：

- A. 白藜芦醇想要发挥软化血管的作用，理论上需要连续两个月每天喝 1 斤葡萄酒
- B. 乙醇是一级致癌物，任何酒精饮料不论是否真有诸如软化血管之类的养生作用，最后都会明显降低饮用者的预期寿命

C. 偏爱奶酪、芝士、黄油等高脂肪食物的法国人，因常饮富含白藜芦醇的葡萄酒，其冠心病发病率却低于其他西方国家

D. 即使在动物实验中能确定白藜芦醇物质对动物有用，要证实白藜芦醇对人体健康的作用和安全性还必须进行大规模的人体试验

81. 如果不在国家机关工作，小张就会失去今后晋职深造的机会；而如果在民营企业工作，小张就不能提高自己的工资收入，小张不能既在国家机关工作又在民营企业工作。如果不能提高自己的工资收入，小张就买不起婚房。虽然小张女朋友不介意婚房的有无，但小张女朋友的父母很介意，小张自己也很介意。他暗下决心：如果买不起婚房，自己宁肯不结婚。最近，一直内心纠结的小张终于结婚了。

根据以上信息，可以得出以下哪项：

- A. 小张现在不在国家机关工作
- B. 小张现在不在民营企业工作
- C. 小张不会失去今后晋职深造的机会
- D. 小张女朋友的父母最近改变了想法

82. 地区 GDP 汇总数据与全国 GDP 数据存在一定差距，在统计实践上是可以接受的，在各国统计工作中也比较常见。目前 A 国地区 GDP 汇总数据与全国 GDP 数据也存在一定差距，这在统计实践上是可以接受的。

以下哪项如果为真，最能支持上述观点：

- A. 该国的统计工作与其他国家相比存在较大差距
- B. 该国某些地区 GDP 存在弄虚作假等失真情况
- C. 该国地区 GDP 与全国 GDP 数据在计算方法上不同
- D. 该国所辖地区众多，且经济发展水平存在较大差异

83. 物业专项维修基金主要用于支付物业共用部分、共用设施设备等的维修费用，某市物业专项维修基金强制缴存工作已经执行了近 20 年，实现资金归集总额近 200 亿元，去年全年增值收益 10 亿元，而去年一年被使用的维修基金只有 4000 万元。对此，有市民建议，政府应考虑降低物业专项维修基金的缴存标准。

以下哪项如果为真，最能反驳市民的这一建议：

- A. 降低新建成楼宇的物业专项维修基金缴存标准对已缴存业主不公平
- B. 部分小区使用小区公共收益解决共用部分、共用设施设备的维修问题
- C. 该市已启用新的奖金管理办法解决申请使用维修基金流程繁琐的问题
- D. 该市缴存资金的大部分楼宇都是近几年建成，尚处于开发商的保修期内

84. 几年前，某市开始对使用一次性塑料餐盒的餐厅征收处理费，餐厅每使用一个一次性塑料餐盒就要缴纳 2 元的处理费，自从征收这项处理费后，该市餐厅使用一次性塑料餐盒的数量逐年下降。

由此可以推出：

- A. 该市餐厅营业额不断下降
- B. 该市餐厅非一次性餐盒的使用量不断上升
- C. 该市一次性塑料餐盒处理费收入不断减少
- D. 该市征收一次性塑料餐盒处理费导致餐厅利润下降

85. 在一次职业技能竞赛中，六位决赛选手决出第一至第六的名次，一号选手比四号选手的名次低但比二号选手名次高；三号选手比二号选手名次低；五号选手的名次比三号选手的高，但比四号选手的低。

根据下列哪项能够推出六号选手的名次比一号选手的名次低：

- A. 六号选手的名次比二号选手的名次低
- B. 六号选手的名次比三号选手的名次高
- C. 六号选手的名次比四号选手的名次低
- D. 六号选手的名次比五号选手的名次高

第五部分 资料分析

一、阅读材料，回答 86~90 题。

2015 年，全国居民人均可支配收入为 21966 元，比上年增长 8.9%，增长率比 2014 年下降 1.2 个百分点。按常住地分，城镇居民人均可支配收入为 31195 元，比上年增长 8.2%，增长率比 2014 年下降 0.8 个百分点；农村居民人均可支配收入为 11422 元，比上年增长 8.9%，增长率比 2014 年下降 2.3 个百分点。全年农村居民人均纯收入为 10772 元。全国农民工人均月收入为 3072 元，比上年增长 7.2%。全国居民人均消费支出为 15712 元，比上年增长 8.4%。按常住地分，城镇居民人均消费支出为 21392 元，增长 7.1%；农村居民人均消费支出为 9223 元，增长 10.0%。

2015 年，全国参加城镇职工基本养老保险人数为 35361 万人，比上年末增加 1236 万人，比 2013 年末增加 3133 万人；参加城乡居民基本养老保险人数为 50472 万人，增加 365 万人，比 2013 年末增加 772 万人；参加城镇基本医疗保险人数为 66570 万人，增加 6823 万人，比 2013 年末增加 9525 万人。其中，参加职工基本医疗保险人数为 28894 万人，增加 598 万人；参加城镇居民基本医疗保险人数为 37675 万人，增加 6225 万人。参加失业保险人数为 17326 万人，增加 283 万人。参加工伤保险人数为 21404 万人，增加 765 万人，其中参加工伤保险的农民工为 7489 万人，增加 127 万人。参加生育保险人数为 17769 万人，增加 730 万人。

86. 2013 年，城镇居民人均可支配收入约为多少万元：

- A. 1.9
- B. 2.2
- C. 2.6
- D. 3.0

87. 2015 年，下列指标中同比增长最快的是：

- A. 全国农民工人均月收入
- B. 城镇居民人均消费支出
- C. 农村居民人均可支配收入
- D. 农村居民人均消费支出

88. 2014 年，参加城镇职工基本养老保险人数比上年同期约增长了：

- A. 4.4%
- B. 4.9%
- C. 5.4%
- D. 5.9%

89. 2014 年，参加城镇居民基本医疗保险的人数约占当年参加城镇基本医疗保险人数的：

- A. 59%
- B. 53%
- C. 42%
- D. 36%

90. 能够从上述资料中推出的是：

- A. 2014 年，参加工伤保险人数多于参加生育保险人数
- B. 2015 年，参加失业保险的人数比上年增长 2%以上
- C. 2015 年，城乡居民基本养老保险人数同比增量高于 2014 年
- D. 2015 年，城镇居民人均消费支出金额不到人均可支配收入的 2/3

二、阅读材料，回答 91~95 题。

截至 2017 年末，全国就业人员 77640 万人，比上年末增加 37 万人；其中城镇就业人员 42462 万人，比上年末增加 1034 万人。全国就业人员中，第一产业就业人员占 27.0%；第二产业就业人员占 28.1%；第三产业就业人员占 44.9%。2017 年全国农民工总量 28652 万人，比上年增加 481 万人，其中外出农民工 17185 万人。

2012—2016 年末按三次产业分就业人员情况表 单位：万人

年份	2012	2013	2014	2015	2016
就业人员	76704	76977	77253	77451	77603
第一产业	25773	24171	22790	21919	21496
第二产业	23241	23170	23099	22693	22350
第三产业	27690	29636	31364	32839	33757

2012—2017 年末按经济类型分城镇就业人员情况表 单位：万人

年份	2012	2013	2014	2015	2016	2017
城镇就业人员	37102	38240	39310	40410	41428	42462
其中：国有单位	6839	6365	6312	6208	6170	6064
城镇集体单位	589	566	537	481	453	406
有限责任公司	3787	6069	6315	6389	6381	6367
股份有限公司	1243	1721	1751	1798	1824	1846
私营企业	7557	8242	9857	11180	12083	13327
其他	17087	15277	14538	14354	14517	14452

91. 2017 年末，全国第一产业就业人员约为多少万人：

- A. 11465
- B. 11963
- C. 20465
- D. 20963

92. 2012—2017 年，下列经济类型中，全国城镇就业人员增速最快的是：

- A. 私营企业
- B. 有限责任公司
- C. 国有单位
- D. 股份有限公司

93. 2017 年末，国有单位和城镇集体单位城镇就业人员约占全国城镇就业人员的：

- A. 13%
- B. 15%
- C. 17%
- D. 19%

94. 2012—2016 年，我国第三产业就业人员占全国就业人员比例最大的年份是：

- A. 2013 年

- B. 2014 年
- C. 2015 年
- D. 2016 年

95. 能从上述资料中推出的是:

- A. 2012—2017 年, 全国有限责任公司城镇就业人员逐年递增
- B. 2016 年, 全国第二产业就业人员比 2012 年减少超过 1000 万人
- C. 2017 年, 外出农民工约占全国农民工总量的 80%以上
- D. 2013—2017 年, 全国城镇就业人员数量增长最多的年份是 2013 年

三、阅读材料, 回答 96~100 题。

2015~2017 年我国旅游业相关指标及同比增速

2015—2017 年我国旅游业相关指标及同比增速

指标	单位	2015 年		2016 年		2017 年	
		总量	增速	总量	增速	总量	增速
国内旅游人数	亿人次	40.00	10.8%	44.40	11.0%	50.01	12.6%
国内旅游收入	万亿元	3.42	12.9%	3.94	15.2%	4.57	16.0%
入境旅游人数	亿人次	1.34	4.7%	1.38	3.0%	1.39	0.7%
实现国际旅游收入	亿美元	1136.50	7.8%	1200.00	5.6%	1234.00	2.8%
出境旅游人数	亿人次	1.17	9.3%	1.22	4.3%	1.31	7.4%
出境旅游花费	亿美元	1045.00	16.6%	1098.00	5.1%	1152.90	5.0%
全年实现旅游业总收入	万亿元	4.13	10.7%	4.69	13.6%	5.40	15.1%
全国旅游业对 GDP 的综合贡献	万亿元	7.34	11.0%	8.19	11.6%	9.13	11.5%
直接就业	万人	2798.00	0.7%	2813.00	0.5%	2825.00	0.4%
直接和间接就业	万人	7911.00	0.5%	7962.00	0.6%	7990.00	0.4%

96. 2015—2017 年, 表中我国旅游业相关指标中, 3 年增长率均超过 6%的有几个:

- A. 2
- B. 3
- C. 4
- D. 5

97. 2015 年、2016 年及 2017 年这 3 年的旅游业总收入同比增量均值:

- A. 不到 4000 亿元
- B. 在 4000—6000 亿元之间
- C. 在 6000—8000 亿元之间
- D. 超过 8000 亿元

98. 2017 年，国内旅游平均每人次创造旅游收入比 2015 年：
- A. 增加不到 100 元
 - B. 增加 100 元以上
 - C. 减少不到 100 元
 - D. 减少 100 元以上
99. 2014—2017 年，出境旅游平均每人次花费最多的年份是：
- A. 2014 年
 - B. 2015 年
 - C. 2016 年
 - D. 2017 年
100. 能够从上述资料中推出的是：
- A. 2016 年，入境旅游人数增速比 2015 年降低 1.7 个百分点
 - B. 2017 年，旅游业直接就业占直接和间接就业的比重不到 30%
 - C. 2015—2017 年，全国旅游业对 GDP 的综合贡献同比增速逐年增大
 - D. 2015—2017 年，每年出境旅游花费同比增速都高于国际旅游收入同比增速

参考答案

1. 【解析】D

第一步，本题考查时政。

第二步，2015 年 10 月 29 日，习近平在党的十八届五中全会第二次全体会议上的讲话鲜明提出了创新、协调、绿色、开放、共享的发展理念。共享发展注重的是解决社会公平正义问题。我国经济发展的“蛋糕”不断做大，但分配不公问题比较突出，收入差距、城乡区域公共服务水平差距较大。我国坚持精准扶贫精准脱贫的基本方略，坚决打赢脱贫攻坚战，确保深度贫困地区和贫困群众同全国人民一道进入全面小康社会，全民共享社会主义建设成果，体现了“共享”理念。

因此，选择 D 选项。

2. 【解析】D

第一步，本题考查宪法并选错误项。

第二步，《宪法》第 45 条第 1 款规定，中华人民共和国公民在年老、疾病或者丧失劳动能力的情况下，有从国家和社会获得物质帮助的权利。国家发展为公民享受这些权利所需要的社会保险、社会救济和医疗卫生事业。因此，并不是所有公民都有获得物质帮助的权利，而是在年老、疾病或者丧失劳动能力的情况下才可以。

因此，选择 D 选项。

3. 【解析】C

第一步，本题考查见义勇为。

第二步，《民法总则》第183条规定，因保护他人民事权益使自己受到损害的，由侵权人承担民事责任，受益人可以给予适当补偿。没有侵权人、侵权人逃逸或者无力承担民事责任，受害人请求补偿的，受益人应当给予适当补偿。C选项军人没有制止犯罪的义务，因此属于保护他人利益而使自己受损，属于见义勇为。

因此，选择C选项。

4. 【解析】A

第一步，本题考查中国近代史。

第二步，①出自毛泽东的词《渔家傲·反第二次大“围剿”》词句描绘了1931年红军第二次反“围剿”战役胜利的情景。

②出自毛泽东的词《西江月·秋收起义》，描绘了1927年爆发于湘赣边界爆发的秋收起义的场景。

③出自毛泽东的诗《七律·长征》，描绘了1934年红军第五次反“围剿”失败后，被迫实行战略性转移，进行长征的事件。

④出自毛泽东的诗《七律·人民解放军占领南京》，描绘了1949年4月人民解放军占领南京的情景。四首诗词描述的历史事件按时间先后排序分别是②①③④。

因此，选择A选项。

5. 【解析】C

第一步，本题考查中国古代政府机构并选错误项。

第二步，枢密院是五代至元朝的最高军事机构，宋朝设枢密院与“中书”分掌军政大权，号称“二府”，所以宋代的枢密院是军事和政治机构，而非财政机构。C项错误。

因此，选择C选项。

6. 【解析】D

第一步，本题考查地理知识。

第二步，大气对光的散射是有规律的，波长较短的光容易被散射，波长较长的光不容易被散射。大气对波长较短的蓝光（400nm-480nm）散射得较强，对波长较长的红光（650nm）散射较弱。D项正确。

因此，选择D选项。

7. 【解析】C

第一步，本题考查鸟类知识并选错误项。

第二步，鸠是鸠鸽科部分鸟类的通称，鸠鸽科里不包括鹰。鹊善筑巢，鸠不善筑巢，是喜欢寄居在别的鸟类的巢穴中的一类鸟。对于“鹊巢鸠占”中的“鸠”所指代的鸟类，常见为斑鸠、布谷鸟等等。C项错误。

因此，选择C选项。

8. 【解析】B

第一步，本题考查轨道交通并选错误项。

第二步，1976年，法国政府资助TGV计划，第一条LGV（高速铁路线）——法国高速铁路东南线随之开始建造。在TGV列车投入营运之前，日本的新干线早于1964年10月1日通车，比TGV列车早十几年。所以法国的TGV不是世界上首条高速铁路。B项错误。

因此，选择B选项。

9. 【解析】B

第一步，本题考查化学常识。

第二步，医用酒精是指医学上使用的酒精，医用酒精的纯度有多种，常见的为95%和75%。95%的酒精常用于擦拭紫外线灯，这种酒精在医院常用，而在家庭中则只会将其用于相机镜头的清洁。75%的酒精用于消毒，这是因为过高浓度的酒精会在细菌表面形成一层保护膜，阻止其进入细菌体内，难以将细菌彻底杀死，稀释后的酒精渗透能力更强，可起到消毒的效果，B项正确。

因此，选择B选项。

10. 【解析】B

第一步，本题考查体育常识。

第二步，田径或称田径运动，是田赛、径赛和全能比赛的全称。田径比赛中以时间计算成绩的项目叫径赛；以高度或远度计算成绩的项目叫田赛；全能运动项目，则是以各单项成绩按《田径运动评分表》换算分数计算成绩。B项正确。

因此，选择B选项。

11. 【解析】B

第一步，分析第一空。根据“更加”可知，文段构成递进关系。A项“现实”指客观存在的事物或事实解释，而前面提到的“对物质文化生活提出了更高要求”“在民主、法治等方面的要求日益增长”也都是现实问题，逻辑不符，排除A项。B项“突出”表示明显，符合文意。C项“严峻”指严厉，严格或苛刻，程度过重，排除C项。D项“突兀”指突然发生，出乎意料，语义不符，排除D项。答案锁定B选项。

第二步，验证第二空。“这已经成为满足人民日益增长的美好生活需要的主要制约因素”，符合文意。

因此，选择B选项。

12. 【解析】C

第一步，分析语境。文段要表达的意思是“高额票价把一些从事专业研究的学者也限制在外”。

第二步，辨析选项。C项“望而却步”形容事物可怕或讨厌，使人一看就往后退缩，符合文意。A项“忍痛割爱”指不是出自本意忍痛地放弃心爱的东西；B项“裹足不前”表示停步不前，好像脚被缠住了一样，指思想保守；D项“大失所望”表示原来的希望完全落空。三者均语义不符，排除A项、B项和D项。

因此，选择 C 选项。

13. 【解析】C

第一步，先分析第二空。根据“经典诗词的精神内涵与时代发展紧密结合”“让国人对古典诗词有了更丰富、更亲近、更喜悦的体验”可知，体现了“经典诗词与当下时代的连接”。C项“古为今用”指吸收古代的优点，扬弃缺点，以使现代更进步，表示继承文化遗产；D项“与时俱进”指随着时间的推移而不断发展、前进。二者符合文意。A项“脱胎换骨”比喻通过教育，思想得到彻底改造；B项“发扬光大”指使好的作风、传统等得到发展和提高。二者语义不符，排除 A 项和 B 项。

第二步，分析第一空。文段要表达的意思是“在新的时代背景下对经典诗词进行重新解读”。C项“诠释”指说明，解释，符合文意。D项“观照”指显示，反映，语义不符，排除 D 项。

因此，选择 C 选项。

14. 【解析】B

第一步，分析第一空。所填词语修饰“科学门类”，且表示“多”之意。A项“不计其数”指没法计算数目，形容很多，语义过重，排除 A 项。B项“包罗万象”形容内容丰富，应有尽有，符合文意。C项“不胜枚举”侧重不能一个个地列举出来，语义不符，排除 C 项。D项“五花八门”比喻事物繁多，符合文意。

第二步，分析第二空。所填词语搭配“过去”。B项“回溯”指回顾，回忆，符合文意。D项“比照”指比较，对照，语义不符，排除 D 项。

因此，选择 B 选项。

15. 【解析】D

第一步，先分析第二空。根据“发表在期刊上的作品一定是_____的，而网络文学就可以是粗陋的”可知，所填词语与“粗陋”语义相反。A项“严谨”指细致、周全、完善，追求完美；D项“精致”指精巧细致。二者与“粗陋”语义相反，符合文意。B项“正统”指党派、学派等一脉相传的嫡派或王朝先后相承的系统；C项“经典”指具有典范性、权威性的。二者与“粗陋”无法构成语义相反，排除 B 项和 C 项。

第二步，分析第一空。文段要表达的意思是“正是由于期刊发表难，积压的草根性创作力量才通过网络得以大规模爆发”。A项“发掘”表示把埋藏的东西挖掘出来或者把人们不容易发现的事物揭露或揭示出来，语义不符，排除 A 项。D项“释放”表示把所含物质或能量放出来，符合文意。

因此，选择 D 选项。

16. 【解析】D

第一步，分析第一空。文段要表达的意思是“在千里岷江和沱江的冲击下，产生了成都平原”。A项“滋润”指浸润，使湿润，与“冲击”搭配不当，排除 A 项。C项“孕育”比喻酝酿着新事物，语义不符，排除 C 项。B项“成就”和 D 项“造就”均有帮助其成功的意思，符合文意。

第二步，分析第二空。文段要表达的意思是“错落分布的村落散落在平坦宽广的农田中”。B项“遍布”指分

布到所有地方，与“错落分布”矛盾，排除B项。D项“点缀”指衬托，装饰，符合文意。

因此，选择D选项。

17. 【解析】D

第一步，突破口在第二空。根据“但相互间的交流与冲突总体来说并不……”可知，转折前后语义相反相对，填入的词语要体现中国与其他文明之间有接触，但并不深入，且填入的词语搭配“交流与冲突”。A项“充分”指足够（多用于抽象事物）；尽量。A项可以与“交流”搭配，但与“冲突”搭配不当，排除A项。C项“直接”指不经过中间事物的（跟“间接”相对），与前文“有接触”相矛盾，排除C项。B项“频繁”指（次数）多；D项“显著”指非常明显。B项和C项均与“交流与冲突”搭配得当，符合语境。

第二步，再看第一空。根据文意可知，有的文明覆灭之后，文化被征服者彻底改变，语义程度较重。B项“融合”指几种不同的事物合成一体，但事物仍然会保持原有的特点，语义程度较轻，不符合文意，排除B项。D项“同化”指不相似或不相同的事物逐渐变得相似或相同，符合文意。

因此，选择D选项。

18. 【解析】B

第一步，突破口在第二空。根据“只要跟大多数人的行为保持一致”“羊群效应”可知，填入的词语要体现一种从众心理，即盲目跟随别人。A项“亦步亦趋”比喻自己没有主张，或为了讨好，每件事都效仿或依从别人，跟着人家行事；B项“随波逐流”比喻没有坚定的立场，没有主见，盲目地随着别人行动。A项和B项均符合文意。C项“墨守成规”形容死守老规矩，保守固执，不求改进，语义不符，排除C项。D项“人云亦云”指人家怎么说，自己也跟着怎么说，但文段强调的是“行动”，而非是“说”，排除D项。

第二步，分析第一空。根据“容易被……”，填入的词语与固定词语“被”搭配。A项“反感”指反对或不满的情绪；厌恶，不满，常用搭配是“让……反感”，与“被”搭配不当，排除A项。B项“排斥”指使别的人或事物离开自己这方面，搭配得当，符合文意。

因此，选择B选项。

19. 【解析】A

第一步，分析第一空。根据文意可知，中学阶段的一些必读作品所反映的生活与当下生活差异较大，使得中学生很难“宏观”“精准”的阅读。A项“把握”指抓住（抽象的东西）；C项“判断”指断定。二者均符合文意。B项“理解”指懂，了解；D项“定位”指经测量后确定的位置。二者强调的是“细节”层面，与文段中“宏观”相悖，排除B项和D项。

第二步，分析第二空。根据文意可知，中学生在阅读过程中很难体会到其中的情感共鸣与价值认同，且会存在阅读障碍，会导致他们放弃阅读。A项“知难而退”指知道事情困难就后退，符合文意。C项“断章取义”指不顾文章或讲话的原意，孤立地取一段或一句的意思，语义不符，排除。

因此，选择A选项。

20. 【解析】C

第一步，突破口在第二空。填入词语应与“顺从欲望本能而为”语义相近，且含消极的感情色彩。A项“顺其自然”意思是顺着事物本来的性质自然发展，为中性词，不符合语境，排除A项。B项“以暴制暴”指用暴力手段抵制暴力，针锋相对地进行回击，不符合语境，排除B项。C项“放任自流”意思是听凭自然的发展，不加领导或过问；D项“随心所欲”指随着自己的意思，想要干什么就干什么。C项和D项均符合语境。

第二步，再看第一空。填入词语修饰“思维惯性”。C项“顺势而为”指做事要顺应潮流，不要逆势而行，与“思维惯性”搭配恰当。D项“因势利导”指顺着事情发展的趋势，向有利于实现目的的方向加以引导，与“思维惯性”搭配不当，排除D项。

因此，选择C选项。

21. 【解析】A

第一步，快速浏览文段，重点分析尾句，判别文段话题落脚点。文段开头介绍了晋朝任豫是最早在《益州记》中对“峨眉”一词进行解释的，随后，文段指出其说法被郦道元所接受。最后，文段尾句介绍了这二人都是从峨眉山的外形来推断“峨眉”的词源，但书籍中却并不能查到“峨眉”为“峨眉”的文献证据。文段话题落在尾句，接下来应围绕“峨眉”词源的考证展开论述。

第二步，对比选项。A项符合语境

22. 【解析】D

第一步，分析文段。文段首先介绍了农村人口快速向城市转移的大背景，并指出现在调整中小学布局，调配师资等做法难以满足增容的教育资源供给。接着，文段指出促进城乡教育均衡应顺应城市化发展的趋势，随人口流动来配置教育资源。最后，文段点出农村人口城市化的基础是解决农民子女进城教育问题。文段为“分—总”结构，文段尾句为文段主旨句，点出了存在的主要问题，即城镇化背景下农民子女进城教育问题。

第二步，对比选项。D项为文段主旨的同义替换。

因此，选择D选项。

23. 【解析】A

第一步，分析文段。文段首先提出一类年轻人的观点，接着论述这种观点的逻辑，然后由转折词“但是”引出文段的重点，在老年人和年轻人之间分配资源，不能只盯着眼前的功利。文段属于“分—总”结构，尾句是文段的主旨句。

第二步，对比选项。A项是对文段主旨的同义替换项，符合文段意图。B项“舆论”和C项“不同的社会资源分配方案”属于非重点。D项虽然提到了“功利”二字，但缺少文段话题“老年人和年轻人之间分配资源”。

因此，选择A选项。

24. 【解析】B

第一步，快速浏览文段，重点分析尾句，判别文段话题落脚点。文段先引出了耐旱植物这一话题，接着提

出这些低矮灌木对研究环境变迁物种演化有着重要意义。文段的话题落在最后一句话，说的是耐旱的低矮灌木对研究环境变迁物种演化有着重要意义。

第二步，对比选项。B项符合上述语境。A项“判断标准”和C项“抗击极端环境的能力”与文段话题不一致，排除。D项说的是“与环境的关系”，而文段是“环境变迁物种演化”，排除。

因此，选择B选项。

25. 【解析】A

第一步，分析文段。文段首先铺垫背景，媒体格局深刻变化，人的接受心理和阅读习惯也发生变化，然后对比过去和现在媒体格局的不同，最后提出创新才能提高媒体对受众的“黏度”。文段属于“分—总”结构，最后一句是主旨句。

第二步，对比选项。A项是对文段主旨句的同义替换项，文段主旨。B项和C项属于无中生有。D项属于非重点的部分。

因此，选择A选项。

26. 【解析】C

第一步，分析文段，将选项与原文一一对应。

第二步，辨析选项。A项、B项文段均未提及，无中生有，排除。C项对应“西壁的壁画为工笔重彩画法，富丽华贵……东壁壁画在风格上就不同了，明显出自另一位画工之手”，是对原文的同义替换，当选。D项对应“应比芮城永乐宫的壁画更具表现力”，并非是“历史更加悠久”，D项曲解文意，排除。

因此，选择C选项。

27. 【解析】C

第一步，分析文段，将选项与原文一一对应。

第二步，辨析选项。A项对应“大多数荧光增白剂是无毒的或相对无毒的”，是对原文的同义替换，符合文意，排除。B项对应“各国洗涤剂中均含有0.02%~0.5%的荧光增白剂”，表述正确，排除。C项“荧光增白剂含量超过0.5%的洗涤剂有害”文段未提及，无中生有，当选。D项对应“环境中的荧光增白剂可以通过光分解（降解）和活性污泥吸附降解”，表述正确，排除。

因此，选择C选项。

28. 【解析】B

第一步，分析文段。文段首先讲述了猿在进化过程中，人们考虑地理、气候、动植物资源等因素的合理性。接着通过转折关联词“但”，引出“在古猿生存的区域内有丰富的盐泽”，因此，人们不得不思考“盐”在古猿进化中的作用。最后，具体证明“盐促进食物的消化及营养合成、提高古猿的生存能力、促进了古猿的进化”是合乎逻辑的。文段为“分—总—分”结构，第二句为主旨句。因此，文段重点强调“盐”在“古猿”进化中的作用。

第二步，对比选项。B项为文段重点内容的同义替换，符合文段意图。

因此，选择B选项。

29. 【解析】C

第一步，分析文段。文段先引出“手机抢红包”的话题，然后指出手机红包已成为互联网巨头的战略要地，接着由“而”引出重点，强调“红包大战”实质是互联网巨头都不愿错过的一场用户之争。尾句是文段的主旨句。

第二步，对比选项。C项是对主旨句的同义替换。

因此，选择C选项。

30. 【解析】B

第一步，分析横线处的前文语境。文段指出亚洲学生和欧美学生对中国的适应情况不同，相比之下，欧美学生有着更少的困惑，尾句由“这说明”引导结论句，应表达出文化距离对跨文化适应影响不大之意。

第二步，对比选项，B项符合语境。

因此，选择B选项。

31. 【解析】C

第一步，观察选项，确定首句。①句讲西南地区被山川阻隔，形成多彩面貌，②句论述金沙江的作用，④句介绍金沙江的变化，⑤句介绍金沙江的发源地。对比四句话，应先引出金沙江的话题，论述其起源，再介绍变化、作用等。故⑤句适合做首句。

第二步，验证C选项。语义逻辑正确。

因此，选择C选项。

32. 【解析】A

第一步，观察选项，确定首句。④句介绍中国的衣冠服饰制度，⑥句介绍女性服饰，根据话题可知，④更适合做首句，排除C项和D项。②句有代词“这种形式”，故判断②句之前是①还是③。①中有“服饰形式”，故①②捆绑，排除B项。

第二步，验证A选项。语义逻辑正确。

因此，选择A选项。

33. 【解析】D

第一步，观察选项，确定首句。首句分别是②句和③句，②句“因为银杏……”为解释说明部分的内容，不适合做首句，排除A项和B项。③句引出银杏适应能力异常强健的话题，适合做首句。

第二步，对比C项和D项。C项和D项均为③⑥②捆绑，比较②后面接⑤句还是④句。③⑥②说到银杏适应能力非常强，但是传播种子的能力十分有限，接着对为何种子传播能力有限进行解释说明，说到银杏掉的种子发芽后只能枯萎。⑤句“于是”后说到银杏的果实自然掉落常常只会原地腐蚀，直到坚硬的种子裸露之后才

会有鸟兽触碰，④句“而”后说到除了人类，又少有其他动物会吃银杏的果实，可知②句后应该接④句，先说到少有其他动物会吃银杏的果实，才能得出结论“银杏的果实自然掉落后常常只会原地腐蚀”。答案锁定D项。

第三步，验证D项。语义通顺连贯。

因此，选择D选项。

34. 【解析】D

第一步，定位原文，分析上下文语境。横线位于文段中间，承上启下。前文说到“艺欲”不会像“食欲”那样在满足后减弱，反而会不断增强，后文说到了前文提到的“增强”会刺激新的文艺需求，希望欣赏到更加精良的作品。横线处填入的内容应与此话题一致。

第二步，辨析选项。D项符合语境。

因此，选择D选项。

35. 【解析】B

第一步，阅读文段，将选项与原文一一对应。

第二步，对比选项。A项对应“在扩大健身场馆、设施的增量方面，就近、就便提供体育场地设施，因地制宜盘活各种资源，使其能为群众健身所用，是比较现实的选择”，文中有提及；B项文中并未提及，无中生有；C项和D项均对应“因地制宜盘活各种资源，使其能为群众健身所用”，文中有提及。

因此，选择B选项。

36. 【解析】C

第一步，分析文段。文段首句引出话题“有奖答题类游戏”，接着对该类预习前身和实质进行了介绍。接下来分析了此类游戏的卖点。最后一句提出结论：有奖答题类节目并不能益智。文段为“分—总”结构，尾句为文段重点。

第二步，对比选项。C项为文段主旨句的同义替换项，适合做文段标题。

因此，选择C选项。

37. 【解析】D

第一步，分析文段。文段先通过一个转折关系指出我国城市餐厨废弃物的处理率低，接下来指出餐厨垃圾经过技术处理后可以具有经济价值，最后指出我国现有的努力。文段为“分—总—分”结构，“实际上”之后是文段的重点，强调餐厨垃圾可以变为新能源。

第二步，对比选项。D项是文段主旨句的同义替换。

因此，选择D选项。

38. 【解析】A

第一步，分析文段，将选项与原文一一对应。

第二步，对比选项。A项文段未提及。B项对应“其釉色浅蓝，釉质莹洁清雅，似蓝色的天空，故名‘天蓝釉’”，正确。C项对应“康熙年间的天蓝釉器多为小件器皿，笔洗较多”，正确。D项对应“由天青釉演变而来，是以钴、铜、钛、铁等多种金属元素为呈色剂，在高温还原条件下烧成”，正确。

因此，选择A选项。

39. 【解析】A

第一步，分析文段。例子是用来论证观点的，通过总结例子的内容可以得出观点。根据例子中的“西北山村”、个人的命运和星球的命运交织、“两代人的梦想”可知，例子想强调的是刘慈欣的作品是接地气的。

第二步，对比选项。A项是作者想要反驳的观点。

因此，选择A选项。

40. 【解析】C

第一步，定位原文，“这个问题”出现在文段的末尾。分析其上文语境，根据“对物权之上的受教育权、养老保障、医疗等权利的需求，有时比居住本身还强烈”可知，“这个问题”指的是对物权之上的各种权利需求强烈。

第二步，对比选项。C项是“这个问题”所指的内容。

因此，选择C选项。

41. 【解析】B

第一步，本题考查循环周期问题。

第二步，由题意可知，5天为一个周期，可收到 $2+3+3+1+1=10$ 篇学习心得，12周为 $7\times 12=84$ 天，共 $84\div 5=16$ 周期……4天，支部共收到 $10\times 16+2+3+3+1=169$ 篇学习心得。

因此，选择B选项。

42. 【解析】C

第一步，本题考查排列组合问题。

第二步，由题意可知，17件相同的产品分给3个人，每人至少四件，不同的分配方式可依次枚举，分别为（4、4、9）、（4、5、8）、（5、5、7）、（5、6、6），完成所有工作所需时长分别为完成9、8、7、6件所需的时间，共4种。

因此，选择C选项。

43. 【解析】C

第一步，本题考查经济利润问题。

第二步，由题意可知甲、乙、丙3种商品的总库存量为 $300+300+400=1000$ （件），一半为 $1000\div 2=500$ （件），要求总销售额最高，则单价高的商品尽可能多地按原价销售，因此构造前500件包括：单价为500的乙商品300件，单价为400元的丙商品200件。剩余500件商品打5折销售，此时销售额最高，最高为 $300\times 500+200\times$

$400 + (200 \times 400 + 300 \times 300) \times 0.5 = 31.5$ (万元)。

因此，选择 C 选项。

44. 【解析】A

第一步，本题考查几何问题。

第二步，在未修木质栈道 EF 之前，从 E 点到 C 点最短距离为 $ED + DC = AD \div 2 + DC = 100$ (米)；修木质栈道 EF 之后，从 E 点到 C 点最短距离为 $EF + FC = (AB + DC) \div 2 + BC \div 2 = 90$ (米)。至少可以少走 $100 - 90 = 10$ (米)。

因此，选择 A 选项。

45. 【解析】C

第一步，本题考查行程问题，用方程法解题。

第二步，设全程为 $12x$ ，根据已跑过的路程长度恰好是未跑路程的 $\frac{5}{7}$ ，可知已跑过的路程长度为 $5x$ ，未跑路程

为 $7x$ ，再根据题干“跑了比全程的 $\frac{2}{9}$ 多 2000 米的路程”，可知已跑的路程为 $\frac{2}{9} \times 12x + 2000$ ，联立

$$5x = \frac{2}{9} \times 12x + 2000$$

，解得 $7x = 6000$ ，未跑路程为 $7x = 6000$ 。

因此，选择 C 选项。

46. 【解析】B

第一步，本题考查工程问题。

第二步，由 12 天后甲车间完成总任务的 10%，则甲车间完成任务需要 120 天，由 12 天乙车间完成总任务的 15%，则乙车间完成任务需要 80 天，赋值工程总量为 240，那么甲车间的效率为 2，乙车间的效率为 3，合作 12 天完成 $(2+3) \times 12 = 60$ ，工程还剩 $240 - 60 = 180$ ，计划 42 天完成，还剩 $42 - 12 = 30$ (天)，乙车间的效率变为 $3 \times 80\% = 2.4$ 。

第三步，设丙的效率为 x ，可列方程： $(2 + 2.4 + x) \times 30 = 180$ ，解得 $x = 1.6$ ，那么丙车间的产能是甲的 $\frac{1.6}{2} = 80\%$ 。

因此，选择 B 选项。

47. 【解析】B

第一步，本题考查概率问题。

第二步，第一次选择 3 张翻面，第二次操作时有以下四种情况：

(1) 第二次操作翻的 3 张牌与第一次相同，那么此时 20 张牌均为正面朝上，任一张卡片正面向上的概率为：

$$\frac{C_3^3}{C_{20}^3} \times 1 = \frac{1}{1140}$$

(2) 第二次操作翻的 3 张牌有 2 张与第一次相同, 那么此时 20 张牌中有 18 张牌为正面朝上, 任一张卡片正面

向上的概率为: $\frac{C_3^2 \times C_{17}^1}{C_{20}^3} \times \frac{18}{20} = \frac{459}{11400}$;

(3) 第二次操作翻的 3 张牌有 1 张与第一次相同, 那么此时 20 张牌中有 16 张牌为正面朝上, 任一张卡片正面

向上的概率为: $\frac{C_3^1 \times C_{17}^2}{C_{20}^3} \times \frac{16}{20} = \frac{3264}{11400}$;

(4) 第二次操作翻的 3 张牌与第一次均不相同, 那么此时 20 张牌中有 14 张牌为正面朝上, 任一张卡片正面向

上的概率为: $\frac{C_3^3 \times C_{17}^0}{C_{20}^3} \times \frac{14}{20} = \frac{4760}{11400}$ 。

那么任一张卡片正面向上的概率为: $\frac{10}{11400} + \frac{459}{11400} + \frac{3264}{11400} + \frac{4760}{11400} = \frac{8493}{11400} = 74.5\%$ 。

因此, 选择 B 选项。

48. 【解析】D

第一步, 本题考查基础应用题。

第二步, 设华北分公司党员一共有 n 人, 那么华东有 $n-1$ 人, 华南有 $n+4$ 人。最后人数相等那么全部为 $(n+n-1+n+4) \div 3=n+1$, 可知华北增加了 1 人、华东增加了 2 人、华南减少了 3 人。

第三步, 华东销售部原有 x 人, 华北销售部的人数置换了 x 后增加了 2 人, 说明华北比华东多 2 人, 那么华北销售部原有 $x+2$ 名党员。

因此, 选择 D 选项。

49. 【解析】A

第一步, 本题考查几何问题, 属于平面几何类。

第二步, S_2 、 S_3 的面积相等, 则边长也相等, 那么右边三个正方形所围成的两个三角形是全等的等腰直角三角形, 斜边为 $\sqrt{2}$ 。可知 S_2 、 S_3 的边长为 1, 那么面积也都是 1。 S_1 与面积为 3 的正方形围成的两个直角三角形斜边一致、三个角都相等, 则是两个全等的三角形。斜边是 $\sqrt{3}$, 短直角边是 1 (S_2 的边长), 那么由勾股定理长直角边即 S_1 的边长是 $\sqrt{3-1}=\sqrt{2}$, 则 S_1 的面积是 2。那么所求三个正方形的面积和是 $2+1+1=4$ 。

因此, 选择 A 选项。

50. 【解析】B

第一步, 本题考查不定方程。

第二步, 设甲、乙、丙三个品种分别购买了 x 、 y 、 z 盒, 那么由题意有 $28x+32y+33z=400$ 。由于盒数都是正整数且 $28x$ 、 $32y$ 、 400 都是 4 的倍数, 那么 $33z$ 必然是 4 的倍数, 即 z 是 4 的倍数, 只有 B 符合题意。

因此，选择 B 选项。

51. 【解析】A

第一步，观察特征。

组成元素不同，优先考虑数量类或属性类。属性特征不明显，优先考虑数量类。

第二步，一条式，从左到右找规律。

每个图形都是立体图形且每个图形均由 6 个面组成，所以问号处应选择一个由 6 个面组成的立体图形，只有 A 项符合。

因此，选择 A 选项。

52. 【解析】B

第一步，观察特征。

组成元素结构相似，摆放比较奇怪，考虑静态位置连接性。

第二步，一条式，从左到右找规律。

题干图形均为 1 部分且为点连接，只有 B 项符合。

因此，选择 B 选项。

53. 【解析】D

第一步，观察特征。

组成元素相似，优先考虑样式类。

第二步，九宫格，横向观察，没有明显规律，考虑竖向规律。

第一列中，图 1 与图 2 定义叠加得到图 3，规律为：白+白=空，黑+白=黑，白+黑=黑，白+空=白，空+白=白，第二列符合上述规律，第三列用规律，只有 D 项符合。

因此，选择 D 选项。

规律二：第一列中，图 1 与图 2 黑点叠加得到图 3，第二列符合上述规律，第三列图 1 与图 2 黑点叠加得到图 3，只有 D 项符合。

因此，选择 D 选项。

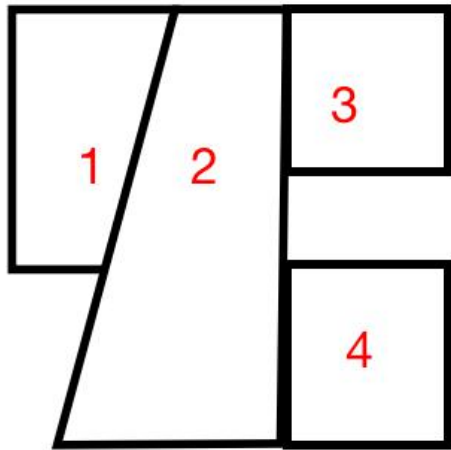
54. 【解析】C

第一步，明确设问内容。

题干图形拼合而成的是。

第二步，分析选项。

观察图形特征，寻找平行等长边，将其拼合后得到如下图所示：



因此，选择 C 选项。

55. 【解析】C

第一步，明确设问方式。

下列选项中与图中所给几何体不一致的是。

第二步，找规律。

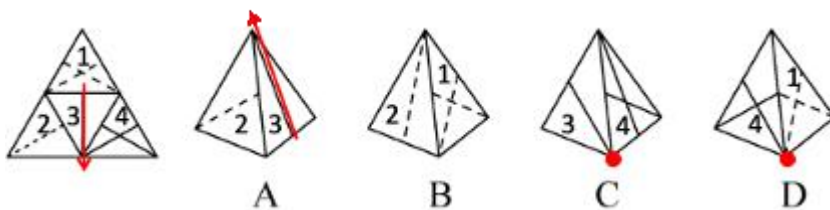
观察四个选项的特殊面，3 层的小六面体在 2 个 2 层的中间，而 C 项在一侧，不一致。

因此，选择 C 选项。

56. 【解析】B

第一步，本题考查四面体折纸盒。

展开图标号如下图所示：



第二步，分析选项。

A 项：题干面 3 画箭头如图所示，箭头右侧为面 2，选项箭头左侧为面 2，排除；

B 项：面②和面③的相临位置关系及图案特征与展开图一致，正确；

C 项：题干面 3 和面 4 公共边的一端引出 2 条线，选项公共边的两端各引出 1 条线，排除；

D 项：题干面 1 和面 4 公共边的两端分别引出 1 条虚线和 1 条实线，选项公共边的一端引出 1 条虚线和 1 条实线，排除；

因此，选择 B 选项。

57.

【解析】A

第一步，观察特征。

图形组成不同，考虑数量类或属性类。图形直角特征明显，考虑数直角。

第二步，根据规律进行分组。

①③⑥中，直角的个数均为1，②④⑤中，直角的个数均为2，分为两组。

因此，选择A选项。

58. 【解析】B

第一步，观察特征。

图形组成不同，考虑数量类或属性类。

第二步，根据规律进行分组。

图形中出现了五角星的变形图，考虑笔画数，①④⑥都是两笔画图形，②③⑤都是一笔画图形，分为两组。

因此，选择B选项。

59. 【解析】D

第一步，观察特征。

图形比较规整，考虑属性类对称性。

第二步，根据规律进行分组。

①③⑥都是轴对称图形，②④⑤既是轴对称也是中心对称图形，分为两组。

因此，选择D选项。

60. 【解析】B

第一步，观察特征。

图形自身都可以看出明显的时针方向，考虑旋转。

第二步，根据规律进行分组。

每个图形都可以看成几个相同的图案组成，且从中心向外有不同的方向，其中①③④从图形的中心向外部沿着图形的形状画时针是逆时针，②⑤⑥从图形的中心向外沿着图形的形状画时针是顺时针，分为两组。

因此，选择B选项。

61. 【解析】A

第一步，根据提问方式，确定为选是题。

第二步，找关键信息。

通过提供强有力且令人信服的论据进行说服。

第三步，辨析选项。

A项：产品的特点和价格信息属于“强有力且令人信服的论据”，说明了产品的性价比，符合定义；

B项：聚会等热闹的场景是可能会喝啤酒的场景，体现的是视觉形象，不属于“强有力且令人信服的论据”，不符合定义；

C项：推广员的说法只是借用了生活中比较熟悉的例子，用鸡蛋和篮子的关系来让客户更容易理解，不符合“提供强有力且令人信服的论据”，不符合定义；

D项：让球星带耳机出现在大众前是一种宣传手段，给人带来的是视觉形象，而不是“提供强有力且令人信服的论据”，不符合定义。

因此，选择A选项。

62. 【解析】C

第一步，根据提问方式，确定为选是题。

第二步，找关键信息。

对于那些未能完成的事项的记忆有时会比对已完成事项记忆更好的现象。

第三步，辨析选项。

A项：作业属于未完成的事项，踢完球之后把写作业的事情忘了，不符合“对于那些未能完成的事项比对已完成事项记忆更好”，不符合定义；

B项：电影的开场是没有被看到的，事后对于这部电影的情节记忆犹新的部分应该是已经看到的部分，不符合“对未完成的事项记忆更好”，不符合定义；

C项：电视剧是未完成的事项，至今还对电视剧念念不忘符合“对未完成的事项记忆更好”，符合定义；

D项：成员感受到的是遗憾，不明确是否在记忆方面对这个项目是否记忆更好，不符合定义。

因此，选择C选项。

63. 【解析】D

第一步，根据提问方式，确定为选是题。

第二步，找关键信息。

为了达到为社会团体的准则所能接受的目的，以一种社会认可的方式所做出的侵权行为。

第三步，辨析选项。

A项：两人因纠纷打架不符合“为了达到为社会团体的准则所能接受的目的”，且打架斗殴不符合“社会认可的方式”，不符合定义；

B项：家长体罚孩子是因为孩子不听话，而不是“为了达到为社会团体的准则所能接受的目的”，且罚站不是“社会认可的方式”，不符合定义；

C项：李女士打伤坏人是为了阻止坏人继续侵犯她，而不是“为了达到为社会团体的准则所能接受的目的”，不符合定义；

D项：抓住小偷符合“社会团体的准则所能接受的目的”，将小偷扭送至派出所符合“社会认可的方式”，符

合定义。

因此，选择 D 选项。

64. 【解析】B

第一步，根据提问方式，确定为选是题。

第二步，找关键信息。

再造想象是指根据言语的描述或图样的示意，在人脑中形成有关事物的形象的过程。

第三步，辨析选项。

A 项：亭子属于实物，不属于“言语的描述或图样的示意”，不符合定义；

B 项：读《沁园春·雪》在脑海中呈现雪景图，《沁园春·雪》属于言语描述，符合“根据言语的描述或图样的示意，在人脑中形成有关事物的形象的过程”，符合定义；

C 项：鲁迅根据自己的记忆塑造少年闰土，不属于“根据言语的描述或图样的示意，在人脑中形成有关事物的形象的过程”，不符合定义；

D 项：《雀之灵》舞蹈不属于“言语的描述或图样的示意”，不符合定义。

因此，选择 B 选项。

65. 【解析】A

第一步，根据提问方式，确定为选是题。

第二步，找关键信息。

普雷马克原理是指利用频率较高的活动来强化频率较低的活动，从而促进低频活动的发生，或者用个体喜欢做的事情作为一种强化手段，刺激其做出他们本身不喜欢的行为。

第三步，辨析选项。

A 项：看动画片是小朵喜欢的事情，通过看动画刺激小朵练习钢琴，属于“用个体喜欢做的事情作为一种强化手段，刺激其做出他们本身不喜欢的行为”，符合定义；

B 项：小明不想做家务就故意拖延作业时间，是小明自身的行为选择，不涉及强化行为，不属于“用频率较高的活动来强化频率较低的活动，或者用个体喜欢做的事情作为一种强化手段，刺激其做出他们本身不喜欢的行为”不符合定义；

C 项：全勤奖是对于员工的奖励，是一种被动的奖励，而非是“个体喜欢做的事情”，不符合定义；

D 项：坚持锻炼和节食不能明确频率高低和个体是否喜欢，不属于“利用频率较高的活动来强化频率较低的活动，从而促进低频活动的发生，或者用个体喜欢做的事情作为一种强化手段，刺激其做出他们本身不喜欢的行为”，不符合定义。

因此，选择 A 选项。

66. 【解析】C

第一步，根据提问方式，确定为选是题。

第二步，找关键信息。

自我应验效应指的是原先错误的期望引起把这个错误的期望变成现实的行为。

第三步，辨析选项。

A项：小金对舞蹈不感兴趣但父母坚持花了大量心血培养她，属于“错误的期望”，但最终小金表现平平，不符合“错误的期望变成现实”，不符合定义；

B项：小林本身就酷爱足球，父母栽培他不属于“错误的期望”，不符合定义；

C项：小李是某画家的养女，但老师对收养不知情认为她应该有艺术天赋，符合“错误的期望”，小李最终成为一名画家符合“错误的期望变成现实”，符合定义；

D项：由于小南学习成绩一直名列前茅，所以父母期望他考上名牌大学，不属于“错误的期望”，不符合定义。

因此，选择C选项。

67. 【解析】A

第一步，根据提问方式，确定为选非题。

第二步，找关键信息。

防御机制中的投射作用是指将自己行为中不为社会认可的部分加诸他人，藉以减少自己因此而产生的焦虑。

第三步，辨析选项。

A项：小王销售业绩垫底是其个人业务能力问题而非“自己行为中不为社会认可的部分”，不符合定义；

B项：某小贩缺斤少两，辩解其他小贩也是如此，属于“将自己行为中不为社会认可的部分加诸他人，藉以减少自己因此而产生的焦虑”，符合定义；

C项：某考生作弊被批评教育但不以为然，认为其他人也都作弊，属于“将自己行为中不为社会认可的部分加诸他人，藉以减少自己因此而产生的焦虑”，符合定义；

D项：某老板克扣工资，还狡辩其他资本家也都榨取剩余价值，属于“将自己行为中不为社会认可的部分加诸他人，藉以减少自己因此而产生的焦虑”，符合定义。

因此，选择A选项。

68. 【解析】D

第一步，根据提问方式，确定为选是题。

第二步，找关键信息。

拖延症是指自我调节失败，在能够预料后果有害的情况下，仍然把计划要做的事情往后推迟的一种行为。

第三步，辨析选项。

A项：小玲加班是主动的，不属于“自我调节失败，在能够预料后果有害的情况下，仍然把计划要做的事情往后推迟的一种行为”，不符合定义；

B项：小丽推延结婚是因为小鹏破产，而非是“自我调节失败”，不属于“自我调节失败，在能够预料后果有害的情况下，仍然把计划要做的事情往后推迟的一种行为”，不符合定义；

C项：老李决定戒烟后复吸，反复若干次，最后放弃戒烟，是因为自制力不强无法控制吸烟的欲望，而非“自我调节失败，在能够预料后果有害的情况下，仍然把计划要做的事情往后推迟的一种行为”，不符合定义；

D项：小美约定了交稿日期但迟迟不愿动笔，总想着明天做，属于“自我调节失败，在能够预料后果有害的情况下，仍然把计划要做的事情往后推迟的一种行为”，符合定义。

因此，选择D选项。

69. 【解析】D

第一步，根据提问方式，确定为选是题。

第二步，找关键信息。

社会比较同化效应指的是当个体与比自己境况好的对象进行比较时，会产生一种觉得自己和比自己境况好的人一样好，进而提高对自己能力等方面的评价；而当个体与比自己境况差的个体进行比较时，会产生一种觉得自己和比自己境况差的人一样差，进而降低对自己能力等方面的评价。

第三步，辨析选项。

A项：癌症病人看到病情比自己更严重的病人时，属于“当个体与比自己境况差的个体进行比较时”，但庆幸自己的处境并非最差，不属于“产生一种觉得自己和比自己境况差的人一样差”，不符合定义；

B项：小杰和小伟在学习上你追我赶，可见两人的学习成绩差不多，两人境况不存在好差之分，不符合定义；

C项：小宁看到重点高中的同学非常优秀，属于“当个体与比自己境况好的对象进行比较时”，但小宁自渐形秽，不属于“产生一种觉得自己和比自己境况好的人一样好，进而提高对自己能力等方面的评价”，不符合定义；

D项：小威听了师兄师姐的优秀事迹报告后，属于“当个体与比自己境况好的对象进行比较时”，觉得自己也可以变得那么优秀，属于“产生一种觉得自己和比自己境况好的人一样好，进而提高对自己能力等方面的评价”，符合定义。

因此，选择D选项。

70. 【解析】D

第一步，根据提问方式，确定为选是题。

第二步，多定义，找关键信息。

不随意注意是指没有预定目的、不需要意志努力，不由自主的对一定事物所产生的注意；

随意注意指的是有预定目的、需要一定意志努力的注意，它是注意的一种积极、主动的形式；

随意后注意是注意的一种特殊形式，是指有自觉目的但不需要意志努力的注意。

第三步，辨析选项。

- ①小张在切菜的同时，还可以看电视剧，属于“有自觉目的但不需要意志努力的注意”，涉及随意后注意。
- ②小明听老师讲课同时还能记笔记，属于“有预定目的、需要一定意志努力的注意”，涉及随意注意。
- ③大家不约而同抬头看向忽然闯进安静课堂的人，属于“没有预定目的、不需要意志努力，不由自主的对一定事物所产生的注意”，涉及不随意注意。

因此，选择D选项。

71. 【解析】D

第一步，确定题干逻辑关系。

“懒惰”可能导致“失败”，二者属于因果对应关系。

第二步，辨析选项。

A项：“积分”与“兑换”属于主谓关系，排除；

B项：“昏迷”与“晕倒”都指意识丧失，只是时间长短的不同，二者不属于因果对应关系，排除；

C项：“运筹”是指对资源进行统筹安排，为决策者进行决策提供最优解决方案，“运筹”有助于“决战”时做决策，二者对应方式与题干不一致，排除；

D项：“犯罪”可能导致“坐牢”，二者属于因果对应关系，与题干逻辑关系一致，符合。

因此，选择D选项。

72. 【解析】C

第一步，确定题干逻辑关系。

“欧体”是唐代大书法家欧阳询创作的一种楷书字体，其特点是方圆兼施，以方为主，点画劲挺，笔力凝聚，二者属于包容关系中的种属关系。

第二步，辨析选项。

A项：“希腊神话”与“中国神话”属于并列关系，排除；

B项：“蟠桃园”里有“仙桃”，二者属于地点对应关系，排除；

C项：“专著”指的是就某方面加以研究论述的专门“著作”，二者属于包容关系中的种属关系，与题干逻辑关系一致，符合；

D项：“知网”是知识发现的“网络”平台，二者属于对应关系，排除。

因此，选择C选项。

73. 【解析】A

第一步，确定题干逻辑关系。

“手足”比喻兄弟，而“手”与“足”是人体的组成部分，存在一词多义。

第二步，辨析选项。

A项：“江湖”泛指四方各地，而“江”与“湖”指不同的水体，存在一词多义，与题干逻辑关系一致，符合；

B项：“巨大”指（规模、数量等）很大，不存在一词多义，排除；

C项：“拉扯”指拉，不存在一词多义，排除；

D项：“给予”指给，使对方有所得，不存在一词多义，排除。

因此，选择A选项。

74. 【解析】D

分别将选项代入题干，确定逻辑关系。

A项：“雨林”是雨量甚多的生物区系，“丛林”侧重于以草本植物为主体，木本植物为副体的生物群落，二者属于并列关系，“驾驶员”驾驶“轿车”，二者属于主宾关系，前后逻辑关系不一致，排除；

B项：“猛虎”与“丛林”属于地点对应关系，“司机”是火车、汽车、电车等交通运输工具上的“驾驶员”，二者属于包容关系中的种属关系，前后逻辑关系不一致，排除；

C项：“树木”与“丛林”属于包容关系中的组成关系，“乘客”与“驾驶员”是交通工具上的不同的主体，二者属于并列关系，前后逻辑关系不一致，排除；

D项：“伐木工”与“丛林”属于主宾关系，“驾驶员”与“邮轮”属于主宾关系，前后逻辑关系一致，符合。因此，选择D选项。

75. 【解析】C

分别将选项代入题干，确定逻辑关系。

A项：“烤箱”与“微波炉”属于并列关系，“纸张”与“书本”属于包容关系中的组成关系，前后逻辑关系不一致，排除；

B项：在“烤箱”里烤“面包”，二者属于地点对应关系，“报纸”与“书本”属于不同的阅读载体，二者属于并列关系，前后逻辑关系不一致，排除；

C项：在“烤箱”里烤“蛋糕”，二者属于地点对应关系，在“印刷厂”里印刷“书本”，二者属于地点对应关系，前后逻辑关系一致，符合；

D项：“烤箱”是“炊具”，二者属于包容关系中的种属关系，从“书本”中获得“知识”，二者属于对应关系，前后逻辑关系不一致，排除。

因此，选择C选项。

76. 【解析】D

第一步，确定题型。

根据提问方式中出现“支持”，确定为加强论证。

第二步，找论点和论据。

论点：有创造力的工作，是人工智能无法取代的，比如科学、文艺、育儿、养老、教师等工作，相比较现在而言，反而会逆势上扬，成为将来的热门。

论据：无。

第三步，辨析选项。

A项：无关选项。指出在某些工作中人可以被人智能取代，但“处理大批数据的工作”不是有创造力的工作，与论点无关，无法加强。

B项：无关选项。没有指出要代替的是否是有创造力的工作，与论点无关，无法加强。

C项：增加反向论据。指出人工智能可以从事创造性的工作，可以削弱。

D项：增加论据。指出情感是智能无法取代的，可以加强。

因此，选择D选项。

77. 【解析】C

第一步，确定题型。

根据提问方式中出现“除……外，均能反驳”，确定为削弱论证选非题。

第二步，找论点和论据。

论点：想靠着珍珠去美白是不太现实的。

论据：碳酸钙是珍珠的主要成分，占珍珠比例的百分之九十。但是，想用皮肤来吸收碳酸钙，这几乎是不可能的，因为皮肤有多层结构，固体的珍珠粉很难渗入。

第三步，辨析选项。

A项：增加反向论据。指出现代技术可以让皮肤吸入珍珠粉，所以可以用珍珠美白，可以削弱。

B项：增加反向论据。举例说明珍珠粉可以使皮肤白皙，可以削弱。

C项：无关选项。指出珍珠粉能延缓衰老，与论点无关。

D项：增加反向论据。指出珍珠粉中的牛磺酸具有加强巨噬细胞的能力，可以加强对黑色素的降解，可以削弱。

因此，选择C选项。

78. 【解析】A

第一步，确定题型。

根据提问方式中的“支持”，确定为加强论证。

第二步，找论点和论据。

论点：英国女人特别迷恋高跟鞋。

论据：2012年这些英国女性用在买鞋上的花销达到了35亿英镑等。

第三步，辨析选项。

A项：增加论据。该项指出英国女性“爱收藏”，与论据中的“买来的鞋子有2/3从未穿过”表述一致，说明的确迷恋高跟鞋，具有加强作用。

B项：不明确项。该项只是比较了男性和女生鞋子的数量，但是无法确定女性拥有鞋子的绝对量，无法必然说

明女性“迷恋高跟鞋”，不具有加强作用。

C项：不明确项。该项只是比较了英国女性对高跟鞋的数量和质量之间的倾向，无法必然说明女性“迷恋高跟鞋”，不具有加强作用。

D项：不明确项。该项只是说明每个月购买穿戴用品金额占工资的一半，无法必然说明女性“迷恋高跟鞋”，不具有加强作用。

因此，选择A选项。

79. 【解析】D

第一步，确定题型。

根据提问方式中的“前提”，确定为加强论证。

第二步，找论点和论据。

论点：这样的“金鱼物理学”可以是正确的。

论据：这些物理学定律能够解释和描述金鱼们透过鱼缸所观察到的外部世界，这些定律甚至还能够正确预言外部世界的新现象。

第三步，辨析选项。

A项：无关选项。该项讨论的是在“金鱼物理学”下观察到的现象，与其是否正确无关，论题不一致，排除。

B项：无关选项。该项指出物理学理论正确与否与反复验证有关，但是题干并未提及“金鱼物理学”是否有反复验证，论题不一致，排除。

C项：无关选项。该项指出我们的实在图形也可能是不真实的，与“金鱼物理学”是否正确无关，论题不一致，排除。

D项：建立联系。论据提到“金鱼物理学”能够解释和描述金鱼们透过鱼缸所观察到的外部世界，即与观察者的观测是吻合的，同时该项指出符合这种情况则这个理论就是正确的，该项建立了论据和论点之间的联系，属于前提。

因此，选择D选项。

80. 【解析】A

第一步，确定题型。

根据提问方式中的“质疑”，确定为削弱论证。

第二步，找论点和论据。

论点：葡萄酒具有保健功效。

论据：白藜芦醇具有明显的软化血管作用，可以抗血栓，对冠心病、高血脂有防治作用。而葡萄生长过程中，为防止灰色霉菌感染导致葡萄腐烂，会产生白藜芦醇。在葡萄酒发酵生产过程中，由于葡萄汁酶的作用，酒中白藜芦醇的数量明显增加。

第三步，辨析选项。

A项：增加反向论据。该项指出在理论上葡萄酒要发挥保健作用，需要连续两个月每天喝1斤葡萄酒，但是在实践中无法实现，因此无法发挥保健作用，具有削弱作用。

B项：增加反向论据。该项指出因为酒精饮料中含有乙醇，会降低饮用者的寿命，故不具有保健功效，具有削弱作用。

C项：增加论据。该项指出饮用葡萄酒会降低冠心病的发病率，说明具有保健作用，具有加强作用。

D项：不明确项。该项只是指出还需要大规模的人体试验，但是并不确定最终结果如何，不具有削弱作用。

第四步，强度比较。

B项中提到“不论是否真有诸如软化血管之类的养生作用，最后……”，说明该项不关注题干的论证过程，直接对论点的质疑；而A项是指出即使葡萄酒中白藜芦醇的数量明显增加，也无法在实践层面达到保健作用，是对论证过程的质疑；结合提问方式“最能质疑上述论证”，A项更符合题意。

因此，选择A选项。

81. 【解析】A

第一步，确定题型。

根据题干中的关联词“如果……就……”，确定为翻译推理。

第二步，翻译题干。

①小张不在国家机关工作→失去晋职深造机会

②小张不在民营企业工作→不能提高工资收入

③¬（国家机关工作且民营企业工作）=¬国家机关工作或¬民营企业工作

④小张不能提高工资收入→买不起婚房

⑤小张买不起婚房→不结婚

⑥小张结婚了

将②④⑤递推可得：⑦小张不在民营企业工作→不结婚

第三步，进行推理。

⑥是对⑦的“否后”，根据“否后必否前”，得到：在民营企业工作，排除B项；

“在民营企业工作”是对③或关系一部分的否定，根据“否定肯定式”，可得：小张不在国家机关工作。

因此，选择A选项。

82. 【解析】C

第一步，确定题型。

根据提问方式中的“支持”，确定为加强论证。

第二步，找论点和论据。

论点：目前 A 国地区 GDP 汇总数据与全国 GDP 数据也存在一定差距，这在统计实践上是可以接受的。

论据：无。

第三步，辨析选项。

A 项：无关选项。该项讨论的是该国统计工作与其他国家的差异，而论点讨论的是“A 国地区 GDP 汇总数据和全国 GDP 数据的差异”，论题不一致，排除。

B 项：不明确项。该项指出“某些”地区 GDP 存在弄虚作假等失真情况，但这些地区是否包括 A 地区并不确定，不具有加强作用。

C 项：增加论据。该项指出该国地区 GDP 与全国 GDP 数据在计算方法上不同，即论点中的差距是可以接受的，具有加强作用。

D 项：无关选项。该项讨论的是该国所辖地区的数量，与论点无关，论题不一致，排除。

因此，选择 C 选项。

83. 【解析】D

第一步，确定题型。

根据提问方式中的“反驳”，确定为削弱论证。

第二步，找论点和论据。

论点：政府应考虑降低物业专项维修基金的缴存标准。。

论据：某市物业专项维修基金强制缴存工作已经执行了近 20 年，实现资金归集总额近 200 亿元，去年全年增值收益 10 亿元，而去年一年被使用的维修基金只有 4000 万元。

第三步，辨析选项。

A 项：无关选项。该项讨论的是“是否公平”，而论点讨论的是“是否应降低缴存标准”，论题不一致，排除。

B 项：无关选项。该项讨论的是维修基金的公共收益解决的问题是什么，而论点讨论的是“是否应降低缴存标准”，论题不一致，排除。

C 项：无关选项。该项讨论的是如果解决流程繁琐的问题，而论点讨论的是“是否应降低缴存标准”，论题不一致，排除。

D 项：增加反向论证。该项指出大部分楼宇尚处在保修期内，所以维修基金被使用的少，等保修期过了可能会需要大量的维修基金，因此不能仅根据去年维修基金使用少，就认为应降低物业专项维修基金的缴存标准，具有削弱作用。

因此，选择 D 选项。

84. 【解析】C

第一步，确定题型。

根据题干特征及提问方式，确定为归纳推理。

第二步，辨析选项。

A项：题干并未提及餐厅营业额的变化，无法推出；

B项：题干只是提到一次性塑料餐盒的数量逐年下降，不必然推出非一次性餐盒的使用量不断上升，无法推出；

C项：题干指出餐厅每使用一个一次性塑料餐盒就要缴纳2元的处理费，根据“一次性塑料餐盒的数量逐年下降”，可以得到该市一次性塑料餐盒处理费收入不断减少，可以推出；

D项：题干并未提及对餐厅利润的影响，无法推出。

因此，选择C选项。

85. 【解析】A

第一步，确定题型。

题干具有匹配特征，确定为分析推理。

第二步，分析条件，进行推理。

本题的问法是“根据下列哪项能够推出六号选手的名次比一号选手的名次低”，已知的条件如下：

①2号<1号<4号；

②3号<2号；

③3号<5号<4号；

整理上述已知条件可得：④3号<2号<1号<4号，5号的位置不确定，结合问法，利用代入法解题：

代入A项：6号<2号，结合④，可得6号<1号，符合问法；

代入B项：3号<6号，结合④，无法必然得到6号<1号，排除；

代入C项：6号<4号，结合④，无法必然得到6号<1号，排除；

代入D项：5号<6号，由于5号的位置不确定，无法必然得到6号<1号，排除。

因此，选择A选项。

86. 【解析】C

第一步，本题考查间隔基期量计算。

第二步，定位第一段文字材料，“（2015年）城镇居民人均可支配收入为31195元，比上年增长8.2%，增长率比2014年下降0.8个百分点”。

第三步，根据间隔增长率公式 $R = r_1 + r_2 + r_1 \times r_2$ ， $r_1 = 8.2\%$ ， $r_2 = 8.2\% + 0.8\% = 9\%$ ，则2015年城镇居民人

均可支配收入相比于2013年的增长率 $R = 8.2\% + 9\% + 8.2\% \times 9\% \approx 17.2\% + 0.74\% \approx 18\%$ 。根据间隔基期量 = $\frac{\text{现期量}}{1 + R}$ ，

2013年城镇居民人均可支配收入为 $\frac{31195}{1 + 18\%} = \frac{31195}{1.18}$ ，直除首两位商26。

因此，选择 C 选项。

87. 【解析】D

第一步，本题考查增长率读数比较。

第二步，定位第一段文字材料，“（2015 年）农村居民人均可支配收入比上年增长 8.9%。……全国农民工人均月收入比上年增长 7.2%。……城镇居民人均消费支出增长 7.1%，农村居民人均消费支出增长 10.0%”。

第三步，直接读数可得，2015 年同比增长最快的是农村居民人均消费支出（10.0%）。

因此，选择 D 选项。

88. 【解析】D

第一步，本题考查增长率计算。

第二步，定位第二段文字材料，“2015 年，全国参加城镇职工基本养老保险人数为 35361 万人，比上年末增加 1236 万人，比 2013 年末增加 3133 万人”。

第三步，根据基期量=现期量-增长量，可得 2014 年末=2015 年末-1236，2013 年末=2015 年末-3133，则 2014 年相比于 2013 年的增长量=2014 年末-2013 年末=（2015 年末-1236）-（2015 年末-3133）=3133-1236。

第四步，根据增长率= $\frac{\text{增长量}}{\text{基期量}}$ ，及选项数据出现首位相同第二位不同的情况，分子分母皆为减法计算，将最

大数据截取前三位，其余数据舍相同处理，代入数据可得 $\frac{31-12}{354-31} = \frac{19}{323}$ ，直除首两位商 58，与 D 选项最为接近。

因此，选择 D 选项。

89. 【解析】B

第一步，本题考查基期比重计算。

第二步，定位第二段文字材料，“（2015 年）参加城镇基本医疗保险人数为 66570 万人，增加 6823 万人……参加城镇居民基本医疗保险人数为 37675 万人，增加 6225 万人”。

第三步，根据比重= $\frac{\text{部分量}}{\text{整体量}}$ ，及选项数据出现首位相同第二位不同的情况，分子分母皆为减法计算，将最大数

据截取前三位，其余数据舍相同处理，代入数据可得 $\frac{377-62}{666-68} = \frac{315}{598}$ ，直除首两位商 52，与 B 选项最为接近。

因此，选择 B 选项。

90. 【解析】A

第一步，本题考查综合分析，且需选出正确的一项。

第二步，A 选项，基期量比较。定位第二段文字材料，“（2015 年）参加工伤保险人数为 21404 万人，增加 765

万人……参加生育保险人数为 17769 万人，增加 730 万人”。根据基期量=现期量-增长量，及比较类题目数据截取前三位，加减法考虑截位舍相同处理数据，可得 2014 年参加工伤保险人数 $214-8=206 > 2014$ 年参加生育保险人数 $178-7=171$ ，正确。

B 选项，增长率计算。定位第二段文字材料，“（2015 年）参加失业保险人数为 17326 万人，增加 283 万人”；

根据增长率 = $\frac{\text{增长量}}{\text{基期量}}$ ，分母减法计算将最大数据保留前三位，其余数据舍相同处理，代入数据

$$\frac{283}{173-3} = \frac{283}{170}$$

，直除首位只能商 1，说明增长率不到 2%，错误。

C 选项，增长量比较，定位第二段文字材料，“（2015 年）参加城乡居民基本养老保险人数为 50472 万人，增加 365 万人，比 2013 年末增加 772 万人”，根据基期量=现期量-增长量，可得 2014 年末=2015 年末-365，2013 年末=2015 年末-772，则 2014 年相比于 2013 年的增长量=2014 年末-2013 年末=（2015 年末-365）-（2015 年末-772）=772-365=407，则 2015 年，城乡居民基本养老保险人数同比增量（365 万人）低于 2014 年（407 万人），错误。

D 选项，求比重。定位第一段文字材料，“（2015 年）城镇居民人均可支配收入为 31195 元……城镇居民人均

消费支出为 21392 元”，根据比重 = $\frac{\text{部分量}}{\text{整体量}}$ ，可得 2015 年，城镇居民人均消费支出金额不到人均可支配收入

的比重为 $\frac{21392}{31195} \approx 68.6\% > \frac{2}{3}$ ，错误。

因此，选择 A 选项。

91. 【解析】D

第一步，本题考查现期比重计算中的求部分量。

第二步，定位文字材料可知，“截至 2017 年末，全国就业人员 77640 万人……第一产业就业人员占 27.0%”。

第三步，根据部分量=比重×整体量，选项首两位相同，考虑精确计算不处理数据，代入数据可得， $77640 \times 27\% > 77000 \times 27\% = 20790$ ，仅 D 选项符合高于 20790 万人。

因此，选择 D 选项。

92. 【解析】A

第一步，本题考查增长率计算比较。

第二步，定位表 2。

$$= \frac{\text{现期量} - \text{基期量}}{\text{基期量}}$$

第三步，解法一：根据 $\frac{\text{现期量} - \text{基期量}}{\text{基期量}}$ ，国有企业 2017 年比 2012 年下降，增长率为负，其余选项增长率均为正，排除 C 选项。计算后比较类题目，分母从左向右截取前三位，分子减法计算考虑截位舍相同，则各

经济类型的增长率分别为：私营企业 $\frac{1333 - 756}{756} = \frac{577}{756} > 70\%$ ，有限责任公司 $\frac{637 - 379}{379} = \frac{258}{379} < 70\%$ ，

股份有限公司 $\frac{185 - 124}{124} = \frac{61}{124} < 50\%$ ，比较可知私营企业的增长率最大。

因此，选择 A 选项。

解法二：根据增长率 $= \frac{\text{现期量}}{\text{基期量}} - 1$ ，这个比值越高则增长率越大，四个选项中比值最高的是“私营企业”（最接近 2 倍），其余均远低于 2 倍，则私营企业的增长率最大。

因此，选择 A 选项。

93. 【解析】B

第一步，本题考查现期比重计算中的求比重。

第二步，定位表 2 可知，2017 年末，国有单位、城镇集体单位、全国城镇就业人员依次为 6064 万人、406 万人、42462 万人。

第三步，根据比重 $= \frac{\text{部分量}}{\text{整体量}}$ ，选项出现首位相同第二位不同的情况，可将分母从左向右截取前三位，分子加法

计算考虑截位舍相同，代入数据可得 $\frac{61 + 4}{425} = \frac{65}{425}$ ，直除首两位商 15（或略大于 $\frac{1}{7} \approx 14.3\%$ ），B 选项符合。

因此，选择 B 选项。

94. 【解析】D

第一步，本题考查比重比较。

第二步，定位表 1 中“就业人员”与“第三产业”所在行。

第三步，解法一：根据比重 $= \frac{\text{部分量}}{\text{整体量}}$ ，计算后比较类题目，分母从左向右截取前三位，分子考虑截位舍相同（保证量级不变），代入数据可得各年份的比重分别为：

2013年 $\frac{296}{770}$ ，2014年 $\frac{314}{773}$ ，2015年 $\frac{328}{775}$ ，2016年 $\frac{338}{776}$ ，直除首两位分别为 38、40、42、43，则 2016 年的占比最大。

因此，选择 D 选项。

解法二：四个选项量级一致，直除首位分别商 3、4、4、4，排除 A 选项，BCD 选项根据差分法进行比较：

2015年 $\frac{314}{773}$ 和 2014年 $\frac{328}{775}$ ，差分数 $(\frac{14}{2}) >$ 小分数 $(\frac{314}{773})$ ，则 $\frac{328}{775} > \frac{314}{773}$ ，则 2015 年比重大于 2014

年; 2016年 $\frac{328}{775}$ 和2015年 $\frac{338}{776}$, 差分数 ($\frac{10}{1}$) > 小分数 ($\frac{328}{775}$), 则 $\frac{338}{776} > \frac{328}{775}$ 则 2016 年比重大于 2015 年。则 2016 年的占比最大。

因此, 选择 D 选项。

95. 【解析】D

第一步, 本题考查综合分析问题, 且需选出正确的一项。

第二步, A 选项, 直接读数。定位表 2 中的“有限责任公司”所在行, 2015 年 (6389) > 2016 年 (6381) > 2017 年 (6367), 未实现逐年递增, 错误。

B 选项, 减少量计算。定位表 1 中的“第二产业”所在行。根据减少量=基期量-现期量, 2016 年, 全国第二产业就业人员比 2012 年减少 23241-22350=891 (万人), 未超过 1000 万人, 错误。

C 选项, 现期比重计算。定位文字材料可知, “2017 年全国农民工总量 28652 万人, 比上年增加 481 万人, 其中外出农民工 17185 万人”, $17185 < 28652 \times 80\%$, 占比不足 80%, 错误。

D 选项, 增长量做差比较, 定位表 2 中的“城镇就业人员”所在行, 根据增长量=现期量-基期量, 减法计算可将数据截位舍相同处理, 则 2013—2017 年增长量依次为: $38240-37100=1140$ 、 $39310-38240=1070$ 、 $40410-39310=1100$ 、 $41430-39310=1020$ 、 $42460-41430=1030$, 则 2013 年增长的最多, 正确。

因此, 选择 D 选项。

96. 【解析】C

第一步, 本题考查增长率读数比较。

第二步, 定位表格材料。

第三步, 读数可知, 三年增长率均超过 6% 的指标有: 国内旅游人数、国内旅游收入、全年实现旅游业总收入、全国旅游业对 GDP 的综合贡献, 共 4 个。

因此, 选择 C 选项。

97. 【解析】B

第一步, 本题考查现期平均数计算。

第二步, 定位表格材料“全年实现旅游业总收入”。

第三步, 解法一: $10.7\% \approx \frac{1}{9.5}$, 根据增长量计算 n+1 原则, 2015 年增长量为: $\frac{4.13}{9.5+1} = \frac{4.13}{10.5} \approx 0.39$ (万亿元), 根据增长量=现期量-基期量, 可得 2016 年增长量为 $4.69-4.13=0.56$ (万亿元), 2017 年增长量为 $5.40-4.69=0.71$ (万亿元)。

根据平均数 $= \frac{\text{总数}}{\text{总个数}}$, 则三年均值为 $\frac{0.39+0.56+0.71}{3} = \frac{1.66}{3} \approx 0.55$ (万亿元) = 5500 亿元, 在 B 选项范围内。

因此，选择 B 选项。

解法二：2015 年、2016 年及 2017 年这 3 年的旅游业总收入同比增量均值，即求解 2015 年初—2017 年末这三

年的年均增长量，2015 年初的数据没有给出，用 2014 年末的数据替代，根据基期量 $= \frac{\text{现期量}}{1 + \text{增长率}}$ ，分母从

左向右截取前三位处理，代入数据可得 2014 年旅游业总收入为 $\frac{4.13}{1.11} \approx 3.72$ （万亿元），根据年均增长量

$= \frac{\text{末期量} - \text{初期量}}{\text{相差年数}}$ ，则这三年的年均增长量 $= \frac{5.40 - 3.72}{3} = \frac{1.68}{3} = 0.56$ （万亿元）=5600 亿元，在 B 选

项范围内。

因此，选择 B 选项。

98. 【解析】A

第一步，本题考查平均数增长量计算。

第二步，定位表格材料，“国内旅游人数”、“国内旅游收入”。

第三步，根据平均数 $= \frac{\text{后}}{\text{前}}$ 及增长量=现期量—基期量，将分母简单取整，则代入数据可得，2017 年，国内旅游

平均每人创造旅游收入与 2015 年相比， $\frac{4.57 \times 10^4}{50} - \frac{3.42 \times 10^4}{40} = 914 - 855 = 59$ （元），增长 59 元，

即增加不到 100 元。

因此，选择 A 选项。

99. 【解析】C

第一步，本题考查两期平均数比较。

第二步，定位表格材料。

第三步，解法一：根据平均数 $= \frac{\text{后}}{\text{前}}$ ，出境旅游平均每人每次花费 $= \frac{\text{出境旅游花费}}{\text{出境旅游人数}}$ ，根据两期平均数比较口诀，

分子增速高于分母增速，平均数上升，反之则下降。2015 年出境旅游花费同比增速 a（16.6%）>出境旅游人数同比增速 b（9.3%），则 2015 年出境旅游平均每人每次花费高于 2014 年，排除 A 选项；同理，2016 年出境旅游花费同比增速 a（5.1%）>出境旅游人数同比增速 b（4.3%），则 2016 年出境旅游平均每人每次花费高于 2015 年，排除 B 选项；2017 年出境旅游花费同比增速 a（5.0%）<出境旅游人数同比增速 b（7.4%），则 2017 年出境旅游平均每人每次花费低于 2016 年，排除 D 选项。则出境旅游平均每人每次花费最多的年份是 2016 年。

因此，选择 C 选项。

解法二：根据平均数 $\frac{\text{后}}{\text{前}}$ ，出境旅游平均每人每次花费 $\frac{\text{出境旅游花费}}{\text{出境旅游人数}}$ ，根据两期平均数比较口诀，分子增速高于分母增速，平均数上升，反之则下降。2015 年出境旅游花费同比增速 a (16.6%) > 出境旅游人数同比增速 b (9.3%)，则 2015 年出境旅游平均每人每次花费高于 2014 年，排除 A 选项；2015—2017 年出境旅游平均每

人次花费分别为 $\frac{1045}{1.17}$ ， $\frac{1098}{1.22}$ ， $\frac{1152.9}{1.31}$ 直除首位分别商 8，9，8，则出境旅游平均每人每次花费最高的是 2016 年。

因此，选择 C 选项。

100. 【解析】A

第一步，本题考查综合分析问题，且需选出正确的一项。

第二步，A 选项，简单计算中的和差类。定位表格材料，2016 年入境旅游人数同比增速为 3.0%，2015 年同比增速为 4.7%， $3.0\% - 4.7\% = -1.7\%$ ，即 2016 年入境旅游人数增速比 2015 年低 1.7 个百分点，正确。

B 选项，现期比重计算。定位表格材料，2017 年直接就业 2825 万人，直接和间接就业 7990 万人，根据比重


$$= \frac{\text{部分量}}{\text{整体量}}，代入数据可得 \frac{2825}{7990} > 30\%$$

，超过 30%，错误。

C 选项，读数比较。定位表格材料“全国旅游业对 GDP 的综合贡献”，2017 年同比增速 (11.5%) < 2016 年同比增速 (11.6%)，同比增速并非逐年增大，错误。

D 选项，读数比较。定位表格材料，2016 年出境旅游花费同比增速 (5.1%) < 国际旅游收入同比增速 (5.6%)，错误。

因此，选择 A 选项。



美好的事情即将发生...

something wonderful is about to happen