

2020年军队文职人员招聘考试公共科目试题（网友回忆版）

公考通网校

<http://www.chinaexam.org/>



公考通APP



微信公众平台

基础知识—单选题

请根据题目要求，在每个选项中选出一个最恰当的答案。

1. “人的本质”这一概念是人对自身的认识发展到一定阶段形成的，它力图从根本上回答“人是什么”或“什么是人”这一重大题。马克思主义认为，人的本质：
 - A. 永恒不变
 - B. 可随主观意志而任意改变
 - C. 随着社会关系的变化而变化
 - D. 随着个性的改变而改变
2. （ ）和信息化是事关国家安全和国家发展、事关广大人民群众工作生活的重大战略问题，是一体之两翼、驱动之双轮。
 - A. 生态安全
 - B. 军事安全
 - C. 科技安全
 - D. 网络安全
3. 在国家垄断资本主义条件下，政府对经济生活进行干预和调节的实质是：
 - A. 维持资本主义经济稳定增长
 - B. 消除和防止经济危机爆发
 - C. 提高资本主义社会的整体福利水平
 - D. 维护垄断资产阶级的整体利益和长远利益
4. 马克思在研究战争与和平的关系时指出：“战争比和平发达得早；某些经济关系，如雇佣劳动、机器等等，怎样在战争和军队等等中比在资产阶级社会内部发展得早。生产力和交往关系的关系在军队中也特别显著。”这一论述说明了一个重要观点，即：
 - A. 战争是一定社会经济的产物
 - B. 战争是流血的政治
 - C. 战争是唯一推动社会经济发展的因素
 - D. 战争对整个社会经济发展不起作用
5. 绿水青山就是金山银山。这是重要的（ ）理念，也是推进现代化的重大原则。
 - A. 发展
 - B. 创新
 - C. 改革
 - D. 安全
6. （ ）是我们党执政的最大底气，是我们共和国的坚实根基，是我们强党兴国的根本所在。
 - A. 人民
 - B. 社会主义制度
 - C. 人民军队

- D. 党的各级组织
7. 在我国社会主义意识形态中，占据统摄地位的是：
- A. 共产主义
 - B. 马克思主义
 - C. 中国特色社会主义
 - D. 社会主义核心价值观
8. 先进的社会意识对社会发展起着积极的促进作用，是由于它：
- A. 是社会存在的反映
 - B. 具有历史继承性
 - C. 反映了社会发展的趋势和要求
 - D. 具有相对独立性
9. 贯穿于毛泽东思想各个组成部分的立场、观点和方法，是毛泽东思想的活的灵魂，它们有三个基本方面，即实事求是、群众路线、独立自主。其中，毛泽东思想的精髓是：
- A. 实事求是
 - B. 群众路线
 - C. 独立自主
 - D. 统一战线
10. 党对军队绝对领导的原则和制度，发端于（ ），奠基于三湾改编，定型于古田会议。
- A. 秋收起义
 - B. 广州起义
 - C. 百色起义
 - D. 南昌起义
11. 我们党团结带领人民找到了一条以农村包围城市、武装夺取政权的正确革命道路，进行了28年浴血奋战，完成了新民主主义革命，建立了中华人民共和国，实现了中国从几千年封建专制向人民民主的伟大飞跃。新民主主义革命实质上是：
- A. 工人运动
 - B. 封建社会农民起义的延续
 - C. 中国共产党领导下的农民革命
 - D. 无产阶级社会主义革命
12. 唯物辩证法的实质和核心是：
- A. 对立统一规律
 - B. 量变质变规律
 - C. 否定之否定规律
 - D. 联系和发展
13. 习近平在2019年9月中央党校（国家行政学院）中青年干部培训班开班式强调，共产党人的斗争是有方

- 向、有立场、有原则的，大方向就是：
- A. 维护我国核心利益和重大原则
 - B. 维护我国人民根本利益
 - C. 实现“两个一百年”奋斗目标、实现中华民族伟大复兴
 - D. 坚持中国共产党领导和我国社会主义制度不动摇
14. 增进民生福祉是我们党坚持立党为公、执政为民的本质要求。最大的民生工程、民心工程、根基工程是：
- A. 教育
 - B. 就业
 - C. 收入分配
 - D. 社会保障
15. 平均利润的形成是：
- A. 部门内部竞争的结果
 - B. 部门之间竞争的结果
 - C. 资本构成变化的结果
 - D. 剩余价值增加的结果
16. 生产逐渐发展、工人就业增加、物价逐步上升、企业利润增加是（ ）的特征。
- A. 危机阶段
 - B. 萧条阶段
 - C. 复苏阶段
 - D. 繁荣阶段
17. 价值规律作用的表现形式是：
- A. 商品价格经常低于价值
 - B. 商品价格总是高于价值
 - C. 商品价格往往高于价值
 - D. 商品价格围绕价值波动
18. 人类社会中最基本的关系是：
- A. 政治关系
 - B. 宗教关系
 - C. 家庭关系
 - D. 生产关系
19. 当前我国推进要素市场制度建设，就是要实现：
- A. 要素市场价格决定、流动自主有序、配置高效公平
 - B. 流动自主有序
 - C. 配置高效公平

- D. 素市场价格决定
20. 现代企业制度的主要形式是：
- A. 合伙制
 - B. 业主制
 - C. 公司制
 - D. 混合所有制
21. 商品的本质属性是：
- A. 使用价值
 - B. 价值
 - C. 交换价值
 - D. 价格
22. 当前我国深化经济体制改革的重点是：
- A. 完善产权制度和要素市场化配置
 - B. 扩大优质增量供给，实现供需动态平衡
 - C. 加快培育国际经济合作和竞争新优势
 - D. 建立更加有效的区域协调发展新机制
23. 党的十二届三中全会通过的《中共中央关于经济体制改革的决定》明确提出：
- A. 社会主义存在商品生产和商品交换
 - B. 社会主义经济是在公有制基础上的有计划商品经济
 - C. 建立社会主义市场经济体制是我国经济体制改革的目标
 - D. 社会主义是计划经济和市场经济的统一
24. 改革开放以来，我国利用外资主要有：
- A. 各种海外捐助
 - B. 各种国外援助
 - C. 外国人存款
 - D. 各种贷款、外国直接投资
25. 下列行为中可以引起劳动法律关系产生的是：
- A. 某宾馆雇佣童工
 - B. 因岗位原因甲与所在单位协议改变岗位
 - C. 乙根据与某公司签订的劳动合同上岗就业
 - D. 劳动合同期满前，丙与某公司协议延期
26. 我国《国防法》规定，公民和组织因国防建设和军事活动在经济上受到直接损失的，可以依照国家有关规定取得：
- A. 赔偿
 - B. 补偿

- C. 补助
 - D. 奖励
27. 下列关于国有经济地位的宪法表述正确的是：
- A. 国有经济是国民经济中的领导力量
 - B. 国有经济是国民经济中的主导力量
 - C. 国有经济是社会主义市场经济的基本组成部分
 - D. 国有经济是我国社会主义经济制度的唯一基础
28. 中华人民共和国各级监察委员会是国家的：
- A. 行政机关
 - B. 审判机关
 - C. 监察机关
 - D. 法律监督机关
29. 我国《宪法》和法律所确立的解决我国民族问题的基本政治制度是：
- A. 民族区域自治
 - B. 各民族一律平等
 - C. 设立特别行政区
 - D. 实行国家统一领导
30. 根据马克思主义法学原理，下列选项正确的是：
- A. 在任何社会，法律内容的决定性因素都是利益需要
 - B. 法律的本质是社会各阶层意志的体现
 - C. 法律是调整人的一切社会行为的规范
 - D. 特定国家的法的内容在最终意义上是由特定国家在特定时空下的物质生活条件决定的
31. 我国注册商标的有效期为（ ），自核准注册之日起计算。
- A. 5年
 - B. 10年
 - C. 15年
 - D. 20年
32. 2020年5月28日第十三届全国人民代表大会第三次会议通过了：
- A. 《中华人民共和国国防法》
 - B. 《中华人民共和国民法典》
 - C. 《中华人民共和国现役军官法》
 - D. 《中华人民共和国民法总则》
33. 著作权的内容包括人身权和：
- A. 财产权
 - B. 收益权

- C. 署名权
D. 出版权
34. 下列两则民谣，说明了我国国防活动基本原则中的：
- (一) 松柏满山棵挨棵，哪有民兵人数多，人筑长城神难过，打得鬼子无处躲。
(二) 前村后屋安土炮，满山遍野地雷网，老少民兵长翅膀，飞行出击敌后方。一脚踢后心，一手打耳光，配合主力歼敌人，封锁消息断敌粮。
- A. 全民自卫原则
B. 积极防御原则
C. 独立自主原则
D. 国防建设与经济建设协调发展原则
35. 目前，我国人口增长已经进入：
- A. 低出生率、低自然增长率的现代模式
B. 低出生率、低死亡率、低自然增长率的现代模式
C. 高出生率、低死亡率、高自然增长率的过渡模式
D. 高出生率、高自然增长率的传统模式
36. 成语“草木皆兵”反映的历史事件是：
- A. 赤壁之战
B. 官渡之战
C. 长平之战
D. 淝水之战
37. 中央集权封建制度对我国封建社会产生的最主要的积极影响是：
- A. 维护国家统一
B. 发展社会经济
C. 防御侵略
D. 加强民族团结
38. 关于我国“坚持推动构建人类命运共同体”，下列表述不正确的是：
- A. 始终坚持和平共处五项原则、走互利共赢的开放道路
B. 坚持正确义利观，树立共同、综合、合作、可持续的新安全观
C. 谋求开放创新、包容互惠的发展前景
D. 始终做世界和平的建设者、全球发展的贡献者、国际秩序的维护者
39. 我国行政区划基本分为（ ）级。
- A. 省、自治区、直辖市
B. 省、自治区、直辖市、特别行政区
C. 省、县、乡
D. 省、地、县、乡

40. 2019年3月30日上午，“双千兆第一区”开通仪式在（ ）举行，并拨通了首个5G手机通话，标志着（ ）成为全国首个中国引动5G试用城市。
- A. 北京朝阳区 北京
 - B. 上海虹口区 上海
 - C. 深圳龙华区 深圳
 - D. 杭州西湖区 杭州
41. （ ）是决定当代中国命运的关键一招，也是决定我军发展壮大，制胜未来的关键一招。
- A. 开放
 - B. 创新
 - C. 改革
 - D. 建设
42. 在战争制胜问题上，（ ）是决定因素，无论时代条件如何发展，战争形态如何演变，这一条永远不会变。
- A. 武器
 - B. 人
 - C. 战争性质
 - D. 军队组织形态
43. 我国古代的国防是指从公元前21世纪夏王朝的建立到：
- A. 1840年鸦片战争
 - B. 第二次鸦片战争
 - C. 1900年八国联军侵华
 - D. 辛亥革命
44. 国防的基本类型包括：
- A. 扩张型、侵略型、联盟型和中立型
 - B. 扩张型、自卫型、联盟型和中立型
 - C. 侵略型、自卫型、结盟型和中立型
 - D. 攻击型、防守型、联盟型和中立型
45. 党的生命线和根本工作路线是：
- A. 实事求是
 - B. 群众路线
 - C. 独立自主
 - D. 统一战线
46. 军队是要准备打仗的，一切工作都必须坚持（ ）标准，向能打仗、打胜仗聚焦。
- A. 对党忠诚
 - B. 战斗力

- C. 作风优良
D. 保障有力
47. 1950年10月，党中央作出了抗美援朝、保家卫国的战略决策，毛泽东主席签署命令，任命（ ）为中国人民志愿军司令员兼政治委员。
- A. 陈毅
B. 刘伯承
C. 彭德怀
D. 粟裕
48. 全面贯彻落实总体国家安全观，要聚焦重点，抓纲带目，把确保（ ）安全作为首要任务，统筹推进各重点领域国家安全工作。
- A. 军事
B. 人民
C. 经济
D. 政治
49. 人民军队内部实行的“三大民主”是：
- A. 政治民主、经济民主、军事民主
B. 政治民主、管理民主、军事民主
C. 文化民主、经济民主、军事民主
D. 文化民主、管理民主、军事民主
50. 军队保密工作是军队建设（ ）的工作，是巩固战斗力、完成各项任务的重要保证。
- A. 临时性、基础性
B. 经常性、基础性
C. 临时性、保障性
D. 保障性、基础性

基础知识—多选题

以下题目答案不唯一，请根据题目要求，在每个选项中选出恰当的答案。

51. 面对来势汹汹的新冠肺炎疫情，党中央审时度势、综合研判，及时提出了（ ）总要求。
- A. 坚定信心
B. 同舟共济
C. 科学防治
D. 精准施策
E. 高度重视
52. 新时代，中央贯彻“一国两制”方针坚持两点，一是坚定不移，不会变，不动摇；二是全面准确，确保“一国两制”在香港、澳门的实践不走样、不变形，始终沿着正确方向前进。全面准确理解“一国”和“两制”的关系，必须把握：

- A. “一国两制”是一个完整的概念
 - B. “一国”是实行“两制”的前提和基础，“两制”从属和派生于“一国”，并统一于“一国”之内
 - C. “一国”是根，根深才能叶茂；“一国”是本，本固才能枝荣
 - D. 国家主体坚持社会主义制度，是香港、澳门实行资本主义制度，保持繁荣稳定的前提和保障；香港、澳门依照基本法实行“港人治港”、“澳人治澳”、高度自治，必须充分尊重国家主体实行的社会主义制度
 - E. 把坚持“一国”原则和尊重“两制”差异有机结合起来，做到坚守“一国”之本，实现“两制”和谐相处、相互促进，既要把实行社会主义制度的内地建设好，也要把实行资本主义制度的香港、澳门建设好
53. 党的十九届四中全会提出需要坚持和完善的社会主义基本经济制度包括：
- A. 公有制为主体、多种所有制经济共同发展
 - B. 按劳分配为主体、多种分配方式并存
 - C. 社会主义市场经济体制
 - D. 混合所有制经济发展
 - E. 改革开放
54. 共建“一带一路”倡议秉持的原则是：
- A. 共商
 - B. 开放
 - C. 共建
 - D. 共赢
 - E. 共享
55. 关于党对法治事业的领导，下列说法正确的是：
- A. 党的领导是社会主义法治最根本的保证
 - B. 党对法治事业的领导理念可以追溯到列宁关于无产阶级专政与社会主义法治的思想
 - C. 应当将党所倡导的政治文明充分体现在对法治实践活动的领导之中
 - D. 党对法治事业的领导，集中体现在思想领导、政治领导两个方面
 - E. 党的领导必须依靠社会主义法治
56. 我国《宪法》规定的爱国统一战线的范围包括：
- A. 社会主义劳动者
 - B. 社会主义事业的建设者
 - C. 拥护社会主义的爱国者
 - D. 拥护祖国统一的爱国者
 - E. 我国公民
57. 2001年9月11日，基地组织策划了对美国纽约世界贸易中心和五角大楼的一系列恐怖袭击事件，造成重大人员伤亡和财产损失。这是一起典型的国际恐怖主义袭击活动。该事件发生后，不仅美国的盟友对美国表示了同情和支持，而且非盟友国家也表示支持美国打击恐怖主义。2001年10月7日，以美国为首的联军发起了一场针对基地组织和塔利班的战争，标志着反恐战争的开始。关于国际恐怖主义，下列描述正确

的有：

- A. 国际恐怖主义崇尚暴力活动，一般没有政治色彩
 - B. 需要世界各国相互合作，共同应对国际恐怖主义
 - C. 打击国际恐怖主义已经成为少数大国推进霸权主义和强权政治的借口
 - D. 贫富差距给国际恐怖主义可乘之机
 - E. 国际恐怖主义目前仍然是美国面临的最主要威胁
58. 澳门回归祖国20年来取得的成就举世瞩目，习近平指出，总结澳门“一国两制”成功实践，可以获得4点重要经验，这些经验包括：
- A. 始终坚定“一国两制”制度自信
 - B. 始终准确把握“一国两制”正确方向
 - C. 始终强化“一国两制”使命担当
 - D. 始终注重夯实“一国两制”中华文化根基
 - E. 始终筑牢“一国两制”社会政治基础
59. 党的十九大对国防和军队现代化作出了战略安排，强调同国家现代化进程相一致，全面推进（ ），力争到二〇三五年基本实现国防和军队现代化，到本世纪中叶把人民军队全面建成世界一流军队。
- A. 军事理论现代化
 - B. 军队组织形态现代化
 - C. 军队力量编成现代化
 - D. 军事人员现代化
 - E. 武器装备现代化
60. 党对军队绝对领导的制度包括：
- A. 坚持军队最高领导权和指挥权属于党中央、中央军委，中央军委实行主席负责制
 - B. 实行党委制、政治委员制、政治机关制
 - C. 实行党委统一的集体领导下的首长分工负责制
 - D. 实行支部建在连上
 - E. 坚持民主集中制

言语理解与表达

请根据题目要求，在每个选项中选出一个最恰当的答案。

61. 依次在下列各句横线处填入词语，恰当的一项是：
- ①北京卢沟桥两边的石栏杆上雕刻着数以百计的石狮，这些狮子在风霜雨雪中已守桥七百多个_____。
- ②不同管理层次、不同岗位上的人员，不管其工作内容有多大的_____，均有其工作的目标和重点。我们必须_____目标，抓住重点，有所取舍，集中_____做我们该做的事。
- A. 春秋 差距 制定 物力
 - B. 岁月 差距 制定 物力

- C. 岁月 区别 实现 财力
D. 春秋 差别 明确 精力
62. 下列语句中，括号内词语使用不正确的是：
- A. 文物，承载着一个民族的历史，也维系着生活在同一个文化圈里人们的情感认同。那些平素里“（养在深闺人未识）”的宝贝精品，如今因为一场场“云展览”，与艺术爱好者们的距离陡然拉近了
- B. 从这些器物上不难发现，无论是车马器、屏风座还是连接扣器都运用了云纹造型，色彩绚丽，动感十足，说明起于北方草原的中山国历经数百年已与中原民族渐趋融合，呈现出（动静结合）的风格
- C. 疫情防控思政大课“云”开讲，四位老师带领我们从不同的角度审思这一场新冠肺炎疫情，很多人心头始终萦绕着“（此生无悔入华夏，来世愿在种花家）”的幸福感和自豪感
- D. 科学家们表示，除了海王星和天王星这对“（蓝色妖姬）”本身充满神秘诱惑之外，这两颗行星和木星之间罕见的“行星连珠”现象将出现于本世纪30年代初
63. 最近，法国科学研究中心和欧洲南方天文台发布信息说，天文学家去年利用位于智利的超大望远镜拍摄到另一个“太阳系”行星的照片。这颗系外行星的体积是太阳系最大行星（木星）的5倍，温度是它的10倍。这颗系外行星围绕一颗年轻的棕矮星运行。但棕矮星与行星很难区分。天文学家早先说过他们发现了一个距离地球230光年的物体围绕棕矮星运行，亮度仅为后者的1/100。但他们不能确定这个物体是一颗棕矮星，还是绕棕矮星运行的系外行星。可今年早些时候的观测报告根据它一年来的运动轨迹证明，该物体确实是系外行星。这也是迄今为止第一次拍到系外行星的照片。
- 阅读这则消息，最符合该消息的导语是：
- A. 欧洲科学家相信他们第一次拍到了另一个“太阳系”行星的照片
- B. 欧洲科学家最近表示，他们相信自己第一次拍到了另一个“太阳系”行星的照片
- C. 欧洲科学家第一次拍到了另一个“太阳系”行星的照片
- D. 欧洲科学家最近表示第一次拍到了另一个“太阳系”行星的照片
64. 下列句子中没有语病的是：
- A. 夜深人静，想起今天一连串发生的事情，我怎么也睡不着
- B. 领导干部的楷模孔繁森真正具备了一个共产主义战士的优秀共产党员的品质
- C. 飞快的18次特快列车向北京奔驰
- D. 一列一列的火车满载着生产物资开往祖国的四面八方
65. 下列语句中语意明确的是：
- A. 他背着爸爸和妈妈偷偷地把这笔钱分别存入了两家银行
- B. 这本肖洛霍夫《静静的顿河》将作为今天“朗读者”的嘉宾的礼品赠送给他
- C. 这次考试题虽然不难，但由于他准备得不太充分，差一点儿就没及格
- D. 这次考试题虽然不难，但由于他准备得不太充分，差一点儿就没及格
66. 在作文运思时，最重要而且最艰苦的工作不在于搜寻材料，而在于有了材料之后，将它们加以选择与安排。就生糙的材料说，世间可想到可说出的话，前人在大体上都已经想过说过；然而后来人却不能因此就不去想不去说，因为每个人有他的特殊的生活情境与经验。所以他所想所说尽管在表面上是老生常

谈，而实际上却可以是一种新鲜的作品，如果选择与安排给了它一个新的形式和新的生命的话。

对这段文字主要意思的提炼，下面选项中最准确的是：

- A. 材料的选择与安排，能显出创作艺术的锤炼
- B. 尽管材料大致相同，但不同作者有不同的选择与安排
- C. 材料的选择与安排是写作中最重要、最艰苦的工作
- D. 作者特殊的生活情境与经验，造就了新鲜的作品

67. 下列语句中，关联词使用正确的是：

- A. 在阅读过程中，我们可以发现，即使每个作家都有自己的风格，但同时代的作品总还会有某些共同的特点
- B. 为学生减负，不只是学校单方面的事，而是整个社会的事情，因此必须动员社会各方面的力量参与
- C. 人类只有清醒地认识自己，才能合理地调整自己的行为，免于被大自然惩罚，与自然和谐相处
- D. 我亲自感受过中国近代的屈辱史，从而，我对近百年那些为中国寻求解放之路、前仆后继地探索和牺牲的先驱者，一直怀有崇高的敬意

68. 下列成语中划横线的字解释不完全正确的是：

- A. 言之不预（预料）前倨（傲慢）后恭
- B. 痛（彻底）改前非 坚忍不拔（移动、改变）
- C. 挂（列举）一漏万 贻（留给）笑大方
- D. 名（名誉）不虚传 方（正在）兴未艾

69. 下列这首诗共有（ ）对仗。

早春南征寄洛中诸友

欧阳修

楚色穷千里，行人何苦赊。

芳林逢旅雁，候馆噪山鸦。

春入河边草，花开水上槎。

东风一樽酒，新岁独思家。

- A. 1联
- B. 2联
- C. 3联
- D. 4联

70. 2019年8月24日，在北京召开的世界机器人大会现场，全球首款基于视觉识别做到侧面跟随、智能避障的OVIS智能行李箱发布。据悉，这款实质为“硬核”智能机器人的消费电子产品在上市前已获“Best of Product 2019 CES”等16项大奖，以及2019美国爱迪生奖——银奖等殊荣：其基于视觉感知和导航的侧跟技术已申请29项美国发明专利。据灵动科技（ForwardX）创始人兼CEO齐欧介绍，这款20英寸的登机箱“相当于一套搭载了无人驾驶技术的低速无人车”，通过融合多传感器的人工智能硬件，实现每分钟传输30GB的视频信息通量及360度全方位视觉感知能力，“能够视觉识别并预测用户的行走轨迹，实时调整自身的速度、导航行驶路线，以实现在侧面跟随主人行走、智能躲避路线中的所有障碍”，并且符合国际安

检标准。

根据选文内容，下列最符合本文陈述的推断是：

- A. “侧跟”行李箱发布的目的是实现智能避障
- B. “侧跟”行李箱将会受到民众的热烈欢迎
- C. “侧跟”行李箱将会成为全球首款智能行李箱
- D. “侧跟”行李箱的充电池使用期限会较长

71. 给下列句子排序，最恰当的是：

- ①活着就应该对生命保持一种敬畏和尊重。只要我们还拥有生命，就得对生命负责，让生命焕发出光彩。
- ②“水清鱼读月，山静鸟听风”，能领悟山月对话的静谧，活着就是一种幸福体验。
- ③我们为什么活着？
- ④观看潮涌大江的壮阔，品味人间真情的美好，活着就是一种快乐享受。
- ⑤同时，活着就是对生命过程的幸福体验和快乐享受。

- A. ③①④②⑤
- B. ②⑤①④③
- C. ④①⑤③②
- D. ③①⑤②④

72. 对下列这首词的赏析，不正确的是：

品令·茶词

黄庭坚

风舞团团饼，恨分破、教孤令。金渠体净，只轮慢碾，玉尘光莹。汤响松风，早减了、二分酒病。味浓香永。醉乡路、成佳境。恰如灯下，故人万里，归来对影。口不能言，心下快活自省。

【注】孤令：孤零。金渠：茶碾，金属所制。

- A. 茶饼上印着团团起舞的凤凰，将茶饼分开，凤凰好像各自分飞，让人遗憾
- B. 词人在松林喝茶，听着茶水的沸腾声和掠过松林的风声，心中感到十分惬意
- C. 词人将茶饼用洁净的金渠细心碾成琼粉玉屑，但见茶末成色纯净，清亮晶莹
- D. 这首词上阕主要写品茶过程，下阕着重写品茶的感受，语言清丽，情感真挚

73. 将下列编号的语句依次填入语段划横线处，语意连贯的是：

汉文化所以不同于其他民族的文化，____，____，____，____，孔子在塑造中国民族性格和文化——心理结构上的历史地位，已是一种难以否定的客观事实。

- ①不管是好是坏，是批判还是继承
- ②中国人所以不同于外国人
- ③中华艺术所以不同于其他艺术
- ④其思想来由仍应追溯到先秦孔学

- A. ④①②③
- B. ①②④③

C. ②①④③

D. ②③④①

74. 下文中划线部分“而正是在这两点上”中的“这”指代的是：

经济学家保罗·罗默指出，知识的生产、应用和扩散的效率与知识的积累及人力资本正相关。而正是在这两点上，发展中国家同发达国家存在着巨大差距，这种差距虽然使发展中国家在知识的选择和应用方面可以有较大的回旋余地，但同时使得他们与发达国家在国际分工中因位势的不同形成垂直分工的关系，因而处于不利地位，甚至随着新的技术壁垒的形成而形成新的“中心—依附”关系，加大贫富差距。

A. 知识的生产、应用

B. 知识的积累

C. 知识的积累和人力资本

D. 知识的应用及扩散效率

75. 下列各句标点符号使用正确的是：

A. 她认真地看过这些信后，郑重地转给了有关部门，不知道有关部门收到这些信后作何感想？能不能像影片中那位女法官那样秉公断案，尽快解决问题？

B. 以前可能因为年龄小，不知道珍惜时间，现在我才体会到“一寸光阴一寸金，寸金难买寸光阴。”这句话的真正含义。

C. 每当疼痛发作，他就采用自己的“压迫止痛法”——用茶壶盖、烟嘴、玻璃球、牙刷把……顶住疼痛的部位。

D. “真不是和你说着玩儿。”洪民一本正经地说，“如果你能出山，咱们一起想办法，这事准能完成”。

数量关系

请根据题目要求，在每个选项中选出一个最恰当的答案。

76. 请选择最合理的一项来填充所给数列的空缺项，使之符合原数列的排列规律：10, 8, 6, 4, (), 2, -2, 1, -6

A. 2

B. 3

C. 0

D. -1

77. 请选择最合理的一项填充所给数列的空缺项，使之符合原数列的排列规律：1, 1, 2, 3, 5, 8, 13, 21, ()

A. 34

B. 37

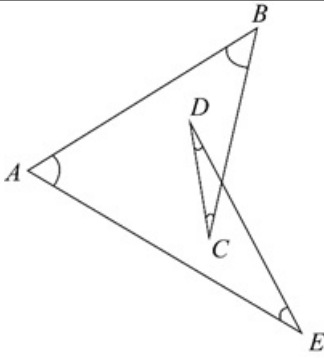
C. 39

D. 41

78. 请选择最合理的一项填充所给数列的空缺项，使之符合原数列的排列规律：1, 7, 13, 19, 25, ()

A. 36

- B. 33
- C. 31
- D. 27
79. 自然数12597能够分解为（ ）个质数之积。
- A. 2
- B. 3
- C. 4
- D. 5
80. 某单位辖有A、B、C三支施工队，分别编有员工388人、289人、339人。现将三支施工队整合为人数相等的甲、乙两支施工队，其中A队所有员工编入甲队，缺员部分按3:7的比例从B、C两队抽调，其余人员编入乙队。那么乙队中有（ ）人来自C队。
- A. 205
- B. 253
- C. 255
- D. 303
81. 已知一个项数为10的等差数列，其中奇数项之和为545，偶数项之和为590，则其公差为：
- A. 7
- B. 8
- C. 9
- D. 10
82. 箱子里有10个苹果，其中4个红苹果，6个青苹果，从箱子里任取两个苹果，则恰好取到1个红苹果和1个青苹果的概率为：
- A. $\frac{8}{15}$
- B. $\frac{4}{15}$
- C. $\frac{1}{3}$
- D. $\frac{1}{2}$
83. 某直升机原定以260公里的时速飞往目的地，因任务紧急，飞行时速提高到360公里，结果提前1小时到达，则总的航程是（ ）公里。
- A. 900
- B. 936
- C. 1200
- D. 1296
84. 如下图所示，图中 $\angle A + \angle B + \angle C + \angle D + \angle E$ 的度数为：



- A. 90°
- B. 180°
- C. 270°
- D. 360°

85. 规定 $x\Delta y = 3x - 2y$, $x\nabla y = 3x + 2y$, 则 $(2\Delta 3)\Delta(2\nabla 3)$:

- A. -24
- B. 12
- C. 0
- D. 24

判断推理

请根据题目要求，在每个选项中选出一个最恰当的答案。

86. 珊瑚虫会在自己的身上记下“日历”，它们每天在自己的体壁上刻画一条斑纹。古生物学家发现，3.5亿年前的珊瑚虫每年会在自己的体壁上刻画400条斑纹。天文学家告诉我们，3.5亿年前的地球上每天仅有约21.9小时，1年是400天，而不是现在的365天。这说明：
- A. 现在地球自转比3.5亿年前变快了
 - B. 现在地球自转比3.5亿年前变慢了
 - C. 现在地球绕太阳公转比3.5亿年前变快了
 - D. 现在地球绕太阳公转比3.5亿年前变慢了
87. 下列与所给词语组“三顾茅庐：刘备”在逻辑关系上最为贴近、相似或匹配的词组是：
- A. 投笔从戎：班超
 - B. 望梅止渴：曹植
 - C. 一字千金：刘邦
 - D. 四面楚歌：韩信
88. 下列最合乎逻辑顺序的选项是：
- ①昼夜奋战
 - ②发生疫情
 - ③城市封闭
 - ④交通恢复
 - ⑤赶赴灾区

- A. ②—⑤—③—①—④
 B. ②—③—⑤—①—④
 C. ③—②—⑤—①—④
 D. ⑤—④—②—③—①

89. 存折对于（ ）相当于（ ）对于围墙

- A. 储户 牛羊
 B. 存款 绿地
 C. 银行卡 栅栏
 D. 银行 庭院

90. 自然失业是由于经济中的一些难以克服的原因引起的失业，它是任何经济形态都难以避免的失业，也是正常的失业。根据以上定义，下列属于自然失业的是：

- A. 王某由于酒后驾车造成人员伤亡，公司以王某违反劳动纪律为由将王某开除
 B. 由于地震，厂房和设备受损，厂长不得已遣散了工人
 C. 由于高速公路收费方式改为ETC通道收费，一些人工收费站的工作人员下了岗
 D. 赵某因哥们义气帮朋友要债，失手将欠债人打残，单位以赵某违反劳动纪律为由将赵某开除

91. 大学某班级英语四级报名结束后，甲、乙、丙、丁四位同学在一起讨论报名情况。

甲：“我们班所有同学都报名了。”

乙：“如果班长报名了，那么副班长就没报名。”

丙：“班长报名了。”

丁：“我们班有人没有报名。”

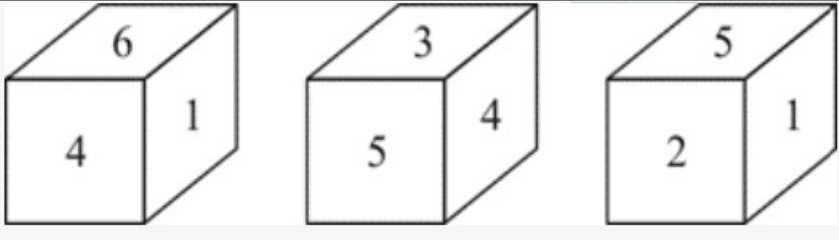
已知四人中只有一个人说假话，则可推出结论：

- A. 甲说假话，副班长没报名
 B. 乙说假话，副班长没报名
 C. 丙说假话，班长没报名
 D. 甲说假话，班长没报名

92. 自我知识是指个体对自己的心智状态的认识，包括自己当下的经验、思想、信念或愿望的知识。根据上述定义，下列不属于自我知识的是：

- A. 小李了解所学专业的就业情况后，决定考研深造
 B. 小杨认识到如果不加强锻炼，会影响自己的健康
 C. 小王通过网络，得知某地正在流行一种传染病
 D. 小明相信通过自身努力，学业一定会取得进步

93. 一个正方体骰子的六个面上分别标注了数字1、2、3、4、5、6，从三个不同的角度观察该骰子，看到如下数字标注。数字3对面的数字是：



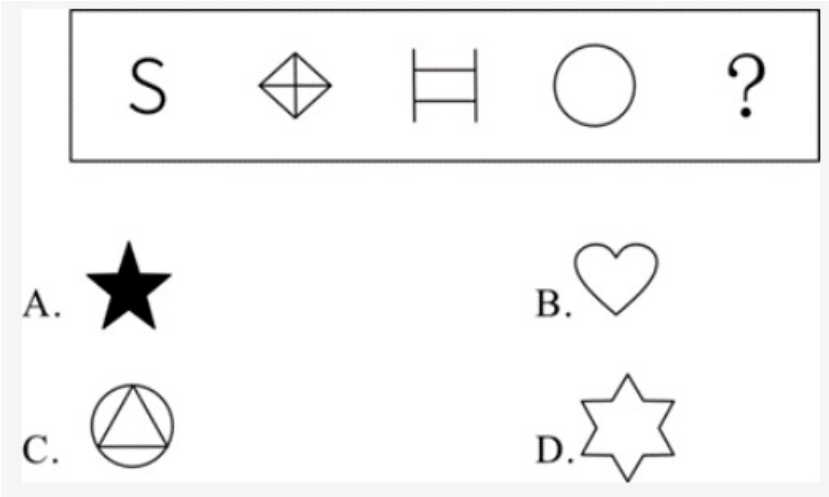
- A. 1
- B. 2
- C. 4
- D. 6

94. 生病去医院看病的一般流程为:

- ①化验
- ②治疗
- ③诊断
- ④病愈
- ⑤就医

- A. ①—②—③—④—⑤
- B. ②—④—⑤—①—③
- C. ④—②—③—⑤—①
- D. ⑤—①—③—②—④

95. 从所给的四个选项中, 选择最合适的一个填入问号处, 使之呈现一定的规律性的是:



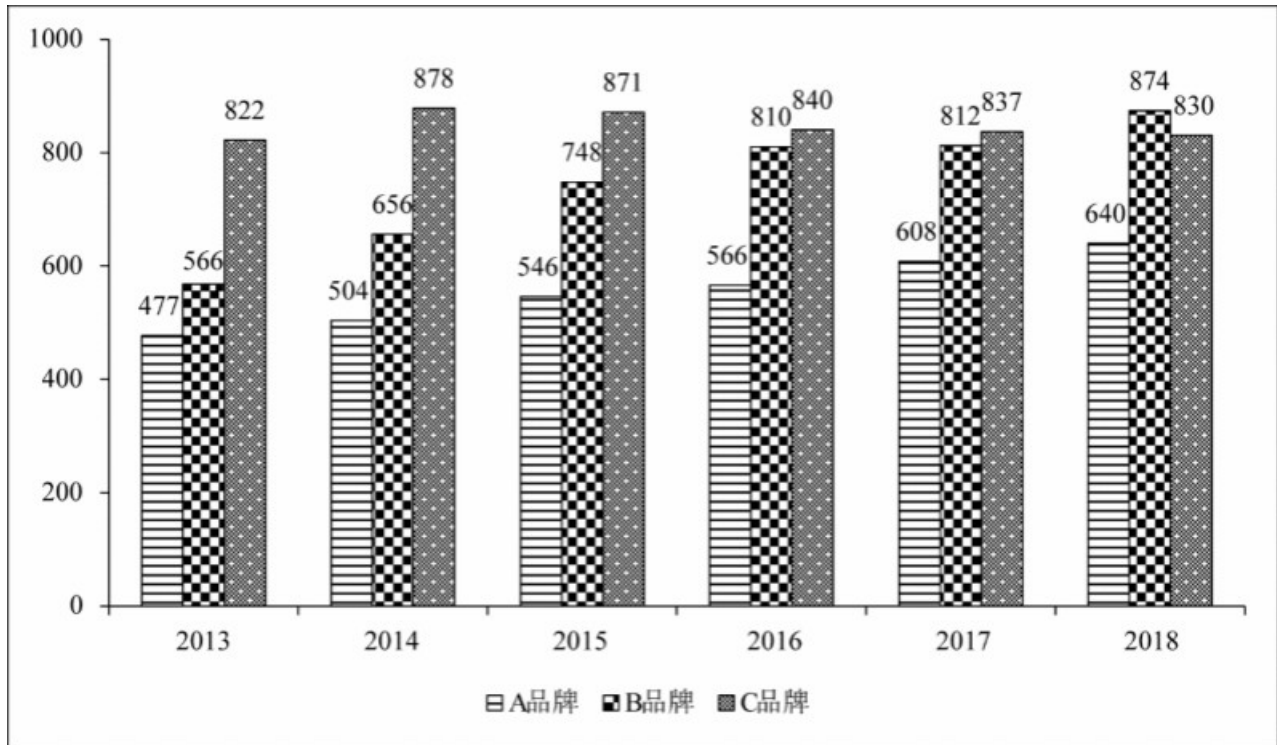
- A. 如上图所示
- B. 如上图所示
- C. 如上图所示
- D. 如上图所示

资料分析

请根据题目要求, 在每个选项中选出一个最恰当的答案。

某省是我国主要的手机生产地之一, 并且生产有多个品牌的手机。下图是该省2013~2018年生产的A品

牌、B品牌和C品牌三个品牌手机的产量，单位：万台。



96. 2013 ~ 2018年C品牌产量年增长率最大的一年是：

- A. 2014年
- B. 2015年
- C. 2016年
- D. 2017年

97. 2013 ~ 2018年A品牌平均年产量与B品牌平均年产量的比值约是：

- A. 0.95
- B. 0.86
- C. 0.75
- D. 0.51

98. 2015 ~ 2018年B品牌产量年增长率最小的一年是：

- A. 2015年
- B. 2016年
- C. 2017年
- D. 2018年

99. 2013 ~ 2018年A、B两品牌产量之和占三个品牌总数比重最大的一年是：

- A. 2013年
- B. 2015年
- C. 2017年
- D. 2018年

1995年我国主要经济区生产力布局。

地区名称	面积 (万平方公里)	人口数量 (亿)	地区国民生产总值占各地区总和的比重 (%)
长江三角洲地区	33	1.68	20
环渤海地区	112	2.40	22
中部地区	87.1	3.08	14
珠江三角洲地区	29.9	0.98	13
西南地区	142	2.43	11
东北地区	124	1.13	15
西部地区	307	0.82	5

100. 依据表格数据各地区中人口密度最小的是:

- A. 西部地区
- B. 中部地区
- C. 长江三角洲地区
- D. 珠江三角洲地区

101. 表格中各地区人均地区国民生产总值最高的是:

- A. 长江三角洲地区
- B. 珠江三角洲地区
- C. 环渤海地区
- D. 东北地区

102. 根据表格数据, 长江三角洲地区国民生产总值是西部地区的:

- A. 4倍
- B. 5倍
- C. 2倍
- D. 3倍

103. 由表格数据可以推断出:

- A. 面积越大的地区对应的人口越多
- B. 西南地区是表格中七个地区人均国民生产总值最低的地区
- C. 人口数量少对应人口密度就小
- D. 人口多经济发展水平一定高

某市2019年5月发布的统计数据显示, 2019年前两个月实现工农业销售总额为53.67亿元, 比上年同期增长28.7%, 其中, 工业销售总额27.29亿元, 比上年同期增长30.1%; 农业销售总额26.38亿元, 比上年同期增长27.4%。

统计数据, 显示在2019年2月份实现工农业销售总额为29.69亿元, 比上年同期增长58.2%, 增速比1月份加快53.6%。其中, 农业销售总额为14.75亿元, 比上年同期增长55.4%, 增速比1月份加快51.7%; 工业销售总额为14.95亿元, 比上年同期增长61.1%, 增速比1月份加快55.6%。

2019年前两个月在农业生产中的一般农业和农业深加工销售额都有较大增长, 其中, 一般农业实现销售

额8.97亿元，比上年同期增长31%，与一月份增幅基本持平，一般农业销售额增幅高于全市农业销售总额平均增幅3.6%；全市农业深加工销售额为16.67亿元，比上年同期增长24.8%。

2019年前两个月该市在深圳、广州、上海、北京、天津和南京等六个城市实现农业销售额达18.38亿元，占全市农业销售总额为69.7%。其中，在深圳实现销售额7.3亿元，比上年同期增长12.2%；在广州为2.99亿元，比上年同期增长16.2%；在上海为2.66亿元，比上年同期增长32%；在北京为2.46亿元，比上年同期增长1.2倍；在天津为1.62亿元，比上年同期增长1.8倍；在南京为1.35亿元，比上年同期增长25.4%。

104. 2018年1月份，该市工农业销售总额为（ ）亿元。

- A. 18.7
- B. 19.3
- C. 22.9
- D. 25.9

105. 2019年前两个月，该市一般农业销售额占农业销售总额的比重与上年同期相比：

- A. 下降了大约3.6%
- B. 上升了大约1%
- C. 上升了3.6%
- D. 持平

106. 该市2018年前两个月在上海实现的农业销售额约为（ ）亿元。

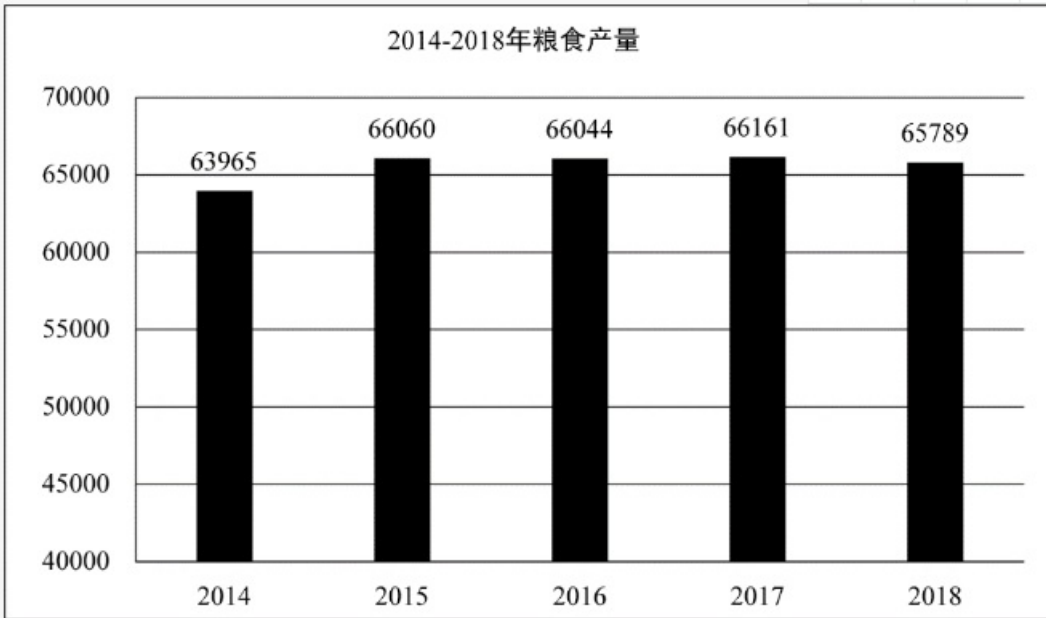
- A. 1.41
- B. 1.73
- C. 2.02
- D. 2.82

107. 与2018年同期相比，2019年前两个月该市在上面六个城市中农业销售额增长最多的是：

- A. 北京
- B. 广州
- C. 天津
- D. 深圳

2018年全年粮食种植面积11704万公顷，比上年减少95万公顷。其中，小麦种植面积2427万公顷，减少24万公顷；稻谷种植面积3019万公顷，减少56万公顷；玉米种植面积4213万公顷，减少27万公顷；棉花种植面积335万公顷，增加16万公顷；油料作物种植面积1289万公顷，减少33万公顷；糖料作物种植面积163万公顷，增加9万公顷。

2014~2018年每年粮食产量如下表所示，单位：万吨。2018年全年粮食产量65789万吨，比上年减少371万吨，减产0.6%。其中，夏粮产量13878万吨，减产2.1%；早稻产量2859万吨，减产4.3%；秋粮产量49052万吨，增产0.1%。全年谷物产量61019万吨，比上年减产0.8%。其中，稻谷产量21213万吨，减产0.3%；小麦产量13143万吨，减产2.2%；玉米产量25733万吨，减产0.7%。



108. 2018年粮食种植面积比2017年减少约为:

- A. 1.2%
- B. 0.4%
- C. 1.8%
- D. 0.8%

109. 2015~2018年粮食产量增产比例最大的年份是:

- A. 2015年
- B. 2016年
- C. 2017年
- D. 2018年

110. 由材料可以判断下列说法不正确的是:

- A. 2014~2018年粮食产量处于最低点的年份是2014年
- B. 2018年全年粮食产量有所减少, 其中各类粮食产量都有所下降
- C. 2014~2018年粮食产量一直处于增减交替状态
- D. 2018年全年粮食种植面积减少, 但棉花和糖料作物种植面积有所增加

★如何对答案: 打开公考通app, 进入历年真题, 录入答案后即可评分并查看解析。



扫码对答案