

2018 年军队文职笔试《公共科目》试卷
及参考答案

公考通网校

www.chinaexam.org



公考通 APP



微信公众平台

2018年军队文职笔试《公共科目》试卷题目及参考答案(网友回忆版)

注意事项:

1. 试卷分为基础知识和岗位能力两个部分,共 110 小题,总分 100,总时限 120 分,各部分用时自行掌握、请合理分配时间。
2. 请按照要求试卷、答题卡上填涂好自己的姓名、座序和准考证号,严禁折叠答题卡。
3. 必须在答题卡上答题,试题答错不倒扣分,在试卷上答题一律无效。
4. 监考员宣布考试开始时,方可答题;宣布考试结束时,应立即停止答题。试卷、答题卡和草稿纸一律留在桌面上,待监考员确认无误,允许离开后,方可离开考室。

第一部分 基础知识

一、单项选择题

(请根据题目要求,在四个选项中选出一个最恰当的答案。共 50 题,每题 0.5 分,共 25 分)

1. 首次招录聘用到科级副职以下或者专业技术十一级以下岗位文职人员的最高年龄是()。
A. 45 岁
B. 40 岁
C. 35 岁
D. 30 岁
2. 生产、销售伪劣产品罪的主观方面是()。
A. 故意
B. 直接故意
C. 间接故意
D. 故意,且具有非法牟利的目的
3. 我国自行研制生产的第一艘核潜艇命名为()。
A. “长征”一号
B. “长城”一号
C. “巨浪”一号
D. “共青团”号
4. 马克思把商品转换成货币称为“商品的惊险的跳跃”,“这个跳跃如果不成熟,坏的不是商品,但一定是商品占有者”。这是因为,只有商品变为货币,()。

- A. 货币才能转化为资本
 - B. 价值才能转化为使用价值
 - C. 抽象劳动才能转化为具体劳动
 - D. 私人劳动才能转化为社会劳动
5. 社会主义核心价值观对公民个人层面的要求是()。
- A. 富强、民主、文明、和谐
 - B. 爱国、敬业、诚信、友善
 - C. 自由、平等、公正、法治
 - D. 爱国、守法、明礼、诚信
6. 毛泽东对实事求是的科学含义作马克思主义的界定并将它提到党性高度的著作是()。
- A. 《反对本本主义》
 - B. 《改造我们的学习》
 - C. 《反对党八股》
 - D. 《整顿党的作风》
7. 文职人员因私出境, 按照()有关规定执行。
- A. 国家
 - B. 中央军委
 - C. 国家和军队
 - D. 本级单位
8. ()是引领发展的第一动力, 是建设现代化经济体系的战略支撑。
- A. 改革
 - B. 开放
 - C. 生产
 - D. 创新
9. 根据我国法律规定, 发明专利权的保护期限是()。
- A. 30 年
 - B. 20 年
 - C. 15 年
 - D. 10 年
10. ()不是 PM2.5 的主要来源。
- A. 汽车尾气

- B. 水面蒸发
 - C. 工业废气
 - D. 家用燃煤废气
11. “真理之川从他的错误之沟渠中流过这说明”，这说明（ ）
- A. 真理与谬误相互区别
 - B. 真理与谬误相互融合
 - C. 真理与误相比较而存在
 - D. 真理以谬误为基础而存在
12. （ ）首次提出“使市场在资源配置中起决定性作用和更好发挥政府作用”这一重大理论观点。
- A. 党的十八大
 - B. 党的十八届二中全会
 - C. 党的十届三中全会
 - D. 党的十九大
13. 衡量社会生产力发展水平的主要标志是（ ）
- A. 劳动资料
 - B. 生产工具
 - C. 劳动对象
 - D. 生产的产品
14. 级差地租产生的原因是（ ）
- A. 不同土地所有者拥有土地的数量不同
 - B. 土地的有限
 - C. 不同地块的肥沃程度不同和地理位置不同
 - D. 土地的经营权垄断
15. 文职人员除接受岗前培训、在岗培训、专业培训和任务培训外，还应该接受（ ）
- A. 学历教育
 - B. 参谋业务训练
 - C. 军事职业教育
 - D. 作战指挥训练
16. 20世纪改变人类生产方式和生活方式的高新技术不包括（ ）
- A. 电子计算机
 - B. 遗传工程

- C. 相对论
- D. 航天技术

17. 首先提出日心说的古希腊天文学家是()

- A. 阿利斯塔克
- B. 哥白尼
- C. 亚里士多德
- D. 欧多克斯

18. 习近平总书记在党的十九大报告中出. “()是坚持党的领导、人民当家作主、依法治国有机统一的根本政治制度安排, 必须长期坚持、不断完善。

- A. 人民代表大会制度
- B. 基层群众自治制度
- C. 政治协商制度
- D. 民族区域自治制度

19. 甲是精神病患者, 一日突然手持匕首追杀乙, 将乙逼至一房屋角落, 乙在无处可逃的情况下, 顺手将桌上的花瓶扔向甲, 致使甲右眼失明, 乙的行为构成()。

- A. 紧急避险
- B. 防卫过当
- C. 正当防卫
- D. 犯罪行为

20. 四书五经的内容是明代科举考试规定的命题范围。其中, 五经指的是()。

- A. 《诗经》《尚书》《礼记》《易经》《春秋》
- B. 《论语》《孟子》《大学》《易经》《中庸》
- C. 《诗经》《礼记》《论语》《春秋》《三字经》
- D. 《易经》《礼记》《诗经》《论语》《中庸》

21. 11岁男孩小丽的父亲作为小丽的代理人为小丽买了一架钢琴, 这在民法上成为()

- A. 法定代理
- B. 委托代理
- C. 指定代理
- D. 授权代

22. 下列说法错误的是()

- A. 陶渊明东晋著名诗人代表作《桃花源记》

- B. 鲁迅原名周树人，是我国现在伟大的无产阶级文学家、思想家、革命家
- C. 《诗经》是我国最早的部诗歌总结，收录了从西周到春秋时期的305篇诗歌
- D. 司马迁，东汉著名史学家，文学家代表作《史记》

23. 货币转化为资本的前提条件是（ ）

- A. 生产资料可以买卖
- B. 货币是一般等价物
- C. 货币是社会财富的一般代表
- D. 劳动力成为商品

24. 我军建军的时间是（ ）

- A. 1921年
- B. 1949年
- C. 1927年
- D. 1948年

25. 被誉为中国现代毕异的科学家是（ ）

- A. 王选
- B. 彭桓
- C. 朱光亚
- D. 李四光

26. 关于法认识，正确的是（ ）。

- A. 可以调整人与人之间的一切关系
- B. 好的法律文件必然会导致公正的法律后果
- C. 法是唯一的统治工具
- D. 法与现实生活总有一定程度的不适应柔

27. 党的十九大报告指出：发展是解决我国一切问题的基础和关键发展必须是科学发展，必须坚定不移贯彻（ ）的发展理念

- A. 创造、协调、绿色、开放、共享
- B. 创新、统筹、绿色、开放、共享
- C. 创新、统筹、生态、开放、共享
- D. 创新、协调、绿色、开放、共享

28. 黄埔军校是1924年由（ ）在广州创办的

- A. 中国共产党

- B. 中国国民党
- C. 中华革命党
- D. 俄共（布）

29. 决定我国现阶段多种所有制形式并存的根本原因是（ ）

- A. 社会生产力的多层次性
- B. 产品经济的存在
- C. 物质利益的差别
- D. 劳动就业的需要

30. 在商品价值的形成过程中，抽劳动（ ）

- A. 转移了生产资料价值
- B. 转移了劳动力价值
- C. 创造了新的价值
- D. 创造了新的使用价值

31. 中华人民共和国历史上的第一部宪法是（ ）

- A. 五四宪法
- B. 共同纲领
- C. 七五宪法
- D. 七八宪法

32. 马克思主义政治学的理论十分丰富，其中（ ）是理解马克思主义政治经济学的枢纽。

- A. 商品二因素理论
- B. 劳动二重性学说
- C. 剩余价值论
- D. 唯物史观

33. 某资本家出资100万元办厂，其中固定资本50万元，购买劳动力的流动资本25万元，平均每次投资获得利润为25万元，那么，该资本家每次投资的资本有机构成和剩余价值率是（ ）

- A. 4: 1, 25%
- B. 3: 1, 50%
- C. 4: 1, 200%
- D. 3: 1, 100%

34. 毛泽东思想被确立为中国共产党的指导思想是在党的（ ）

- A. 一大

- B. 七大
 - C. 三大
 - D. 六大
35. 南沙群岛自古以来就是中国领土，中国人早在（ ）时期就发现。
- A. 隋朝
 - B. 西汉
 - C. 晋朝
 - D. 东汉
36. 机密级军事秘密泄露后，会使国防和军队的安全与利益遭受（ ）
- A. 严重的损害
 - B. 一定的损害
 - C. 特别严重的相害
 - D. 无法弥补的损害
37. 秦始皇“焚书坑儒”的根本目的在于（ ）
- A. 加强君主专制统治
 - B. 压制知识分子
 - C. 区别对待古代文化
 - D. 促进社会经济发展
38. 决定商品价值量的是（ ）
- A. 简单劳动
 - B. 社会必要劳动时间
 - C. 商品的使用价值
 - D. 商品的价格
39. 我国历史上的第一部兵书是（ ）
- A. 《孙子兵法》
 - B. 《武经总要》
 - C. 《武经七书》
 - D. 《六韬》
40. 根据我国法律规定不属于中央军事委员会职权的是（ ）
- A. 决定战争状态的宣布
 - B. 统一指挥全国武装力量

- C. 制定军事法规
- D. 决定军队体制编制

41. 依法不能取得著作权的作品是（ ）

- A. 工程设计
- B. 地图
- C. 历法
- D. 口头作品

42. 随着私家车的大量增加，停车难的困境日益凸显。针对这一情况，某市规定闹市路边车位而地下车库车位5元/时，有效地缓解了停车的状况。这一过程中，经济杠杆能够发挥作用的根本原因是（ ）。

- A. 经济手段是以政府强制力为后盾的
- B. 经济手段能够弥补市场调节的
- C. 经济手段直接关系着市场主体的利益
- D. 经济手段能够抑制经济发展中的

43. 道德认识、情感和意志一旦变个人行动的指南和原则，则称为（ ）

- A. 道德品质
- B. 道德习惯
- C. 道德信念
- D. 道德理念

44. 国家直接用于防务和国防建设的财产，属于（ ）

- A. 国防资产
- B. 国有资产
- C. 军产
- D. 国防

45. 二进制数1101001转成十进制数是（ ）

- A. 83
- B. 73
- C. 63
- D. 53

46. 用人单位不能单方面解除劳动合同的情形是（ ）

- A. 劳动者试用期间被证明不符合录用条件
- B. 劳动者严重违反用人单位的规章制度

- C. 劳动者不能胜任工作
 - D. 劳动者存在双重劳动关系对本单位造成严重影响
47. 有关于计算机病毒防范措施，有错误的是（ ）
- A. 安装专业的病毒软件
 - B. 及时安装操作系统最新补丁
 - C. 关闭有线网卡改用无线网卡访问网络
 - D. 关闭FTP客户端等辅助服务
48. 马克思根据人的发展状况把人类历史划分为三大形态，三大形态是（ ）
- A. 自然经济社会、商品经济社会、时间经济社会
 - B. 人的依赖性社会、物的依赖性社会、人的自由全面发展社会
 - C. 原始公有制社会、私有制社会、共产主义公有制社会
 - D. 农业社会、工业社会、信息社会
49. 社会主义初级阶段是不可逾越的，主要取决于（ ）
- A. 市场经济的不可逾越性
 - B. 生产关系发展的不可逾越性
 - C. 文化传统的不可逾越性
 - D. 生产力发展的不可逾越性
50. 不属于“唐初四杰”的诗人是（ ）
- A. 王勃
 - B. 杨炯
 - C. 李贺
 - D. 卢照邻
49. 社会主义初级阶段是不可逾越的，主要取决于（ ）
- A. 市场经济的不可逾越性
 - B. 生产关系发展的不可逾越性
 - C. 文化传统的不可逾越性
 - D. 生产力发展的不可逾越性
50. 不属于“唐初四杰”的诗人是（ ）
- A. 王勃
 - B. 杨炯
 - C. 李贺

D. 卢照邻

二、多项选择题

(请根据题目要求,在五个选项中选出两个或两个以上恰当的答案,错选或多选均不得分,少选且选择正确的每个选项得 0.3 分。共 10 题,每题 1.5 分,共 15 分。)

51. 公有制的主体地位主要体现在()。

- A. 公有资产在社会总资产中占优势
- B. 国有经济在国民经济中的比重不断提高
- C. 国有经济的比重大于集体经济
- D. 国有经济在全国各个地区占有优势
- E. 国有经济控制国民经济命脉,对经济发展起主导作用

52. 现行《中国人民解放军保密条例》规定,对于是否属于军事秘密和属于何种密级不明确的事项,依照权限规定。具体有()。

- A. 秘密级有团级以上单位确定
- B. 机密级由师级以上单位确定
- C. 机密级由军级以上单位确定
- D. 绝密级由军级以上单位确定
- E. 秘密级由营级以上单位确定

53. 核能是一种清洁能源,它的排放物不包括()。

- A. 水蒸气
- B. 烟尘和固体废渣
- C. 二氧化碳
- D. 二氧化硫
- E. 氮氧化物

54. 19世纪英法空想社会主义的缺陷包括有哪些?()

- A. 没有正确认识社会发展规律
- B. 不能揭示资本主义必然灭亡的经济根源
- C. 缺少当时统治阶级的大力支持
- D. 找不到通往理想社会的显示道路
- E. 没有找到埋葬资本主义的社会力量

55. 属于要约失效的是()

- A. 要约人依法撤销要约

- B. 受要约人对要约的内容作出实质性修改
- C. 拒绝要约的通知到达要约人
- D. 承诺期限满，受要约人未进行承诺
- E. 在要约到达受要约人之前，要约人向受要约人发出了要约撤回的通知

56. 2013年7月，在国外访问的中共中央总书记、国家主席、中央军委主席习近平对吉林长春长生生物疫事件作出要指示的内容有（ ）

- A. 长春长生生物科技有限责任公司违法违规生产疫苗行为，性质恶劣，令人触目惊心
- B. 以猛药去疴、刮骨疗毒的决心，完善我国疫苗管理体制
- C. 对一切危害人民生命安全的违法犯罪行为坚决重拳打击，对不法分子坚决依法严惩，对监管失职渎职行为坚决严厉问责

- D. 尽早还人民群众一个安全、放心、可信任的生活环境
- E. 坚决守住安全底线，全力保障群众切身利益和社会安全稳定大同

57. 文职人员应当具备的基本条件包括（ ）。

- A. 具有中华人民共和国国籍，年满18周岁
- B. 具有本地户籍
- C. 符合军队招录聘用文职人员的政治条件
- D. 符合岗位要求的资格条件、身体和心理
- E. 法律、法规规定的其他条件

58. 关于犯罪中止的说法，正确的有（ ）

- A. 犯罪行为实施完毕，则不可能成立犯罪中止
- B. 对于中止犯，没有造成损害的，应当免除处罚
- C. 对于中止犯，造成损害的，应当减轻处罚
- D. 犯罪中止只可能出现在故意犯罪中
- E. 犯罪中止可以发生在犯罪的预备阶段

59. 习近平新时代中国特色社会主义思想，是（ ）。

- A. 对马克思列宁主义、毛泽东思想、邓小平理论、“三个代表”重要思想的继承和发展
- B. 马克思主义中国化最新成果
- C. 党和人民实践经验和集体智慧的结晶
- D. 中国特色社会主义理论体系的重要组成部分
- E. 全党全国人民为实现中华民族伟大复兴而奋斗的行动指南

60. 与第二次世界大战之前相比，当代发达资本主义国家的社会阶层、阶级结构发生了许多新的变化，主要

表现在（ ）。

- A. 知识型和服务型劳动者的数量随着科技革命的不断深入而持续增加
- B. 资本家由从前的直接生产经营者变成以剪息票为生的食利者
- C. 职工持股和参与决策使得劳动者成为资本家集团的重要力量
- D. 高级职业经理成为资本主义社会大公司经营活动的实际控制者
- E. “知本家”成为资本家集团产权的完全控制者

第二部分 岗位能力

一、言语理解与表达

(请根据题目要求，在四个选项中选出一个最恰当的答案。共 15 题，每题 1 分，共 15 分。)

61. 下列各组词语中，没有错别字的一组是（ ）。

- A. 澄澈 重蹈覆撤 震荡 振耳欲聋
- B. 踊跃 始作勇者 优异 怨天尤人
- C. 仓促 沧海桑田 恻隐 侧目而视
- D. 追溯 溯流求源 聪慧 拾人牙慧

62. 翻译时，“直译”偏重于对原文的忠实，“意译”偏重于译文语气的顺畅。哪种译法最妥当，人们各执己见。依我看，直译和意译的分别根本不应存在，忠实的翻译必定能尽量表达原文的意思。思想感情与语言是一致的，相随而变的，一个意思只有一个精确的说法，换一个说法，意味就完全不同。所以想尽量表达原文的意思，必须尽量保持原文的语句组织。因此，直译不能不是意译，而意译也不能不是直译。

这段文字中，作者认为（ ）。

- A. 应随原文意思灵活选择翻译方法
- B. 人为划分直译、意译本无必要
- C. 忠实于原文思想是翻译的最高艺术
- D. 翻译时应尽量减少译者个人风格

63. 一位长者对一个青年说：“批评和侮辱，就跟泥巴没什么两样。你看，我大衣上的泥点，是刚过马路溅上的。当时擦一定会很糟，所以等到泥巴干了再去处理。”但是，任何比喻都是蹩脚的，假如泥点变成了油漆，大衣变成了玻璃，再依据上面比喻中的逻辑，就适得其反。生活给我们准备了各种各样的逻辑，他们互不相同，也许还会打架，而我们奉行什么样的逻辑，会取决于自己。

最适合这段文字标题的是（ ）

- A. 异杂逻辑
- B. 生活中的逻辑不是单一的
- C. 批评与侮辱

D. 事物具有辩证性

64. 下列语句中，标点符号使用完全正确的是（ ）

A. “他爷爷身体好得很。”小王说，“爬起山来小伙子都跟不上。

B. 四大古典名著《红楼梦》《三国演义》《水浒传》《西游记》很畅销。

C. “我啊！多么想见到你呀！”我告诉他家乡已经变了样啦！他高兴得不得了。

D. 有的评论家说：“徐悲鸿笔下的马”，“神形兼备，充满生机”，充分表现了对徐悲鸿艺术作品的热爱

65. 下列句子中，表意明确、没有歧义的是（ ）

A. 我第一次见到他时，也不过才六七岁，如今已长大成人。

B. 华兴公司和威宝公司与数家国有企业签订了合作协议。

C. 纵然有这样那样的瑕疵，谁也无法否认《战狼》是部好影片。

D. 小李刚到家就接到师里的通知，让他5月20日前去报到。

66. 下列句子中，没有语病的是（ ）。

A、在此次少年科技创新大赛中，同学们常围在一起相互鼓励并认真总结得失，赢得的远远不只是比赛的胜负。

B. 不管是普及的程度还是比赛的数量和质量，同一些欧美国家相比，中国的盲人足球运动都还相去甚远。

C. 生态环境关系到每个人的生存，对于生态环境的破坏，只有减少环境污染；践行低碳环保的生活方式，才能逐渐得到改善。

D. 闪闪发光的银块，如果加工成极其细小、只有十分之几微米的银粉时，会变成黑色的，这是为什么呢？

67. 假若城市的教育资源能够在不同学校之间公平分配，那么就不会出现重点校与普通校的区别，也不会有一些教师因教育资源的过度聚集而“暴富”。假如教育资源在地域之间得到公平分配，边远山区的山村学校能获得更多的投入，那么，乡村教育就不会如此艰难。

不能表明这段文字作者观点和态度的是（ ）

A. 教育资源在不同学校之间应该公平分配

B. 城市教育资源相对集中，乡村教育资源比较匮乏

C. 教师贫富差距原因在于教师工作投入程度差异

D. 边远地区的山村学校需要更多的投入

68. 将下列5个句子重新排列，语序正确的是（ ）

①他们保存历史的唯一办法是将历史当作传说讲述，由讲述人一代接一代地将史实描述为传

②但是，没有人能把他们当时做的事情记载下来。

③这些传说是很有用的，因为它们能告诉我们以往人们迁居的情况

④我们从书籍中可以读到5000年前近东发生的事情，那里的人最早学会了写字

⑤但直到现在，世界上仍然有些地方，人们还不会书写。

- A. ①③②④⑤
- B. ④①③②⑤
- C. ①②③④⑤
- D. ④⑤③①②

69. 现存最早的密檐塔建于北魏正光四年（532年），位于河南登封嵩山成为嵩山寺塔。塔身呈12变形，每个角都有砖砌的倚柱，各面的门和龕上都饰有印度式的火焰纹拱券。塔身为15层砖墙，排列紧密并富有节奏感。它的创作构思，既摆脱了汉魏传统的楼阁，也不拘泥于印度的形式，而着力表现宗教在人民心中唤起的那种深邃而又神秘莫测的力量。此外，陕西西安的小雁塔，云南大理的崇圣寺塔也属于这一类型。

文中划线处“它的创作构思”中的“它”字指代的是（ ）

- A. 密檐塔
- B. 小雁塔
- C. 嵩岳寺塔
- D. 崇圣寺塔

70. 唐代诗人元稹《行宫》写道。“寥落古行宫，宫花寂寞红。白头宫女在，闲坐说玄宗。不符合这首诗诗意的是（ ）。

- A. 诗歌表现出寂寞、冷清之情景
- B. 诗人感叹人去物非、世事沧桑
- C. 诗人意在抒写人生历史之感
- D. 白头宫女长寿，记忆力颇好

71. 在下面文字的横线处，填上与上下文衔接最恰当的句子是（ ）。只有经济大大发展了，经济实力和综合国力大大增强了，_____。

- A. 国家才能长治久安，人民的生活才能不断改善，我们的腰杆子才能更硬，在国际上说话才能更有分量。
- B. 国家才能长治久安，我们的腰杆子才能更硬，人民的生活才能不断改善，在国际上说话才能更有分量。
- C. 人民的生活才能不断改善，我们的腰杆子才能更硬，国家才能长治久安，在国际上说话才能更有分量。
- D. 人民的生活才能不断改善，国家才能长治久安，我们的腰杆子才能更硬，在国际上说话才能更有分量。

72. 除了书本上的知识之外，我们更要明白“常识”的重要。只有学问而无常识，与人谈话时，会缺少轻松平易的话题。有你在座，空气即会紧张严肃，你就成为不受欢迎的人物。所谓常识，包罗万象，一切都该去留神知道，才可使你活泼风趣，谈起话来左右逢源。

这段话的主要意思是（ ）。

- A. 没有常识的人是没有价值的人

- B. 常识包括包罗万象
- C. 常识比学问更重要
- D. 缺乏常识的人很难与人交往

73. 依次填入划线处的关联词语，最恰当的一组是（ ）。

- ①上千吨的轮船碰上这样大的风浪也得上下颠簸，_____这么一条小船。
- ②挖这样的井，占地多，不合算，_____井的四周都是沙土，很容易塌陷。
- ③改革后，产品质量提高了，款式新颖了，_____包装也精美了，因而更加受到群众的欢迎。

- A. 何况 况且 而且
- B. 况且 何况 而且
- C. 况且 而且 况且
- D. 何况 而且 何况

74. 对中华民族优秀传统文化，我们要有一种敬畏之心，要为之感到自豪，要坚持“取其精华，去其糟粕”的原则，不断汲取优秀的传统文化来丰富发展当代文化，努力使中华文脉延绵不绝，发扬光大。但是，我们也必须清醒认识到，中华民族优秀传统文化虽然可以丰富发展当代文化，努力使中华文脉延绵不绝，发扬光大。但是，我们也必须清醒认识到，中华民族优秀传统文化虽然可以丰富发展当代文化，但不可能直降解决当代文化发展问题，解决当代文化发展问题的关键还是创新。

这段文字主要想表达的是（ ）。

- A. 我们要发扬传统文化以丰富发展当代文化
- B. 我们一定要使传统文化源远流长
- C. 发扬传统文化不能解决当代文化发展问题
- D. 当代文化发展需要汲取优秀传统文化，但重在创新

75. 央视《全球资讯榜》栏目有段广告：每天，我们只给你介绍三位全球热门人物：只报道最受关注的全球要闻事件；只评选出全球五大上榜公司；只发布全球最新的财政新闻；只介绍最具有想象力的前沿科技。《全球资讯榜》，中央电视台经济频道，每天中午 12 点。知讯者生存。对这段文字中“知讯者生存”的理解最准确的是（ ）

- A. 它的创意源于“只有偏执狂才能生存”，而“偏执狂”已不是“丧失理智的代名词”
- B. 原话中的“偏执狂”是指敢想敢干、敢打敢拼、敢爱敢恨、敢于创新的人
- C. 初听耸人听闻，细品觉得鞭辟入里、精致妥当
- D. 整个节目的品味升至一个境界：提供的是资讯，关注的是生存

- A. 13
- B. 16
- C. 18
- D. 19

80. 某城市某年的空气质量统计为优、良、轻度污染和中变污染四类。良的天数是优的天数的 2 倍，中度污染天数是轻度污染天数的 3 倍，优的天数的 4 倍与其它 3 类空气质量天数之和相等，那么，空气良的天数是（ ）

- A. 中度污染天数与轻度污染天数之和
- B. 轻度污染天数的 3 倍
- C. 优的天数与中度污染天数之和
- D. 中度污染天数的 1.5 倍

81. 现有 80 人进行射击比赛，所有人的总环数均不相同，小李的总环数排名为 61 位，小张的排名为倒数 36 位，小李与小张的排名之间有（ ）位

- A. 17
- B. 16
- C. 15
- D. 14

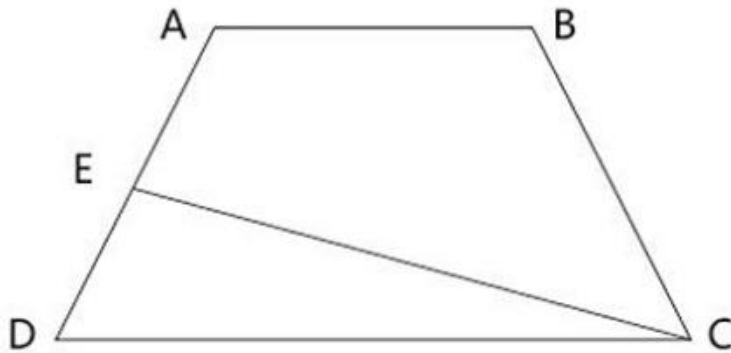
82. 水果店运来西瓜和白兰瓜的个数比是 7: 5。如果每天卖出白兰瓜 40 个，若干天后售完白兰瓜时，西瓜还剩 36 个，那么，水果店运来的西瓜有（ ）个。

- A. 240
- B. 360
- C. 476
- D. 336

83. 公司小张、小工、小李、小陈 4 人在作日轮流值班，每周五值班员要撰写一周小结。3 月 5 日周五小李值班撰写了小结，下一次小李撰写一周小结的日期是（ ）。

- A. 4 月 9 日
- B. 4 月 2 日
- C. 3 月 29 日
- D. 3 月 23 日

84. 如下图，ABCD 是一个梯形，E 是 AD 的中点，直线 CE 把梯形分成甲、乙两部分，其面积之比为 5: 2，那么上底与下底 CD 的长度之比是（ ）



- A. 2:5
- B. 3:5
- C. 3:4
- D. 4:7

85. (单选题) 从 19, 20, 21... 98, 99 这 81 个数中, 选取两个不同的数, 使其和为偶数的选发有 () 种。

- A. 1620
- B. 1580
- C. 1540
- D. 1600

86. 自由落体运动是指物体只在重力作用下从静止开始下落的运动。这种运动只有在真空条件下才能发生, 在有空气的时候, 如果空气的阻力作用比较小, 可以忽略不计, 则物体的下落可以近似看作自由落体运动。

根据上述定义, 可以近似看作自由落体运动的是 ()

- A. 树上的红枣因树枝被人摇晃从枝头落下
- B. 吊铅坠的细绳被磨断, 铅坠从屋顶掉下
- C. 敌机被我导弹击中坠落
- D. 传过来的毽子没被接住, 掉在地上

87. 下列选项中, 最为符合事件逻辑顺序的是 ()

- 1: 勤工俭学攒学费
- 2: 母亲患重病, 花光积蓄
- 3: 被医学院校录取
- 4: 父母离异
- 5: 立志学医

- A. 4-2-1-5-3
- B. 2-4-3-5-1

C. 4-2-5-3-1

D. 5-4-2-3-1

88. 甲、乙、丙、丁一起参加一次数学竞赛。赛后，他们四人预测名次的谈话如下：

甲：“丙第一，我第三”；

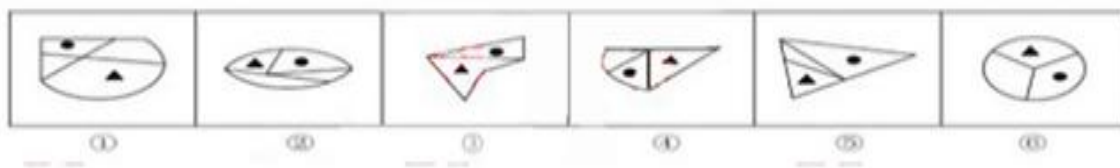
乙：“我第一，丁第四”；

丙：“丁第二，我第三”；

丁：没有说话。

最后公布结果时，发现甲、乙、丙三人的预测都只对了一半，则这次竞赛的第一名是（ ）

89. 把下面的六个图形分为两类，使每一个图形都有各自的共同特征或规律，分类正确的是（ ）



A. ①③⑤，②④⑥

B. ③④⑤，①②⑥

C. ②③⑥，①④⑤

D. ①②④，⑤③⑥

90. 根据逻辑关系上最为贴近、相似或匹配的原则，应填入划横线处的一组词是（ ）

坐井观天对（ ）相对于（ ）对于对答如流。

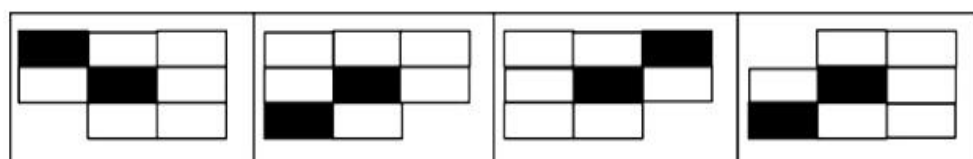
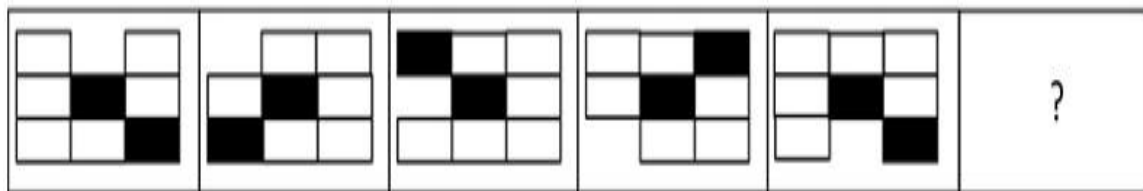
A. 半途而废 前程似锦

B. 滴水不漏 高瞻远瞩

C. 异想天开 运筹帷幄

D. 孤陋寡闻 胸有成竹

91. 选择最合适的一项填入问号处，使其呈现一定的规性。此项是（ ）



A

B

C

D

92. 下面所给词组在逻辑关系上最为贴近、相似或匹配的词组是（ ）

关羽：三国演义：身在曹营心在汉

- A. 曹植：洛神赋：翩若惊鸿，宛若游龙
- B. 岳飞：满江红：壮志饥餐，胡虏肉
- C. 孔子：论语：逝者如斯夫，不舍昼夜
- D. 杨玉环：长恨歌：回眸一笑百媚生

93. 为全面建设小康社会，必须全面深化改革开放。只有依靠全面的法制保障，才能确保有效实施改革开放。

如果没有党的全面建设从而确保党的坚强领导，是不可能实现有效的依法治国的。由此可以推测得出（ ）

- A. 要想加强党的建设，必须深化改革开放
- B. 没有党的全面建设，不可能实现小康社会
- C. 落实了全面依法治国，就能建成小康社会
- D. 不能全面改革开放，即是没有全面加强党的建设

94. 有人说，工作的时候，我们要将重要事务放在主要位置。重要事务是必要条件，关系着一件事情成功与否。重要的事务没做好，一定不成功。但是，细节也是很重要的，细节是成功的充分条件，同样也与一件事情成功与否相关，一个成功的人是能够重要事务与细节的关系的，由此可以推理得出（ ）

- A. 成功的前提条件是既要做好重要事务，又要处理好细节
- B. 如果不成功则说明重要事务没有做好
- C. 成功并不代表着所有细节都处理好了
- D. 虽然处理好了细节，但没做好重要事务，也不一定成功

95. 现在，不少民意调查都是以在线投票的方式来进行的，但这种调查往往忽略了没有上网习惯的人群的意见。有研究标明，没有上网可惯的人群的意见对民意调查的结果有着非常重要的影响，假设在线投票人都如实表达了自己的意见，那么最有可能从上述断定中推出来的是（ ）。

- A. 在进行民意调查时，在线投票这种方式比别的方式更重要
- B. 在线投票的结果通常很难完全反映民意
- C. 在进行民意调查时，街头访谈，电话调查等方式比在线投票更困难
- D. 在线投票的结果一能够完全反映民意

材料一：（根据所给材料回答以下问题）

材料 1：2016 年 A 省外贸进出口总额 2829.73 亿美元，比上年增长 24.4%。其中，进口总额 1390.45 亿美元，增长 22.1%；出口总额 1439.28 亿美元，增长 26.7%，全国国有企业出口 285.98 亿美元，增长 15%；全年民营企业完成出口 162.73 亿美元，比上年增长 40.8%；外商投资企业出口 978.15 亿美元，增长 28.8%。

96. 2016 年 A 省国有企业出口额大的占 A 省全年外贸进出口总额的（ ）。

- A. 20%
- B. 15%
- C. 5%
- D. 10%

97. 下列关于 2016 年 A 省外贸进出口情况的说法中，正确的是（ ）

- A. 民营企业的出口额虽不高，但出口额的增速处于领先地位
- B. 2016 年 A 省出口总额的增长速度比进口总额增长速度快 3.5 个百分点
- C. 外商投资企业的出口额最高，出口额的增长速度最快
- D. 2016 年 A 省进口总额占外贸进出口总额的比重大约为 51%

98. 2016 年 A 省的外贸进出口总额为（ ）亿美元

- A. 1117.73
- B. 1156.98
- C. 2274.7
- D. 2233.41

99. 2016 年 A 省除国有企业、民营企业和外商投资企业外的其它类型企业出口额为（ ）亿美元。

- A. 13.42
- B. 12.42
- C. 15.35
- D. 12.52

材料 2：在一次阶段测验中，某班级的 3 个学习小组测验成绩记录如下（其中一个数字缺失，用△表示）：

A 组：83、82、90、98、67（小组平均 84 分）

B 组：82、83、85、82（小组平均 83 分）

C 组：99、1△、85、90、95（小组平均 77 分）

100. 三个学习小组全体同学测验分数的众数是（ ）

- A. 82
- B. 85
- C. 90
- D. 无法计算

101. 三个学习小组全体同学的平均分大约是（ ）

- A. 平均分
- B. 中位数

- C. 众数
- D. 以上三个均可

102. 三个学习小组全体同学的平均分大约是 ()

- A. 81.2
- B. 81.3
- C. 81.1
- D. 无法计算

103. 根据这次测验成绩的实际分布情况, 应该把 () 作为本次测验的整体平均水平。

- A. 平均分
- B. 中位数
- C. 众数
- D. 以上三个均可

104. 深圳成指在近三年各季度收盘价下的有 () 个季度。

- A. 6
- B. 5
- C. 4
- D. 3

材料 3:



2015年—2017年上证综指和深圳成指变化情况图

105. 上证综指 2017 年各季度收盘价环比增长最快的是 ()

- A. 第四季度
- B. 第三季度
- C. 第二季度
- D. 第一季度

106. 深圳成指和上证综指在2017年底同比涨幅分别为（ ）

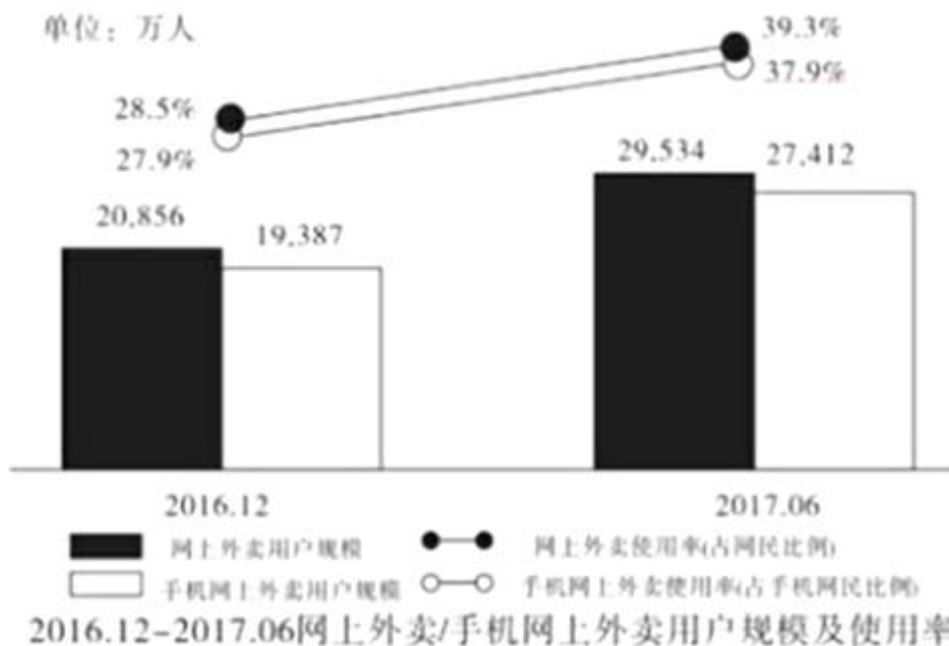
- A. 8.5%和6.6%
- B. -0.4%和-1.3%
- C. -3.7%和3.3%
- D. -19.6%和-12.3%

107. 根据材料中的内容，可以得到下结论，正确的一组是（ ）

- (1) 近三年来上证综指变动有升有降，变动幅度较大
- (2) 按照季度收盘价计算，近三年来上证综指和深圳成指总是同升同降
- (3) 深圳成指近三年来一直在10000点以上运行
- (4) 按照两个折线的发展趋势，2018年这两个指数肯定还是震荡向上

- A. (1)
- B. (1)、(2)、(3)
- C. (1)、(2)、(4)
- D. (1)、(2)、(3)

材料4:




108. 2017年6月我国手机网上外卖用户达到（ ）
- A. 2. 0856
- B. 2. 7412
- C. 1. 9387
- D. 2. 9534
109. 2017年6月我国网上外卖用户增长（ ）亿人
- A. 0. 80
- B. 0. 87
- C. 0. 21
- D. 0. 15
110. 2017年6月我国手机用户达到（ ）亿人
- A. 6. 94
- B. 7. 31
- C. 7. 52
- D. 7. 23

参考答案

1. 答案： C 2. 答案： D 3. 答案： A 4. 答案： D 5. 答案： B
6. 答案： B 7. 答案： C 8. 答案： D 9. 答案： B 10. 答案： B
11. 答案： C 12. 答案： C 13. 答案： B 14. 答案： D 15. 答案： C
16. 答案： C 17. 答案： A 18. 答案： A 19. 答案： C 20. 答案： A
21. 答案： A 22. 答案： D 23. 答案： D 24. 答案： C 25. 答案： A
26. 答案： D 27. 答案： D 28. 答案： B 29. 答案： A 30. 答案： C
31. 答案： A 32. 答案： B 33. 答案： D 34. 答案： B 35. 答案： B
36. 答案： A 37. 答案： A 38. 答案： B 39. 答案： A 40. 答案： A
41. 答案： A 42. 答案： C 43. 答案： C 44. 答案： A 45. 答案： B
46. 答案： C 47. 答案： C 48. 答案： B 49. 答案： D 50. 答案： C
51. 答案： AE 52. 答案： ABD 53. 答案： BCDE 54. 答案： ABDE 55. 答案： ABCD
56. 答案： ABE 57. 答案： ACDE 58. 答案： BCDE 59. 答案： ABCDE 60. 答案： ABD

61. 答案: D 62. 答案: D 63. 答案: A 64. 答案: B 65. 答案: C
66. 答案: B 67. 答案: C 68. 答案: D 69. 答案: C 70. 答案: D
71. 答案: D 72. 答案: D 73. 答案: A 74. 答案: D 75. 答案: D
76. 答案: D 77. 答案: B 78. 答案: A 79. 答案: 80. 答案: A
81. 答案: C 82. 答案: D 83. 答案: B 84. 答案: C 85. 答案: D
86. 答案: B 87. 答案: C 88. 答案: C 89. 答案: D 90. 答案: D
91. 答案: B 92. 答案: D 93. 答案: B 94. 答案: C 95. 答案: B
96. 答案: D 97. 答案: A 98. 答案: C 99. 答案: B 100. 答案: A
101. 答案: B 102. 答案: A 103. 答案: A 104. 答案: C 105. 答案: B
106. 答案: A 107. 答案: A 108. 答案: B 109. 答案: B 110. 答案: D



美好的事情即将发生...

something wonderful is about to happen



公考通